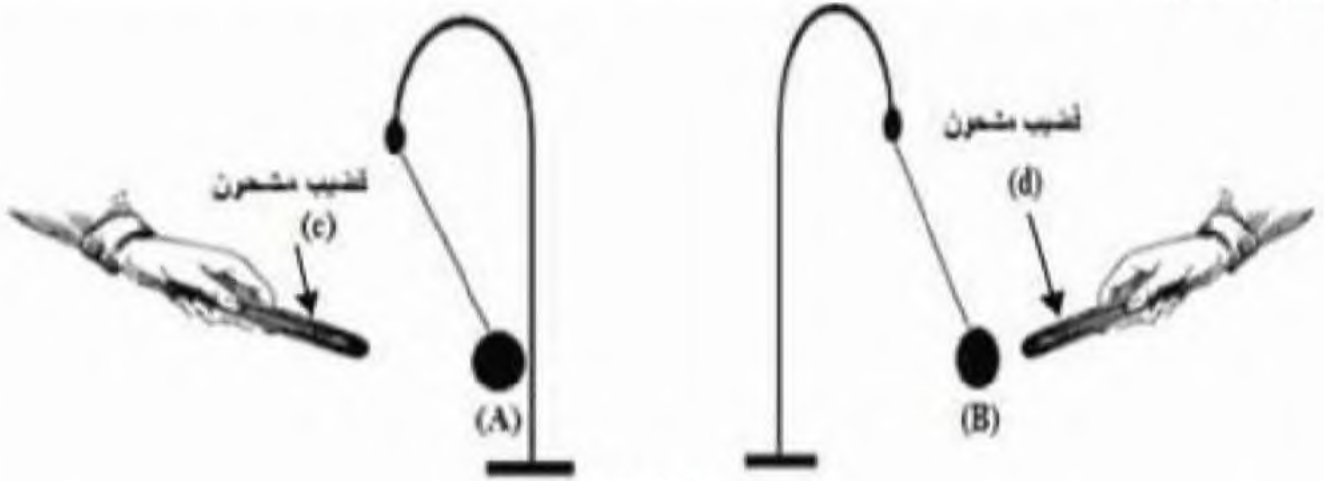


المراقبة المستمرة للثلاثي الأول في مادة العلوم الفيزيائية و التكنولوجيا

الوضعية 1: (8 ن)

بعد إتمام درسي "التكهرب" و "الأفعال المتبادلة بين الأجسام المشحونة"، أراد الأستاذ معرفة مدى استيعاب و فهم التلاميذ لهذين الموردتين فقام بتقسيم التلاميذ إلى فوجين وأعطاهم الوسائل اللازمة لإجراء تجربتين.

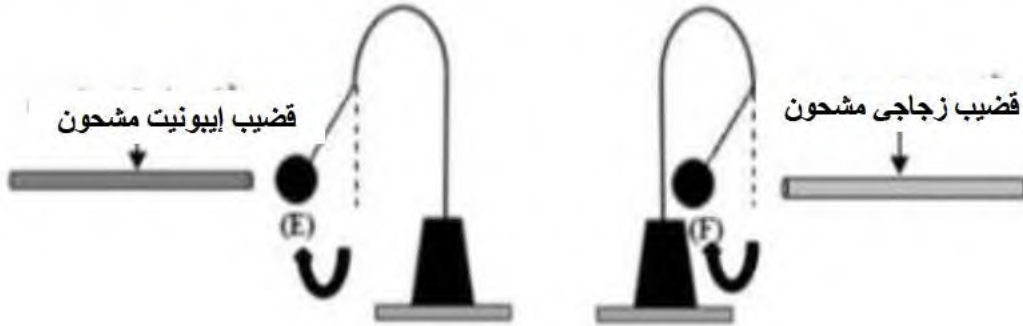
التجربة 1: ذلك قضيبين مختلفين (C) و (D) بقطعة صوف و تقريبيهما من كرتي نواسين (A) و (B) مشحونتين بشحنة موجبة (السند 1).



السند 1

1. حدد نوع شحنة كل قضيب مع التعليل ثم استنتج مادة صنع كل منهما.
2. أذكر الطريقة التي اعتمدها التلاميذ من أجل شحن القضيبين.

التجربة 2: تقرب قضيبين مشحونين واحد من الإيونييت و الثاني من الزجاج من كرتي نواسين (E) و (F) مشحونتين (السند 2).



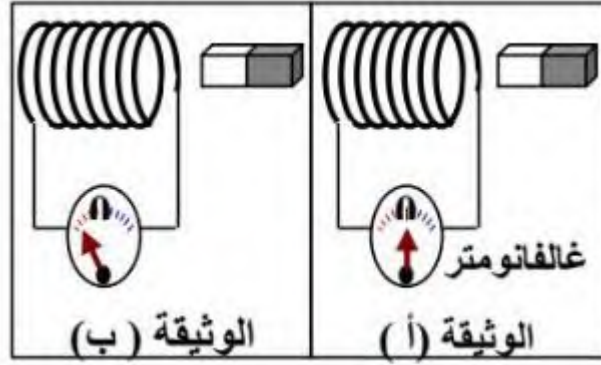
السند 2

3. اعتمادا على "السند 2" حدد نوع شحنة كل من الكرتين (E) و (F). علل إجابتك.

الوضعية 2: (12 ن)**الجزء 1:**

الجزائر بلد غني بالطاقات المتجددة مثل طاقة الرياح، حيث يتم استغلالها في إنتاج التيار الكهربائي بالإعتماد على ظاهرة التحريض الكهرومغناطيسي.

من أجل دراسة هذه الظاهرة، قام التلاميذ بإجراء التجربة الموضحة في السند 3.

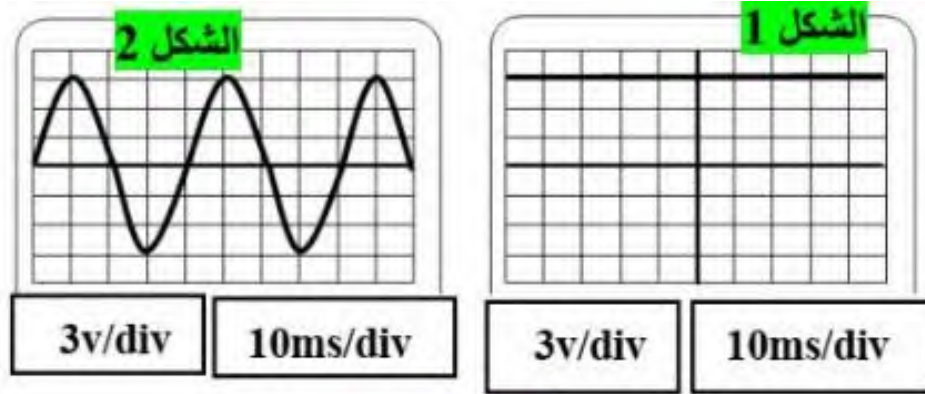


السند 3

1. في أي وثيقة نعتبر المغناطيس في حالة حركة ؟ علل إجابتك.
2. سم جهازا درستته يعتمد في عمله على هذه الظاهرة.
3. ما نوع التيار الذي ينتجه هذا الجهاز؟ أذكر خصائصه (الشدة، الجهة و الرمز).

الجزء 2:

نوصل بين طرفي هذا الجهاز راسم الإهتزاز المهبطي فيظهر على شاشته أحد المنحنيين المبينين في السند 4.



السند 4

1. برأيك أي من الشكلين يوافق الظاهرة المدروسة ؟ ماذا يمثل الشكل الآخر؟
2. أوجد بيانيا التوتر الأعظمي U_{max} و الدور T ؟
3. نستبدل راسم الإهتزاز المهبطي بجهاز الفولط متر. استنتج القيمة التي يسجلها هذا الأخير .

بالتوفيق للجميع