

السنة الدراسية : 2024 - 2025	فرض الفصل الأول في التاريخ و الجغرافيا	السنة الرابعة متوسط
النموذج رقم : 01		الأستاذ : فوزي إبلعدين

مادة التاريخ : (13 نقطة)

الوضعية الأولى : (05 ن)

ان البحث عن الوثائق والعناية بها بالحفظ والصيانة الدوري مرتبط ارتباط وثيق ب(الحس الوطني) - ماهي اهمية الوثائق التاريخية ؟.

الوضعية الثانية : (04 ن)

- صنف مايلي وفق الجدول التالي :
حادثة المروحة - الطمع في خيرات و ثروات الجزائر - توجيه الراي العام نحو الخارج - تفتيش الباخرة الفرنسية..

الاسباب المباشرة	الاسباب الغير مباشرة

الوضعية الثالثة : (02 ن)

اليك الوثيقة التاريخية التالية :

« خطاب الرئيس الفرنسي شارل ديغول في 20 نوفمبر 1959م بفرنسا »

[... اقول مرة اخرى ان كان قادة الثورة يريدون التباحث مع السلطات حول نهاية المعارك ففي استطاعتهم ذلك ضمن شروط ايقاف القتال ستكون مشرفة وستحترم حرية وكرامة كل فرد....] من الكتاب المدرسي ص 118.
التعليمة : ادرس الوثيقة اعلاه دراسة تاريخية من حيث التقديم .

الوضعية الرابعة : (02 ن)

حدثكم استاذكم في القسم عن حدثين هامين في الجزائر الاول افقدها هيبتها وقوتها ، والثاني اتخذ كذريعة للاحتلال * عرف هذين الحدثين ؟

الوضعية الأولى : (03 ن)

تتنوع تضاريس الجزائر من من الشمال الى الجنوب، فمن شريط ساحلي اقلبه سهول الى هضاب ثم صحراء...
- عرف المصطلحات التالية : رق - العرق

الوضعية الثانية : (03 ن)

قارن في جدول بين السهول الساحلية و السهول الداخلية

السهول الداخلية	السهول الساحلية

الوضعية الثالثة : (03 ن)

* علل ما يلي :

- ارتفاع كمية التساقط في الشرق وتناقصها في الغرب وقتها في الجنوب ؟
- لماذا تعرف الاودية بالجنوب بالودية الكاذبة ؟
- كثرة الواحات بالمنحفظ الشمالي الشرقي

السنة الدراسية : 2024 - 2025	الإجابة النموذجية لفرض الفصل الأول في التاريخ و الجغرافيا	السنة الرابعة متوسط
النموذج رقم : 01		الأستاذ : فوزي إبلعدين

مادة التاريخ : (13 نقطة)

الوضعية الأولى : (03 ن)

أهمية الوثيقة التاريخية :

- تعد جزء من الأرشيف الإنساني
- مصدر يثري البحث التاريخي .
- تمكن الباحث من فهم الوقائع التاريخية
- إظهار هوية الأمم و الشعوب والحضارات السابقة.

الوضعية الثانية : (03 ن)

- صنف ماييلي وفق الجدول التالي :

حادثة المروحة - الطمع في خيرات و ثروات الجزائر - توجيه الراي العام نحو الخارج - تفتيش الباخرة الفرنسية.

الاسباب المباشرة	الاسباب الغير مباشرة
- الطمع في خيرات و ثروات الجزائر - توجيه الراي العام نحو الخارج	- حادثة المروحة - تفتيش الباخرة الفرنسية

الوضعية الثالثة : (03 ن)

دراسة الوثيقة التاريخية من حيث التقديم :

طبيعة الوثيقة	مصدر الوثيقة	صاحب الوثيقة	الإطار الزمني و المكاني
خطاب	الكتاب المدرسي ص 118	الجنرال شارل ديغول رئيس فرنسا منذ سنة 1958 م	20 نوفمبر 1959م بفرنسا

الوضعية الرابعة : (03 ن)

الحدث الاول الذي أفقد الجزائر هيبتها وقوتها : هو معركة نافارين في 20 أكتوبر 1827 الذي شارك في الأسطول الجزائري رفقة الأسطول العثماني مما أدى إلى تحطم معظم وحداته وهذا ما أفقد الجزائر هيبتها و قوتها .

الحدث الثاني الذي اتخذ كذريعة للاحتلال : هي حادثة المروحة في 29 أبريل 1827 و التي قام فيها الداي حسين بالتلويح بمروحة ضد القنصل الفرنسي مما إعتبرته هذه الأخيرة إهانة لها و إتخذته كذريعة للاحتلال

الوضعية الأولى : (03 ن)

- عرف المصطلحات التالية :

- الرق : سهل صحراوي مغطى بالحصى

- العرق : مساحات واسعة من الكثبان الرملية

الوضعية الثانية : (03 ن)

قارن في جدول بين السهول الساحلية و السهول الداخلية

السهول الداخلية	السهول الساحلية
- تربتها أقل خصوبة	- تربتها خصبة جدا
- بعيدة عن البحر	- قريبة من البحر
- مرتفعة	- منخفضة
- واسعة	- ضيقة

الوضعية الثالثة : (03 ن)

* علل ما يلي :

- ارتفاع كمية التساقط في الشرق وتناقصها في الغرب وقتها في الجنوب : بسبب الحاجز التضاريسي في كل من المغرب الأقصى و شبه الجزيرة الإيبيرية الذي يعترض الرياح المشبعة ببخار الماء من الوصول لهذه المنطقة أما الجنوب فيقل التساقط بسبب الإبتعاد عن المسطحات المائية و وجود الحوز (سلسلتي الأطلس التلي و الصحراوي)

- لماذا تعرف الاودية بالجنوب بالودية الكاذبة : لأنها تظهر فجأة و تختفي فجأة أخرى و لأنها مرتبطة بالتساقط

- كثرة الواحات بالمنخفض الشمالي الشرقي : بسبب وجود المياه الجوفية بكثرة في تلك المنطقة

السنة الدراسية : 2024 - 2025	فرض الفصل الأول في التاريخ و الجغرافيا	السنة الرابعة متوسط
النموذج رقم : 02		الأستاذ : فوزي إبلعدين

مادة التاريخ : (13 نقطة)

الوضعية الأولى : (03 ن)

يعتبر بيان اول نوفمبر 1954 دستور الثورة وروحها من خلال دراستك له اجب بدقة واختصار على :

- 1 - الدافع الرئيسي لاختياره ؟
- 2 - ابرز اهم النقاط الاساسية التي تضمنها ؟

الوضعية الثانية :

خطاب الماريشال كلوزيل يوم 10 اوت 1835 بمناسبة تعيينه حاكما عاما على الجزائر للمستوطنين قائلا :
« يجب ان تعلمو ان هذه القوة العسكرية هي تحت غمرتي ماهي الا وسيلة ثانوية، ذلك انه لايمكن ان تغرس العروق هنا الا بواسطة الهجرة الاوروبية فقط، ولكم ان تنشؤو من المزارع ما تشاؤون ولكم ان تستولو عليها في المناطق التي نحتلها وكونو على يقين انن سنحميكم بكل ما نملك بالقوة بالصبر والمثابرة سوف يعيش شعب جديد، وسوف يكبر ويزيد »
الكتاب المدرسي ص 25

التعليمة : ادرس الوثيقة اعلاه دراسة تاريخية من حيث التقديم .

الوضعية الثالثة : (03 ن)

- عدد امثلة عن الوثائق التي عرفتها الجزائر خلال الحقبة الاستعمارية.(ثلاث وثائق فقط) .

الوضعية الرابعة : (03 ن)

- اليك الوثائق التالية صنفها حسب الجدول التالي :

رواية شفوية - معاهدة - مقال صحفي - دستور - شهادة مكتوبة - رسالة دبلوماسية .

وثائق ذات مرجع رسمي	وثائق ذات مرجع غير رسمي

الوضعية الأولى : (02 ن)

اشرح ما يلي :

- المظهر الهيدروغرافي - الشط .

الوضعية الثانية : (03 ن)

تظهر ثلاث نطاقات مناخية رئيسية في الجزائر لها بصمات مميزة
*اذكر الاقاليم المناخية الموجودة بالجزائر.

الوضعية الثالثة :

اليك خريطة الجزائر :

- حدد موقع الجزائر باستخدام الاحداثيات الجغرافية ؟ مع ذكر درجاتها .

السنة الدراسية : 2024 - 2025	الإجابة النموذجية لفرض الفصل الأول في التاريخ و الجغرافيا	السنة الرابعة متوسط
النموذج رقم : 02		الأستاذ : فوزي إبلعدين
مادة التاريخ : (13 نقطة)		

الوضعية الأولى : (03 ن)

يعتبر بيان اول نوفمبر 1954 دستور الثورة وروحها من خلال دراستك له اجب بدقة واختصار على :

1 - الدافع الرئيسي لاختياره ؟

أصدرت جبهة التحرير الوطني بيان أول نوفمبر في شكل نداء وجه إلى كافة شرائح الشعب الجزائري ليلة الفاتح نوفمبر 1954م يبين الغرض من إصداره والمتمثلة في توضيح أسباب اللجوء للعمل المسلح، والهدف الرئيسي منه (تحرير البلاد من الاحتلال الفرنسي وتحقيق الاستقلال)،

2 - ابرز اهم النقاط الاساسية التي تضمنها ؟

- الظروف و العوامل التي أدت لصياغة هذا البيان
- تحديد الأهداف الداخلية و الخارجية للثورة ووسائل كفاحها
- إعلان شروط التسوية الممكنة مع الإستعمار الفرنسي
- دعوة عامة للشعب للإنضمام و الإلتفاف حول الثورة

الوضعية الثانية : (03 ن)

الإطار الزمني و المكاني	صاحب الوثيقة	مصدر الوثيقة	
10 أوت 1835 الجزائر	كلوزيل ماريشال فرنسي شارك في الحملة على الجزائر عين حاكما عليها (1830 - 1831) - (1835 - 1837)	الكتاب المدرسي ص 25	خطاب

الوضعية الثالثة : (03 ن)

- عدد امثلة عن الوثائق التي عرفتها الجزائر خلال الحقبة الاستعمارية.(ثلاث وثائق فقط) .
- بيان أول نوفمبر - ميثاق الصومام - بيان 10 فيفري 1943 .

الوضعية الرابعة : - اليك الوثائق التالية صنفها حسب الجدول التالي : (03 ن)

رواية شفوية - معاهدة - مقال صحفي - دستور - شهادة مكتوبة - رسالة دبلوماسية .

وثائق ذات مرجع رسمي	وثائق ذات مرجع غير رسمي
معاهدة - دستور - رسالة دبلوماسية	رواية شفوية - مقال صحفي - شهادة مكتوبة

الوضعية الأولى : اشرح ما يلي : (02 ن)

- المظهر الهيدروغرافي : خريطة التوزيع الجغرافي للمجري المائية

- الشط : بحيرة ملحية تتبخر مياهها في فصل الصيف

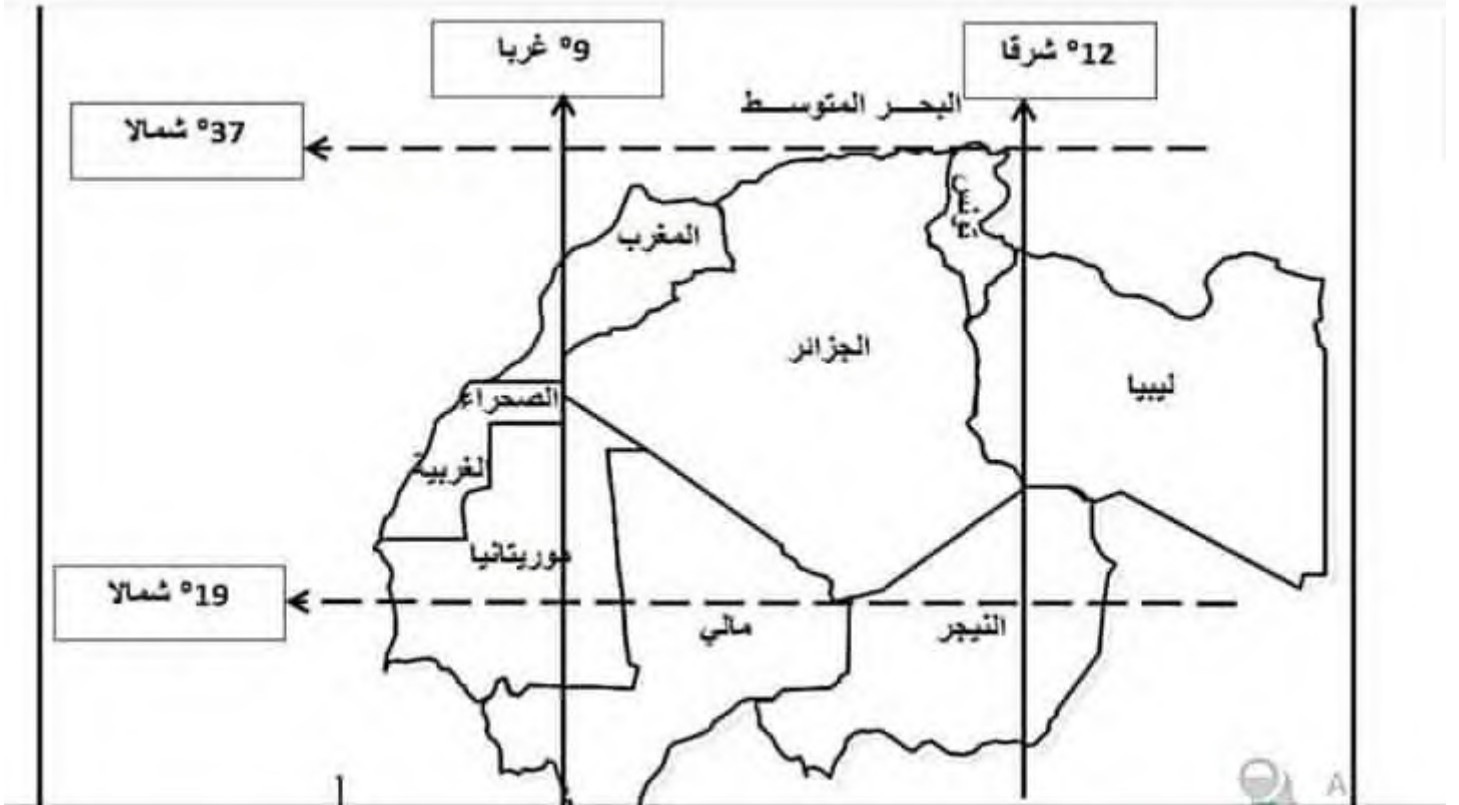
الوضعية الثانية : اذكر الاقاليم المناخية الموجودة بالجزائر. (03 ن)

أ) مناخ البحر الأبيض المتوسط : يسود المنطقة المنحصرة بين البحر الأبيض المتوسط والأطلس التلي ، ويتميز بشتائه المعتدل والممطر و صيفه الحار والجاف ومداد الحراري المنخفض

ب) المناخ القاري : يسود المنطقة المنحصرة بين الأطلسين التلي والصحراوي ويتميز بشتائه البارد والممطر وصيفه الحار والجاف واتساع مداه الحراري **ج) المناخ الصحراوي** : يسود جنوب الجزائر (الصحراء) ويمتاز بحرارته وجفافه معظم أيام السنة

الوضعية الثالثة :

اليك خريطة الجزائر : حدد موقع الجزائر باستخدام الاحداثيات الجغرافية ؟ مع ذكر درجاتها .



السنة الدراسية : 2024 - 2025	فرض الفصل الأول في التاريخ و الجغرافيا	السنة الرابعة متوسط
النموذج رقم : 03		الأستاذ : فوزي إبلعدين

مادة التاريخ : (13 نقطة)

الوضعية الأولى : (03 ن)

مقتطف من رسالة بولينياك الى السفير البابوي في 17 ماي 1830 :

« تلقيت مذكرة في 7 من هذا الشهر(،،،) التي بواسطتها يطالب فخامته باسم قداسة البابا من حكومة الملك، اتخاذ الاجراءات الضرورية التي يحصل عليها اصحاب السفينتين اللتان احتجزتا من طرف الجزائريين يوم 18 جويلية 1829، يحصلان على تعويضات لخسارتهم لهاتين الباخرتين ومؤنهم . »

(كتاب التعليمات ارشيف الفاتيكان السري حول غزو الجزائر... لورا فيشيا فاقلبيري ص 54)

1 - ادرس الوثيقة اعلاه دراسة تاريخية من حيث مرحلة التقديم.

الوضعية الثانية : (03 ن)

- صنف خطوات دراسة الوثيقة التاريخية في الجدول مما يلي :

مصدر الوثيقة - تقييم الوثيقة - تحديد الفكرة العامة - تحديد الاطار الزماني والمكاني .

مرحلة التقديم	مرحلة التحليل	مرحلة الاستنتاج

الوضعية الثالثة : (03 ن)

حدد احداث التواريخ الآتية :

12 ماي 1830 م - 29 افريل 1827 م - 1 نوفمبر 1954 م -

الوضعية الرابعة : (04 ن)

• قدم رايك منتقدا ، ماجاء في رسالة بولينياك من مبررات لغزو الجزائر .

الوضعية الأولى : (03 ن)

هات تعريفاً للمفاهيم الآتية : - الحمادة - المدى الحراري .

الوضعية الثانية : (03 ن)

- صنف المظاهر التضاريسية التالية حسب الجدول مما يلي :
« جبال الأوراس - منخفض ملغيغ - جبل الحضنة - حمادة دراع »

الاقليم الجنوبي	الاقليم الشمالي

الوضعية الثالثة : (03 ن)

موقع الجزائر حيوي واستراتيجي يجمع بين عدة خصائص جعلت منه موقع ذا اهمية على عدة مستويات..
- وضح ذلك في (3) اسطر.
- اذكر مميزات الاقليم الشمالي من حيث (الجبال، السهول و الهضاب).

السنة الدراسية : 2024 - 2025	الإجابة النموذجية لفرض الفصل الأول في التاريخ و الجغرافيا	السنة الرابعة متوسط
النموذج رقم : 03		الأستاذ : فوزي إبلعدين

مادة التاريخ : (13 نقطة)

الوضعية الأولى : (03 ن)

1 - ادرس الوثيقة دراسة تاريخية من حيث مرحلة التقديم.

الإطار الزمني و المكاني	صاحب الوثيقة	مصدر الوثيقة	
17 ماي 1830 فرنسا	بولينياك هو رئيس الوزراء ووزير الخارجية الفرنسي في عهد الملك شارل العاشر من مواليد 1780	كتاب التعليمات ارشيف الفاتيكان السري حول غزو الجزائر ص 54	رسالة

الوضعية الثانية : (03 ن)

- صنف خطوات دراسة الوثيقة التاريخية في الجدول مما يلي :

مصدر الوثيقة - تقييم الوثيقة - تحديد الفكرة العامة - تحديد الاطار الزمني والمكاني .

مرحلة التقديم	مرحلة التحليل	مرحلة الاستنتاج
مصدر الوثيقة	تحديد الفكرة العامة تحديد الاطار الزمني والمكاني.	تقييم الوثيقة

الوضعية الثالثة : (03 ن)

حدد احداث التواريخ الآتية :

- 12 ماي 1830م : رسالة بولينياك

- 29 افريل 1827م : حادثة المروحة

- 1 نوفمبر 1954م : إصدار بيان أول نوفمبر

الوضعية الرابعة : (04 ن)

- قدم رأيك منتقدا ، ماجاء في رسالة بولينياك من مبررات لغزو الجزائر : كل ما ذكره بولينياك في رسالته حول

أسباب إحتلال فرنسا للجزائر تعتبر أسباب غير حقيقية و لم يتطرق إلى العوامل التي كانت تهدف فرنسا لتحقيقها

من خلال هذا الاحتلال كالطمع في الثروات و الخيرات و نشر المسيحية و التخلص من الديون و الفائض السكاني

الوضعية الأولى : (03 ن)

هات تعريفا للمفاهيم الآتية :

- الحمادة : هضبة صخرية جيرية على شكل صفائح

- المدى الحراري : الفرق بين أعلى و ادنى درجة حرارة

الوضعية الثانية : (03 ن)

- صنف المظاهر التضاريسية التالية حسب الجدول مما يلي :

« جبال الاوراس - منخفض ملغيغ - جبل الحضنة - حمادة دراع »

الاقليم الجنوبي	الاقليم الشمالي
منخفض ملغيغ	جبال الاوراس
حمادة دراع	جبل الحضنة

الوضعية الثالثة : (03 ن)

موقع الجزائر حيوي واستراتيجي يجمع بين عدة خصائص جعلت منه موقع ذا اهمية على عدة مستويات..

- وضح ذلك في (3) اسطر.

فلكيا لموقع الجزائر أهمية كبيرة من خلال الإمتداد من العروض الحارة للمعتدلة و مرور مدار السرطان بجنوب الجزائر أما جغرافيا فتتوسط الجزائر دول المغرب العربي و تشرف على البحر الأبيض المتوسط كما تمثل 8 % من مساحة إفريقيا بوابتها الشمالية و تعتبر ملتقى الطرق التجارية العالمية

- اذكر مميزات الاقليم الشمالي من حيث (الجبال، السهول و الهضاب) : يتميز الإقليم الشمالي بتنوع و إختلاف تضاريسه مقارنة بالإقليم الجنوبي من جبال (سلسلتي الأطلس التلي و الصحراوي) وهضاب عليا و سهول ساحلية و داخلية أغلبها تضاريس حديثة التكوين

السنة الدراسية : 2024 - 2025	فرض الفصل الأول في التاريخ و الجغرافيا	السنة الرابعة متوسط
النموذج رقم : 04		الأستاذ : فوزي إبلعدين

مادة التاريخ : (13 نقطة)

الوضعية الأولى : (03 ن)

حدد تواريخ الاحداث التالية :

- رسالة بوليناك - انطلاق الحملة الفرنسية من ميناء طولون - معركة سطاوالي - سقوط العاصمة .

الوضعية الثانية : (03 ن)

- فرضت فرنسا حصارا بحريا على الجزائر دام ثلاث سنوات .
- وضح سبب ذلك في ثلاث نقاط ؟

الوضعية الثالثة : (03 ن)

- تستخدم الوثيقة التاريخية في معرفة الحقائق التاريخية.
- اذكر سببين برر بهما بوليناك الحملة الفرنسية على الجزائر في رسالته التي وجهها لملوك وامراء اوروبا.

الوضعية الرابعة : (03 ن)

- ميز بين الاسباب الحقيقية للاحتلال والمبررات والذرائع في جدول :
- تحطم الاسطول الجزائري ، الغاء نظام الرق والعبودية ، ازمة ديون القمح ، استغلال الثروات ، حادثة المروحة ، الحقد الصليبي .

المبررات والذرائع	الاسباب والدوافع

الوضعية الأولى : (02 ن)

اشرح ما يلي:

الأطلس التلي - التضاريس

الوضعية الثانية : (02 ن)

- حدد العوامل المؤثرة في مناخ الجزائر. (اربعة عوامل)؟

- بماذا تفسر تدرج الغطاء النباتي في الجزائر؟

الوضعية الثالثة : (02 ن)

✓نظم في ثلاث نقاط اهمية الموقع الفلكي للجزائر

السنة الدراسية : 2024 - 2025	الإجابة النموذجية لفرض الفصل الأول في التاريخ و الجغرافيا	السنة الرابعة متوسط
النموذج رقم : 04		الأستاذ : فوزي إبلعدين

مادة التاريخ : (13 نقطة)

الوضعية الأولى : (04 ن)

حدد تواريخ الاحداث التالية :

- رسالة بولينياك : 12 ماي 1830 م
- انطلاق الحملة الفرنسية من ميناء طولون : 25 ماي 1830 .
- معركة سطاوالي : 19 جوان 1830 م .
- سقوط العاصمة : 5 جويلية 1830 م .

الوضعية الثانية : (03 ن)

أسباب فرض فرنسا لحصار بحري على الجزائر لمدة 3 سنوات :

- إضعاف الجزائر إقتصاديا
- إغلاق الباب أمام أي مساعدات خارجية (المساعدات العثمانية)
- كسب تأييد الدول الأوروبية.

الوضعية الثالثة : (03 ن)

- سببين برر بهما بولينياك الحملة الفرنسية على الجزائر في رسالته التي وجهها لملوك وامراء اوروبا.

- إلغاء نظام الرق
- القضاء على القرصنة الجزائرية (الجهاد البحري)

الوضعية الرابعة : (03 ن)

تحطم الاسطول الجزائري ، الغاء نظام الرق والعبودية ، ازمة ديون القمح ، استغلال الثروات ، حادثة المروحة ، تأديب الداوي حسين .

المبررات والذرائع	الاسباب والدوافع
الغاء نظام الرق والعبودية	تحطم الاسطول الجزائري
حادثة المروحة	ازمة ديون القمح
تأديب الداوي حسين.	استغلال الثروات

الوضعية الأولى : (02 ن)

اشرح ما يلي:

- الأطلس التلي : سلسلة جبلية حديثة التكوين تمتد من الشرق إلى الغرب موازية للبحر الأبيض المتوسط
- التضاريس : شكل سطح الأرض من مرتفعات و منخفضات (الجبال – الهضاب – السهول)

الوضعية الثانية : (02 ن)

- حدد العوامل المؤثرة في مناخ الجزائر. (اربعة عوامل)؟
- الموقع الفلكي و الجغرافي - امتداد التضاريس - هبوب الرياح الحارة - منطقة الضغط المرتفع الأزوري
- بماذا تفسر تدرج الغطاء النباتي في الجزائر؟
- يتدرج الغطاء النباتي حسب : التربة - المناخ - التضاريس - المياه.

الوضعية الثالثة : (02 ن)

أهمية الموقع الفلكي :

- الإمتداد من العروض الحارة للمعتدلة
- مرور مدار السرطان بجنوب الجزائر
- مرور خط غرينيتش الذي يستعمل للتوقيت

السنة الدراسية : 2024 - 2025	فرض الفصل الأول في التاريخ و الجغرافيا	السنة الرابعة متوسط
النموذج رقم : 05		الأستاذ : فوزي إبلعدين

مادة التاريخ : (13 نقطة)

الوضعية الأولى : (05 ن)

✓اذكر الاحداث التاريخية التالية: 1871 - 1870 - 19 جوان 1830

✓عرف مايلي : حادثة المروحة - الاستيطان

الوضعية الثانية : (04 ن)

- صرح دي بورمون في نداءه ان لا نية لفرسا في احتلال الجزائر.

1 - مارأيك في ذلك ؟ .(1ن)

2 - برر موقفك . (1ن)

الوضعية الثالثة : (02 ن)

- مر الاحتلال الفرنسي للجزائر بعدة مراحل :

* حدد هذه المراحل [اسم المرحلة ، اطارها الزمني] .

الوضعية الرابعة : (02 ن)

- جاء في بيان دي بورمون الموجه الى اهالي الجزائر العبارة التالية :

«..... نحن الفرنسيون اصدقائكم نتوجه الى الجزائر لنطرد الاتراك منها ، اننا نقسم لكم على ذلك بدمائنا..... اننا نتعهد باحترام كنوزكم وممتلكاتكم وديانتكم المقدسة...»

المطلوب :

أ) حدد الاطار الزمني والمكاني لهذه الوثيقة التاريخية .

ب) قدم تعليقا (شرحا) حول ماجاء في العبارة وما مدى تطبيق فرنسا لمحتوى الوثيقة على ارض الواقع.

الوضعية الأولى : (03 ن)

اشرح ما يلي : شط ملغين ، سلسلة الاطلس الصحراوي .

الوضعية الثانية : (03 ن)

صنف ما يلي في جدول : جبال جرجرة - العرق الشرقي الكبير - هضبة تادميت - سهل متيجة - حمادة الدراع - تاهات - قمة شيليا - شط ملغين

الاقليم الشمالي	الاقليم الجنوبي

الوضعية الثالثة : (03 ن)

علل ما يلي :

- المجاري المائية في الجزائر تسمى بالأودية وليس الانهار .
- للجزائر اهمية استراتيجية على المستوى القاري .

السنة الدراسية : 2024 - 2025	الإجابة النموذجية لفرض الفصل الأول في التاريخ و الجغرافيا	السنة الرابعة متوسط
النموذج رقم : 05		الأستاذ : فوزي إبلعدين

مادة التاريخ : (13 نقطة)

الوضعية الأولى : (03 ن)

✓اذكر الاحداث التاريخية التالية:

- 1871 – 1872 : مقاومة المقراني

- 1870 : قانون كريميو

- 19 جوان 1830 : معركة سطاوالي

✓عرف مايلي :

- حادثة المروحة : وقعت في 29 أبريل 1827 عندما قام الداى حسين بالتلويح بمروحته على القنصل الفرنسي

أمرا إياه بالخروج من المجلس وهذا ما اعتبرته فرنسا إهانة لشرفها و توعدت بإحتلال الجزائر

- الاستيطان : تشجيع الهجرة الأوروبية إلى الجزائر مقابل امتيازات و الهدف منها إيجاد دعم عسكري واخضاع

الأقلية الجزائرية للمعمرين .

الوضعية الثانية : (04 ن)

- صرح دي بورمون في نداءه ان لا نية لفرسا في احتلال الجزائر.

1 - مارأيك في ذلك : كل ما ذكره ديبورمون في نداءه غير صحيح

2 - برر موقفك : الأيام الأولى للإحتلال كشفت زيف وكذب و إدعاءات ديبورمون

الوضعية الثالثة : (04 ن)

- مر الاحتلال الفرنسي للجزائر بعدة مراحل : حدد هذه المراحل [اسم المرحلة ، اطارها الزمني] .

أ / مرحلة الحصار العسكري : 16 جوان 1827 - 25 ماي 1830 م

ب/ مرحلة الهجوم وسقوط العاصمة : 25 ماي 1830 – 05 جويلية 1830

ج / مرحلة توسع الاحتلال : 05 جويلية 1830 إلى غاية سقوط جانث عام 1911

الوضعية الرابعة : (02 ن)

أ) حدد الاطار الزمني والمكاني لهذه الوثيقة التاريخية : 05 جويلية 1830 م بسيدي فرج (الجزائر العاصمة)

ب) قدم تعليقا (شرحا) حول ماجاء في العبارة وما مدى تطبيق فرنسا لمحتوى الوثيقة على ارض الواقع :

يحاول ديبورمون كسب ود وصدقة الجزائريين و أنه لم يأت للجزائر لإحتلالها بل لطرد الأتراك منها ويتعهد

بحماية كنوز وممتلكات و ديانة الشعب الجزائري لكن الأيام الأولى من الاحتلال كشفت كذب هذه الإدعاءات

الوضعية الأولى : (03 ن)

اشرح ما يلي :

- شط ملغيغ : بحيرة مياه مالحة تقع في المنخفض الشمالي الشرقي للجزائر منخفضة على سطح البحر -35 م
- سلسلة الاطلس الصحراوي : سلسلة جبلية قديمة التكوين موازية للأطلس التلي تمتد من الشرق للغرب

الوضعية الثانية : (03 ن)

- صنف ما يلي في جدول : جبال جرجرة - العرق الشرقي الكبير - هضبة تادميت - سهل متيجة - حمادة الدراع - تاهات - قمة شيليا - شط ملغيغ

الاقليم الشمالي	الاقليم الجنوبي
جبال جرجرة - سهل متيجة - قمة شيليا	العرق الشرقي الكبير - هضبة تادميت - حمادة الدراع - تاهات - شط ملغيغ

الوضعية الثالثة : (03 ن)

علل ما يلي :

- المجاري المائية في الجزائر تسمى بالأودية وليس الأنهار : لأنها غير صالحة للملاحة - إنحدار و ضيق مجاريها - عدم إنتظام جريانها - إنخفاض مستوى المياه بها .
- للجزائر اهمية استراتيجية على المستوى القاري : - تمثل 8 % من مساحة إفريقيا بوابتها الشمالية
- تمكن دول الساحل الإفريقي مثل :مالي ،والنيجر عبر طريق الوحدة الإفريقية من الوصول إلى موانئ البحر الأبيض المتوسط و موانئ العالم

السنة الدراسية : 2024 - 2025	فرض الفصل الأول في التاريخ و الجغرافيا	السنة الرابعة متوسط
النموذج رقم : 06		الأستاذ : فوزي إبلعدين

مادة التاريخ : (13 نقطة)

الوضعية الأولى : (05 ن)

يقال ان مطالبة الجزائر من فرنسا استرجاع ارشيفها، يعود لكونه يضم وثائق تاريخية تكشف حقائق عن تاريخ الجزائر كدوافع الاحتلال ودواعي الثورة التحريرية .

التعليمة :

* عرف الوثيقة التاريخية .

* أبرز خطوات دراسة الوثيقة التاريخية .

الوضعية الثانية : (04 ن)

قدم تعريفا دقيقا ومختصرا للمصطلحات والشخصيات الآتية :
- نظام الرق - بولينياك - دي بورمون .

الوضعية الثالثة : (02 ن)

✓ ان الوثائق التي كانت محل الدراسة (رسالة بولينياك ونداء دي بورمون) تعتبر نوع من انواع الوثائق :
Δ حدد طبيعة ومصدر الوثائق محل الدراسة .

الوضعية الرابعة : (02 ن)

جاء بيان اول نوفمبر 1954 ليكون نقطة انطلاق لمرحلة جديدة من النضال .
~ ماذا اضاف هذا البيان للثورة الجزائرية ؟

الوضعية الأولى : (03 ن)

اشرح ما يلي : - الاستبس - الاودية.

الوضعية الثانية : (03 ن)

اكمل الجدول الاتي بما يناسبه :

المظهر التضاريسي	الإقليم الشمالي	الإقليم الجنوبي
الجبال (مثالين)		
الهضاب (مثال)		
السهول (مثالين)		

الوضعية الثالثة : (03 ن)

اشرح تأثير الموقع الجغرافي على مناخ الجزائر .

وضح العلاقة بين توزيع التساقط وتوزيع الغطاء النباتي في الجزائر.

السنة الدراسية : 2024 - 2025	الإجابة النموذجية لفرض الفصل الأول في التاريخ و الجغرافيا	السنة الرابعة متوسط
النموذج رقم : 06		الأستاذ : فوزي إبلعدين

مادة التاريخ : (13 نقطة)

الوضعية الأولى : (05 ن)

1 / **تعريف الوثيقة التاريخية :** هي عبارة عن مستندات معاصرة للتاريخ المراد دراسته يعتمد عليها لبناء المعرفة التاريخية .

2 / **خطوات دراسة وثيقة تاريخية :**

- أ / **التقديم :** طبيعة الوثيقة - مصدرها - التعريف بصاحبها - تحديد الإطار الزمني المكاني
ب / **التحليل :** تحديد الفكرة العامة - الأفكار الأساسية (جزئية) و تحليلها (سبب صدورها).
ج / **الإستخلاص :** تقييم الوثيقة وتحديد فائدتها وأهميتها.

الوضعية الثانية : (04 ن)

قدم تعريفا دقيقا ومختصرا للمصطلحات والشخصيات الآتية :

- نظام الرق : نظام العبودية (تجارة البشر) (إمتلاك الإنسان لأخيه الإنسان)
- بولينياك : رئيس مجلس الوزراء ووزير الخارجية الفرنسي في عهد الملك شارل العاشر في الفترة ما بين 1829 - 1830 من مواليد 1780
- دي بورمون : جنرال في جيش نابليون ليتم تعيينه قائد الحملة الفرنسية على الجزائر من طرف شارل العاشر

الوضعية الثالثة : حدد طبيعة ومصدر هذه الوثائق محل الدراسة . (02 ن)

الوثيقة	بولينياك	دي بورمون
طبيعتها	رسالة	نداء
مصدرها	رسمية	رسمية

الوضعية الرابعة : (02 ن)

جاء بيان اول نوفمبر 1954 ليكون نقطة انطلاق لمرحلة جديدة من النضال .

- ~ ماذا اضاف هذا البيان للثورة الجزائرية : دعا بيان 01 نوفمبر إلى توحيد الشعب الجزائري على ضرورة القيام بالكفاح المسلح ونبذ الخلافات وجعل الاستقلال اسمي الغايات من أجل استرجاع الحرية والسيادة الوطنية وبناء جزائر معاصرة في إطار المبادئ الإسلامية

الوضعية الأولى : (03 ن)

اشرح ما يلي :

- الاستبس : غطاء عشبي أقصر طولاً و أقل كثافة من حشائش البراري
- الاودية : هي أحواض أو منخفضات طبيعية على سطح الأرض

الوضعية الثانية : (03 ن)

اكمل الجدول الآتي بما يناسبه :

المظهر التضاريسي	الإقليم الشمالي	الإقليم الجنوبي
الجبال (مثالين)	جرجرة - عمور	الهقار - التاسيلي
الهضاب (مثال)	الهضاب العليا (سطيف)	هضبة تادميت
السهول (مثالين)	عناية - متيجة	تنزروفت

الوضعية الثالثة : (03 ن)

اشرح تأثير الموقع الجغرافي على مناخ الجزائر : تطل الجزائر على البحر الأبيض المتوسط الذي يسمح للرياح بالتشعب ببخار الماء قبل وصولها إلى اليابسة -4. هبوب الرياح الحارة: تهب الرياح الجنوبية الحارة (السيروكو) وتسمى الشهيلي في فصل الصيف نحو الشمال مما يؤدي إلى ارتفاع درجة الحرارة في هذا الإقليم
 وضح العلاقة بين توزيع التساقط وتوزيع الغطاء النباتي في الجزائر : يؤثر التباين المناخي في الجزائر بشكل كبير في خريطة توزيع الغطاء النباتي في المنطقة الشمالية التي تعرف تساقط كبير للأمطار مما يؤدي لظهور غطاء نباتي كثيف و العكس كلما إتجهنا جنوباً تقل كثافة الغطاء النباتي لقلة التساقط

السنة الدراسية : 2024 - 2025	فرض الفصل الأول في التاريخ و الجغرافيا	السنة الرابعة متوسط
النموذج رقم : 07		الأستاذ : فوزي إبلعدين

مادة التاريخ : (13 نقطة)

الوضعية الأولى : (05 ن)

- للوثنائق التاريخية أهمية كبيرة في تاريخ الشعوب والامم .
- اذكر انواع الوثائق التاريخية مع الشرح .
 - ما الفرق بين طبيعة الوثيقة ومصدرها .
 - مارايك في الاهداف المسطرة للاحتلال الفرنسي للجزائر في رسالة بولينياك .

الوضعية الثانية : (04 ن)

- جاء في رسالة بولينياك ان هناك مصلحتان تريد فرنسا تحقيقهما من حملتها على الجزائر ...
- اذكرهما مع الشرح .

الوضعية الثالثة : (02 ن)

- حدد طبيعة دوافع الاحتلال التالية: بربط كل عبارة بسهم (عسكرية. سياسية . اقتصاد. دينية)
- غنى الجزائر بالثروات الطبيعية - الحقد الصليبي - تحطم معظم وحدات الاسطول الجزائري في معركة نفارين - اسكات الملك الفرنسي للمعارضة بتوجيه الرأي العام نحو الجزائر .

الوضعية الرابعة : (02 ن)

الوثائق التاريخية هي الشاهد على تاريخ امة ما، كما انها تعد من المصادر التي الدراسات والابحاث التاريخية بشكل اساسي ..

- *أ* اشرح مايلي " الوثائق التاريخية - تاريخ امة "
- *ب* اذكر في نقطتين أهمية الوثائق التاريخية .

الوضعية الأولى : (03 ن)

اشرح ما يلي : - السبخة - الموقع الفلكي

الوضعية الثانية : (03 ن)

اليك السلاسل الجبلية التالية صنفها في الجدول الموالي :
جبال عمور - جبال الظهرة - جبال ترارة - جبال الاوراس.

الاطلس الصحراوي	الاطلس التلي

الوضعية الثالثة : (03 ن)

في خريطة لبلادك من انجازك ، حدد عليها الاقاليم المناخية الجزائرية .

السنة الدراسية : 2024 - 2025	الإجابة النموذجية لفرض الفصل الأول في التاريخ و الجغرافيا	السنة الرابعة متوسط
النموذج رقم : 07		الأستاذ : فوزي إبلعدين

مادة التاريخ : (13 نقطة)

الوضعية الأولى : (05 ن) .

- انواع الوثائق التاريخية

أ / مكتوبة : النصوص - المخطوطات - المعاهدات

ب / صامتة : النقود القديمة - الآثار العمرانية - الحفريات

- ما الفرق بين طبيعة الوثيقة ومصدرها .

طبيعة الوثيقة : (نوعها) : رسالة - بيان - خطاب - نداء - معاهدة

مصدر الوثيقة : المكان الذي أخذت منه تلك الوثيقة (كتاب - مجلة - جريدة)

- مارايك في الاهداف المسطرة للاحتلال الفرنسي للجزائر في رسالة بولينياك : الأهداف المسطرة في رسالة بولينياك لإحتلال الجزائر غير حقيقية (لم يذكر الأسباب : الاقتصادية و الثقافية و الاجتماعية و السياسية)

الوضعية الثانية : (04 ن)

إلغاء نظام الرق : تجارة العبيد

نشر المسيحية : نشر الدين المسيحي

الوضعية الثالثة : (02 ن)

حدد طبيعة دوافع الاحتلال التالية: بربط كل عبارة بسهم (عسكرية. سياسية . اقتصادية. دينية)

- غنى الجزائر بالثروات الطبيعية
- الحقد الصليبي
- تحطم معظم وحدات الاسطول الجزائري في معركة نفارين
- اسكات الملك الفرنسي للمعارضة بتوجيه الراي نحو الجزائر
- عسكرية
- سياسية
- دينية
- اقتصادية

الوضعية الرابعة : (02 ن)

- الوثائق التاريخية : عبارة عن مستندات معاصرة للتاريخ المراد دراسته يعتمد عليها لبناء المعرفة التاريخية .

- تاريخ امة : يستخدم للإشارة للجماعة من أي أجناس . مستقرة من الناس يرتبط أفرادها بروابط واضحة مثل

اللغة أو التاريخ أو الجنس أو الدي

أهمية الوثيقة التاريخية : - تعد جزء من الأرشيف الإنساني - مصدر يثري البحث التاريخي .

الوضعية الأولى : (03 ن)

اشرح ما يلي :

- السبخة : أرض تغمر موسميا بالمياه و تنمو فيها الأشجار الخشبية أكثر من المستنقع
- الموقع الفلكي : موقع أي مكان على سطح الأرض بالنسبة لخطوط الطول و دوائر العرض

الوضعية الثانية : (03 ن)

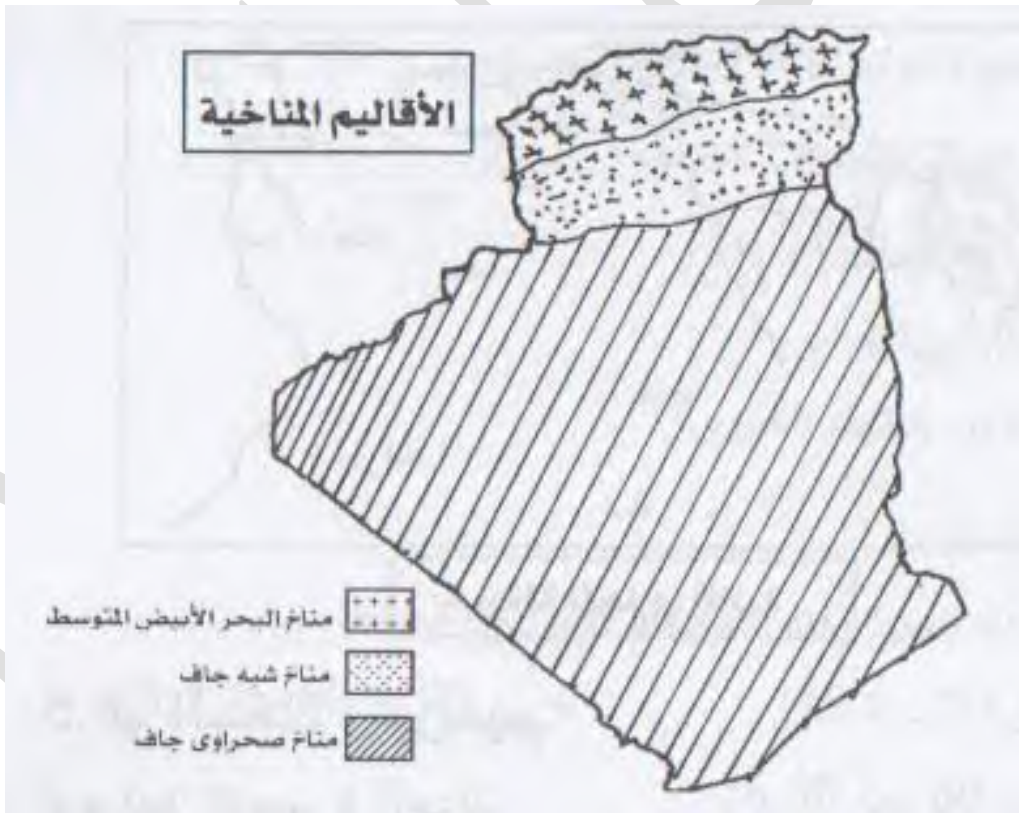
اليك السلاسل الجبلية التالية صنفها في الجدول الموالي :

جبال عمور - جبال الظهرة - جبال جرجرة - جبال الاوراس.

الاطلس الصحراوي	الاطلس التلي
جبال عمور - جبال الاوراس	جبال الظهرة - جبال جرجرة

الوضعية الثالثة : (03 ن)

في خريطة لبلادك من انجازك ، حدد عليها الاقاليم المناخية الجزائرية .



السنة الدراسية : 2024 - 2025	فرض الفصل الأول في التاريخ و الجغرافيا	السنة الرابعة متوسط
النموذج رقم : 08		الأستاذ : فوزي إبلعدين

مادة التاريخ : (13 نقطة)

الوضعية الأولى : (05 ن)

تعتبر الوثائق التاريخية من المصادر الرئيسية لدراسة الاحداث التاريخية.

أ) اشرح ما يلي : القرصنة - معاهدة الاستسلام.

ب) ماذا تمثل هذه التواريخ : - 14 جوان 1830م - 20 أكتوبر 1830م.

الوضعية الثانية : (04 ن)

صنف الوثائق التاريخية التالية حسب نوعها : قلعة بني حماد - بيان اول نوفمبر - معاهدة التافنة - ضريح ماسينيسا

وثائق تاريخية مكتوبة	وثائق صامتة

الوضعية الثالثة : (02 ن)

✓ علل موقف بريطانيا والدولة العثمانية من احتلال الجزائر (باختصار) .

✓ هل احتلت فرنسا الجزائر احتلالا كاملا في 1830؟ علل اجابتك .

الوضعية الرابعة : (02 ن)

الوثيقة التاريخية احد مصادر التاريخ المباشرة لما تقدمه لانها تعاصر الحدث التاريخي .

- حدد اهمية الوثيقتين : رسالة بولينياك - بيان اول نوفمبر - مع تبيان الحقائق التاريخية المتناولة .

الوضعية الأولى : (03 ن)

اشرح المصطلحات الآتية :

- الإقليم - الحوض .

الوضعية الثانية : (03 ن)

علل مايلي :

* تنوع الأقاليم المناخية .

الوضعية الثالثة : (03 ن)

على خريطة الجزائر الصماء عين مايلي :

سلسلة الأطلس الصحراوي / سلسلة الأطلس التلي / الهضاب العليا / مرتفعات الهقار / شط ملغيغ / هضبة تادميت

السنة الدراسية : 2024 - 2025	الإجابة النموذجية لفرض الفصل الأول في التاريخ و الجغرافيا	السنة الرابعة متوسط
النموذج رقم : 08		الأستاذ : فوزي إبلعدين

مادة التاريخ : (13 نقطة)

الوضعية الأولى : (05 ن)

- القرصنة : الإعتداء على السفن و سرقة حمولتها
- معاهدة الاستسلام : هي معاهدة وقعت في 5 جويلية 1830 بين الداوي حسين و الجنرال دي بورمون
- 14 جوان 1830م : وصول الحملة الفرنسية إلى ميناء سيدي فرج
- 20 أكتوبر 1830م : معركة نافارين

الوضعية الثانية : (04 ن)

صنف الوثائق التاريخية التالية حسب نوعها : قلعة بني حماد - بيان اول نوفمبر - معاهدة التافنة - ضريح ماسينييسا

وثائق تاريخية مكتوبة	وثائق صامتة
بيان اول نوفمبر - معاهدة التافنة	قلعة بني حماد - ضريح ماسينييسا

الوضعية الثالثة : (02 ن)

✓ علل موقف بريطانيا والدولة العثمانية من احتلال الجزائر (باختصار)

- رفضت و عرضت بريطانيا الاحتلال الفرنسي للجزائر بسبب المنافسة العسكرية بينها و بين فرنسا و خوفا من ضياع مصالحها في الجزائر وليس حبا في الجزائريين
- كانت الدولة العثمانية من الدول المتحفظة بسبب ضعفها العسكري .
- ✓ هل احتلت فرنسا الجزائر احتلالا كاملا في 1830؟ علل اجابتك .
- لم تقم فرنسا باحتلال الجزائر إحتلال كلي بل مر إحتلالها بثلاثة مراحل أولها الحصار البحري العسكري ثم مرحلة الهجوم و سقوط العاصمة و أخيرا مرحلة توسع الاحتلال .

الوضعية الرابعة : (02 ن)

- حدد اهمية الوثيقتين : رسالة بولينياك - بيان اول نوفمبر - مع تبيان الحقائق التاريخية المتناولة .
- رسالة بولينياك : تعتبر من أهم الوثائق الفرنسية التي حاول من خلالها الفرنسيون تبرير إحتلال الجزائر و كسب تأييد الدول الأوروبية لآكن كل ما ذكر فيها غير صحيح لأن بولينياك أخفى الحقائق المرجوة من الاحتلال
- بيان أول نوفمبر : يعتبر أول وثيقة لجبهة التحرير الوطني التي ساهمت في توضيح حقيقة الاحتلال الفرنسي و شجعت الشعب على المشاركة في الثورة التحريرية للحصول على الحرية و الإستقلال

الوضعية الأولى : (03 ن)

أشرح المصطلحات الآتية :

- الإقليم : رقعة جغرافية تحمل نفس الخصائص الطبيعية و البشرية

- الحوض : سهل تحيط به الجبال من كل الجهات

الوضعية الثانية : (03 ن)

علل مايلي :

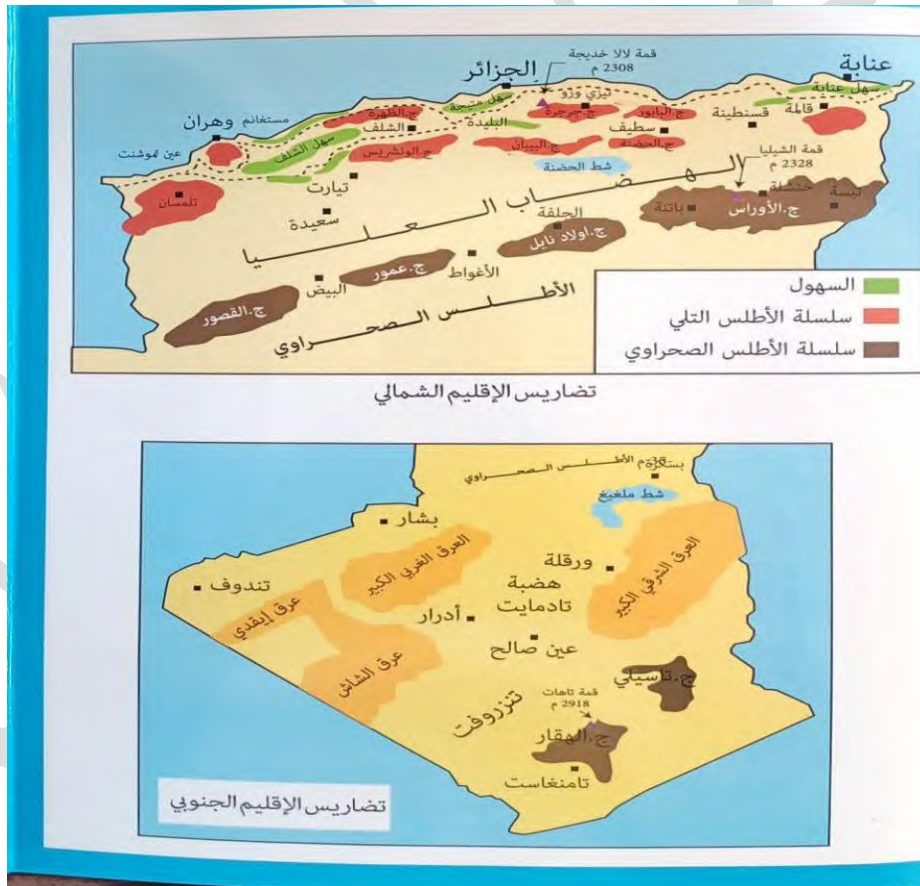
* تنوع الاقاليم المناخية : الموقع الفلكي الجغرافي – امتداد التضاريس – هبوب الرياح الحارة - منطقة الضغط

المرتفع الأزوري

الوضعية الثالثة : (03 ن)

على خريطة الجزائر الصماء عين مايلي :

سلسلة الاطلس الصحراوي /سلسلة الاطلس التلي /الهضاب العليا / مرتفعات الهقار /شط ملغيغ /هضبة تادميت



السنة الدراسية : 2024 - 2025	فرض الفصل الأول في التاريخ و الجغرافيا	السنة الرابعة متوسط
النموذج رقم : 09		الأستاذ : فوزي إبلعدين

مادة التاريخ : (13 نقطة)

الوضعية الأولى : (05 ن)

- اليك مقتطف من معاهدة دي ميشال مع الامير عبد القادر .
مقتطف من معاهدة الجنرال دي ميشال 26 فيفري 1834م « ان القائد العام للقوات الفرنسية في مدينة وهران، وامير المؤمنين سيدي الحاج عبد القادر بن محي الدين قررا العمل بالشروط التالية :
*المادة الثانية: ان دين وعادات العرب ستكون محل احترام.
*المادة الثالثة : كل المساجين سيطلق سراحهم من الجانبين .
*المادة الرابعة : حرية التجارة ستكون كاملة وشاملة .
*المادة السادسة : كل اوربي سيعطى اذا رغب في السفر داخل البلاد جواز سفر موقع عليه من ممثلي الأمير ومصدقا عليه من القائد العام حتى يجدو الحماية والمساعدة في كامل الاقليم» ...
«من كتاب حياة الامير عبد القادر للمؤلف شارل هنري تشرشل، ترجمة الدكتور ابو قاسم سعد الله ص 78، 79»
المطلوب : قدمها (4ن) .

الوضعية الثانية : (04 ن)

حدد تواريخ الاحداث التالية :

1830 / 11 / 27 - 1837 / 05 / 30 - 1870 / 10 / 24 .

الوضعية الثالثة : (02 ن)

- كان لمعاهدة الإستسلام دور كبير في سقوط باقي المدن الجزائرية
- اذكر بندين من بنود معاهدة الاستسلام .

الوضعية الرابعة : (02 ن)

*عرف مايلي : - الامير عبد القادر - أحمد باي

الوضعية الأولى : (03 ن)

ان لموقع الجزائر وتضاريسها ومناخها خصائص مميزة مما جعل الشبكة الهيدروغرافية تتميز بتنوع الاودية .
التعليمة :

1- بين اهمية الموقع الفلكي للجزائر .

الوضعية الثانية : (03 ن)

- حدد طبيعة العلاقة القائمة بين التساقط والمجري المائية (الشبكة الهيدروغرافية) .

الوضعية الثالثة : (03 ن)

صنف ما يلي حسب المكان المناسب في الجدول :

عمور - الونشريس - البابور - الاوراس - اولادنايل - جرجرة.

سلسلة الاطلس الصحراوي	سلسلة الاطلس التلي

السنة الدراسية : 2024 - 2025	الإجابة النموذجية لفرض الفصل الأول في التاريخ و الجغرافيا	السنة الرابعة متوسط
النموذج رقم : 09		الأستاذ : فوزي إلمعدين

مادة التاريخ : (13 نقطة)

الوضعية الأولى : (05 ن)

1 - ادرس الوثيقة دراسة تاريخية من حيث مرحلة التقديم.

الإطار الزمني و المكاني	صاحب الوثيقة	مصدر الوثيقة	
26 فيفري 1834م الجزائر	- الامير عبد القادر : قائد عسكري و سياسي قاد المقاومة في الغرب الجزائري مؤسس الدولة الجزائرية الحديثة و هو من مواليد 1808 و توفي 1883 م	كتاب حياة الامير عبد القادر للمؤلف شارل هنري تشرشل	معاهدة

الوضعية الثانية : (04 ن)

حدد تواريخ الاحداث التالية :

- 27 / 11 / 1830 : مبايعة الأمير عبد القادر

- 30 / 05 / 1837 : معاهدة التافنة

- 24 / 10 / 1870 : قانون كريميو

الوضعية الثالثة : (02 ن)

- اذكر بندين من بنود معاهدة الاستسلام .

- يسلم حصن القصبه وجميع الحصون الأخرى التابعة للجزائر و كذلك ميناء هذه المدينة إلى الجيوش الفرنسية هذا الصباح على الساعة العاشرة حسب توقيت فرنسا .

- يتعهد قائد جنرالات الجيش الفرنسي بأنه يترك لسمو داي الجزائر حريته وكذا جميع ثرواته الشخصية

الوضعية الرابعة : (02 ن)

*عرف مايلي :

- الامير عبد القادر : قائد عسكري و سياسي قاد المقاومة في الغرب الجزائري مؤسس الدولة الجزائرية الحديثة وهو من مواليد 1808 و توفي بدمشق (سوريا) 1883 م

- أحمد باي : من مواليد 1784 عين بايا على قسنطينة سنة 1825 توفي سنة 1851

الوضعية الأولى : (03 ن)

ان لموقع الجزائر وتضاريسها ومناخها خصائص مميزة مما جعل الشبكة الهيدروغرافية تتميز بتنوع الاودية .
التعليمة :

1 - بين اهمية الموقع الفلكي للجزائر

- الإمتداد من العروض الحارة للمعتدلة

- مرور مدار السرطان بجنوب الجزائر

- مرور خط غرينيتش الذي يستعمل للتوقيت

الوضعية الثانية : (03 ن)

1 - حدد طبيعة العلاقة القائمة بين التساقط والمجري المائية (الشبكة الهيدروغرافية) .

- يزيد جريان الشبكة الهيدروغرافية في الجزائر في المناطق الشمالية بسبب قربها من المسطحات المائية و كثرة

التساقط ويقل كلما إتجهنا جنوبا بسبب الإبتعاد عن المسطحات المائية فالتساقط يؤثر في المجري المائية .

الوضعية الثالثة : (03 ن)

صنف ما يلي حسب المكان المناسب في الجدول :

عمور - الونشريس - البابور - الاوراس - اولاد نايل - جرجرة.

سلسلة الاطلس الصحراوي	سلسلة الاطلس التلي
- عمور - اولاد نايل - الاوراس	البابور - جرجرة - الونشريس