



مارس 2020

المستوى: الثالثة متوسط

المدة: 2 سا

الاختبار الثاني في مادة الاعلام الالي

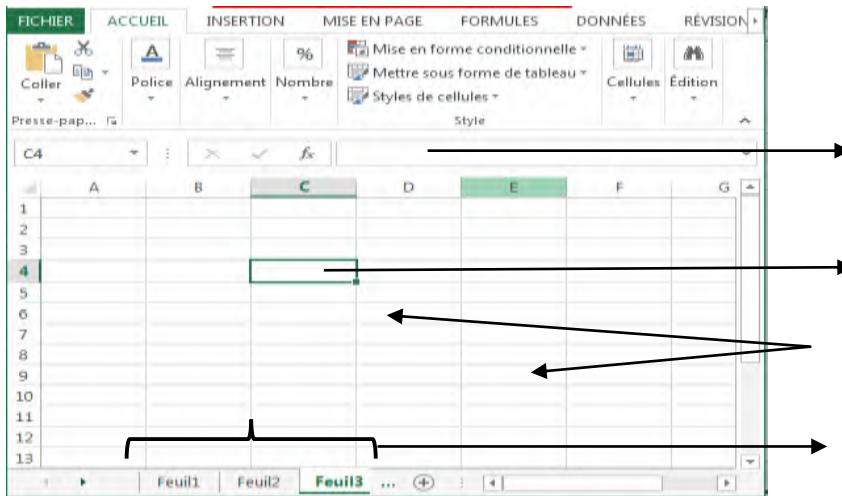
التمرين 1: املأ الجدول التالي (2ن)

				الأداة
				وظيفتها

التمرين 2: إخترا الإجابة الصحيحة (2ن)

			رمز la lettrine هو
Accueil → Word art	Dessin Word art	insertion → Word art	لإدراج نص فني (Word Art)
الأعمدة و الأسطر	العمليات الحسابية	أوراق العمل (feuilles de calculs)	المصنف (classeur) هو عبارة عن مجموعة من
تقاطع السطر B مع العمود 15	تقاطع العمود B مع السطر 15	تقاطع العمود 15 مع السطر B	الخلية 15 B هي:

التمرين 3: (4ن)



- a. ماذا تمثل هذه الصورة؟
b. سم العناصر المشار إليها



c. ضع إطار حول الأداة المطلوبة مع ترقيمها

- (1) اتجاه الكتابة (أفقية، عمودية)
- (2) تلوين الخلايا
- (3) تغيير الحدود
- (4) الكتابة في وسط الخلية

التمرين 4: (2ن)

1. أرسم الجدول التالي مع ملاءمة المعطيات

	A	B	C	D	E	F	G	H
1								
2								
3								
4								
5								

D1 = 5	E1 = 2	F1 = 3
B3 = 6	C3 = 3	D3 = 2

المعطيات

2. أكتب الصيغة الحسابية لعملية جمع D1,E1,F1 في الخانة H4

ملاحظة: يرجى الحل على الورقة المزدوجة




بالتوفيق للجميع...

التصحيح

التمرين 1: (2ن)

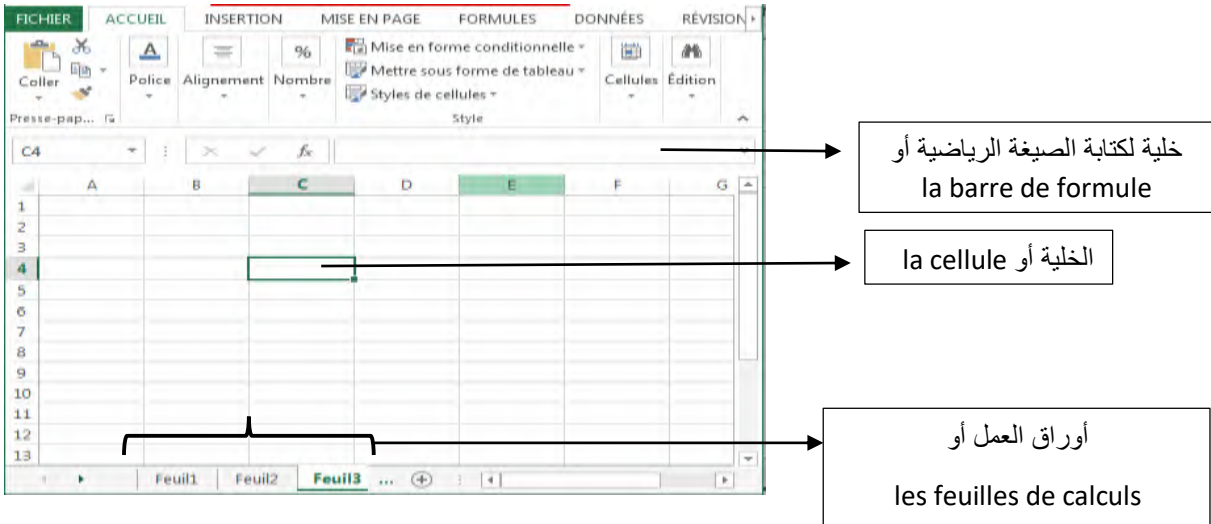
				الأداة
ادماج شكل	تغيير لون الكتابة	ادماج جدول	التسطير	وظيفتها

التمرين 2: (2ن)

			رمز la lettrine هو
Accueil → Word art	Dessin Word art	insertion → Word art	لإدراج نص فني (Word Art)
الأعمدة و الأسطر	العمليات الحسابية	أوراق العمل (feuilles de calculs)	المصنف هو عبارة عن مجموعة من
تقاطع السطر B مع العمود 15	تقاطع العمود B مع السطر 15	تقاطع العمود 15 مع السطر B	الخلية 15 B هي:

التمرين 3: (4ن)

تمثل هذه الصورة: الجدول



خلية لكتابة الصيغة الرياضية أو
la barre de formule

la cellule أو الخلية

أوراق العمل أو
les feuilles de calculs



1

2

3

4

التمرين 4:

	A	B	C	D	E	F	G	H	I
1				5	2	3			
2									
3		6	3	2					
4								=D1+E1+F1	
5									