

## الاختبار الثاني في مادة : العلوم الفيزيائية و التكنولوجيا



الوضعية الأولى: (06 نقاط )

عنوت إحدى الجرائد الجزائرية بعنوان عريض في صفحتها الأولى ما يلي :


احذروا أيها الجزائريون... فهذا الغاز يقتل في صمت ؟؟

اعتمادا على ما درست والوثيقة أجب على ما يلي :

(1) ما هو الغاز الذي تحدثت عنه الجريدة ؟ أذكر مميزاته

(2) إذا علمت أن هذا الغاز هو إحدى نواتج الاحتراق الغير تام لغاز البوتان المنمذج

وفق المعادلة التالية :



✓ أكمل المعادلة ووازنها مع ذكر ( الحالة الفيزيائية )

✓ ما هو العامل المؤثر في هذا التفاعل ؟

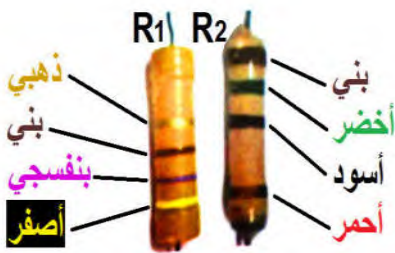
(3) قدم بعض النصائح لتجنب خطر هذا الغاز ؟

الوضعية الثانية : (06 نقاط )

محمد تلميذ في السنة الثالثة متوسط قرر مساعدة والده و الذي يملك محل لتصليح الاجهزة الكهربائية وبينما هو يبحث في صندوق

الخردوات لفت انتباهه ثلاثة نواقل أومية ، اثنان منهما حلقاته الملونة واضحة ، أما الثالث فلا حلقات فيه.

فاخذه الفضول لحساب قيمة مقاومة كل ناقل وذلك بالاعتماد على شفرة الألوان



ساعد محمد في الاجابة على الاسئلة التالية :

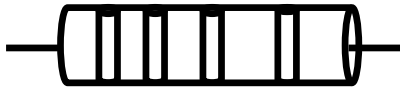
(1) أعط الرمز النظامي للمقاومة ؟ و ماهي وحدتها ؟

(2) أوجد قيمة المقاومة الكهربائية للناقلين الأوميين  $R_1$  و  $R_2$  باستعمال شفرة الألوان

الأسود	0	البني	1
الأحمر	2	البرتقالي	3
الأصفر	4	الأخضر	5
الازرق	6	البنفسجي	7
الرمادي	8	الابيض	9

الأسود	0	البني	1
الأحمر	2	البرتقالي	3
الأصفر	4	الأخضر	5
الازرق	6	البنفسجي	7
الرمادي	8	الابيض	9

الفضة	$\times 0,01$	الذهب	$\times 0,1$
الأسود	$\times 1$	البني	$\times 10$
الأحمر	$\times 100$	البرتقالي	$\times 1000$
الأصفر	$\times 10\ 000$	الأخضر	$\times 100\ 000$
الازرق	$\times 1\ 000\ 000$	البنفسجي	$\times 10\ 000\ 000$



(3) لون حلقات الناقل الأومي الثالث حيث مقاومته  $R_3 = 3600 \pm 10\%$

(4) اقترح طريقة أخرى لحساب قيمة المقاومة؟

الجزء الثاني: (08 نقاط)

الوضعية الإدماجية: (08 نقاط)

اشترى منير و سليم دراجة هوائية جديدة فقاما بتركيب قطعها ، لكنهما اختلفا في تركيب وضعية المصابيح الأمامية والخلفية، حيث اقترح منير المصباح ذو الدالتين  $(6V, 6W)$  هو المصباح الأمامي، أما سليم فاختر أن يكون المصباح ذو الدالتين  $(6V, 12W)$  هو المصباح الأمامي !!..



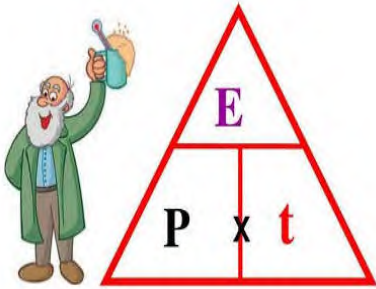
1. ماذا تمثل الدلالات المدونة على المصباحين؟  $(6V - 12W - 6W)$

2. أي الأخوين كان صائبا في تحديد المصباح الأمامي؟ ولماذا؟

(أ) أحسب قيمة شدة التيار  $I$  المارة في المصباح الأمامي .

(ب) أحسب قيمة طاقته الكهربائية المحولة  $E$  خلال زمن قدره  $t = 600 s$  من التشغيل .

3. هل تعتبر الدراجة صديقة للبيئة؟ علل .



بالتوفيق أستاذ المادة