







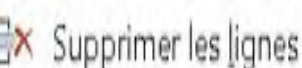


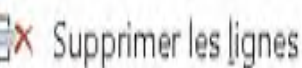








العلامة: 20/

القسم: 2م ....



اللقب والاسم: .....

التمرين الاول (06نقاط): ضع الإجابة الصحيحة في دائرة

 Images	 Tableau	 Formes	لإدراج الأشكال نختار
 Images	 Tableau	 Formes	لإدراج جدول نختار
 Insérer au-dessus	 Insérer à gauche	 Supprimer les lignes	لإضافة سطر إلى الأعلى نختار
 Insérer au-dessus	 Insérer à gauche	 Supprimer les lignes	لحذف سطر نختار
 Insérer au-dessus	 Fusionner	 Fractionner	لتقسيم خلية واحدة نختار
 Insérer au-dessus	 Fusionner	 Fractionner	لدمج خليتين أو أكثر نختار

التمرين الثاني (06نقاط): لاحظ الجدول التالي ثم أجب بصح أو خطأ مع تصحيح الخطأ إن وجد

كربون	أوكسجين	هيدروجين
		

	1- هذا الجدول يتكون من 4 أعمدة و5 أسطر
	.....
	2- نقوم بتكبير حجم ذرة الاوكسجين بسحبها عندما تتحول المشيرة عند المربعات إلى
	
	.....
	3- لتلوين ذرة الهيدروجين نضغط على التبويب Format ونختار  Remplissage ونغير اللون للأبيض
	.....
	4- تم حذف ذرة الكربون بتحديددها ثم الضغط على مفتاح Entrée
	.....

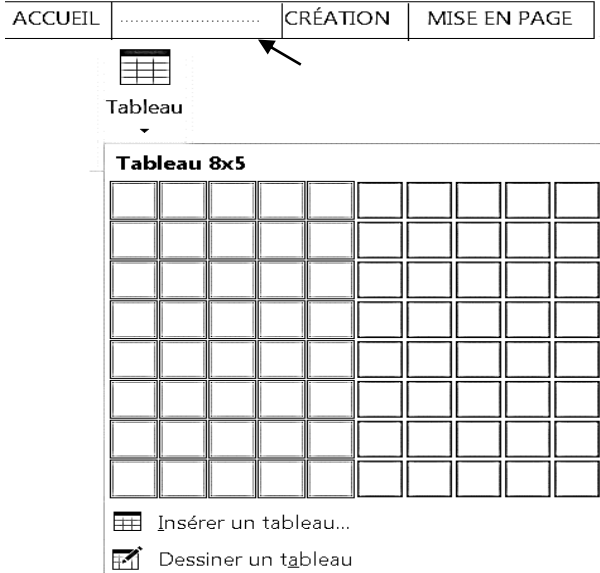
## الوضعية الإدماجية (8نقاط):

كلّفك أستاذ الرياضيات بإنجاز بحث حيث يحتوي هذا البحث على نصوص وأشكال وجداول.

1- ما هو البرنامج الذي تستعمله لإنجاز هذا البحث؟ (2ن)

البرنامج الذي تستعمله هو: .....

أثناء إنجازك لهذا البحث احتجت لإدراج جدول يتكون من 10 أسطر و 05 أعمدة، فاتبعت المراحل كما بالوثيقة المقابلة:



2- اكتب اسم التبويب المناسب في الفراغ على شريط التبويبات

3- استعملت طريقة الشبكة فلاحظت أنه لا يمكنك إدراج أكثر من 08 أسطر، فتذكرت الطريقة الأخرى. أذكر باقي مراحلها؟ (2ن)

المراحل:

.....  
.....

4- لاحظت أثناء ملئك للجدول أنك تضطر إلى تغيير حجم الخط في كل خلية من الجدول كيف تقوم بذلك في كل خلايا الجدول مرة واحدة؟ (2ن)

الجواب: .....

5- قمت بإدراج مثلث داخل بحثك وكتبت داخل هذا الشكل كلمة "مثلث" فلم تظهر لك الكتابة ما هو السبب في رأيك؟ (2ن)

السبب هو.....  
.....  
.....

