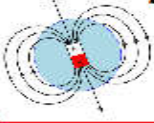


المستوى: الثانية متوسط

المراجعة الممتدة للثلاثي الثالث لمادة العلوم الفيزيائية و التكنولوجيا

المدة: 1 ساعة

يوم: 02/05/2024



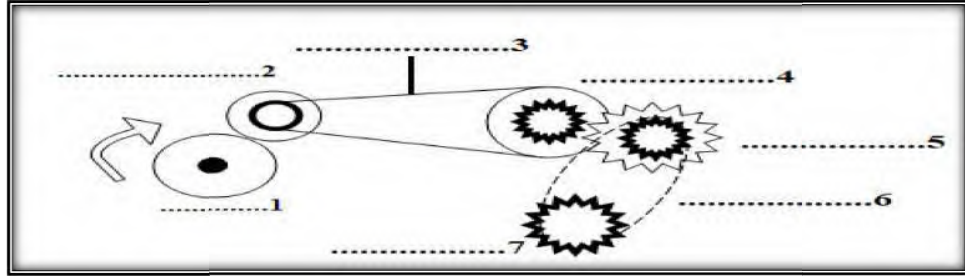
القسم: 2م

الاسم: اللقب:



الوضعية الاولى: (10 نقاط)

1: اليك مخطط ن التالي:



1- اسم العناصر لم على الوثيقة . و حدد طرق نقل الحركة الموضحة في الشكل:

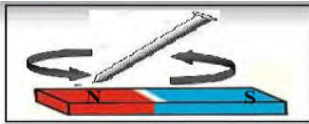
.....

2- حدد على الرسم

3- اقترح طريقة لاج 7 دون تغيير تركيب المخطط او جهة دوران العنصر 1

.....


الوضعية الثانية: (10 نقاط)



مسمار (A)



مسمار (B)



قمت و زميلك بدأ الحديد و بعد الدلك قربتماهما من كومة من المساسيك فلاحظتما ان المساسيك التصقت باحد المسمارين بينما لا .

1: فسر ملاحظتك :

.....

.....

2: بين مادة صنع : A : B:

برر..

3: اقتد ا ق ا (B) مدعما اجابتك برسم

.....

4: بر ف ن ر (A) بعد ذلك

.....

.....

.....

