






القسم : 1م .. الفوج : .. رقم الجهاز : ..

الاسم : ..

اللقب : ..

التمرين الأول: (6 نقاط) أكمل الفراغات بما يناسب.

المكون				
اسم المكون
نوع المكون (أساسي أو ثانوي)

التمرين الثاني: (6 نقاط) اجب بصحيح او خطأ مع تصحيح الخطأ إن وجد.

(1) يحتوي شريط المهام من الجهة اليمنى على زر ابدأ.

(2) البرامج الملحقة هي برامج مجانية مثبتة مع نظام التشغيل.

(3) سعة القرص المضغوط هي CD 600 Mo.

(4) تسمى الرموز الموجودة على سطح المكتب المكونات الأساسية.

(5) ايقونة جهاز كمبيوتر هي ايقونة نظام.

(6) كلمة Windows معناها مجموعة من الحواسيب.

الوضعية الإدماجية: (8 نقاط)

عند دخولك الى مخبر المعلوماتية طلب منك الأستاذ تشغيل جهاز الحاسوب.

1- اذكر الخطوات التي تقوم بها لتشغيله:

نشغل بالترتيب: 1 2 3

2- عند تشغيل الحاسوب تظهر على الشاشة واجهة نظام التشغيل.

- ما اسم نظام التشغيل الذي ظهر على الشاشة؟

3- يثبت مع نظام التشغيل عدة برامج .

- ماذا تسمى؟

- اذكر برنامجين: 1 2

بمناسبة يوم اول نوفمبر طلب منكم الأستاذ رسم علم الجزائر.

4- رتب خطوات الدخول الى البرنامج. (ضع الرقم المناسب لتكون مرتبة).

الرسام
Paintزر ابدأ
Démarrerالبرامج الملحقة
Accessoiresكل البرامج
Tous les Programmes

رگز قبل أن تجيب