
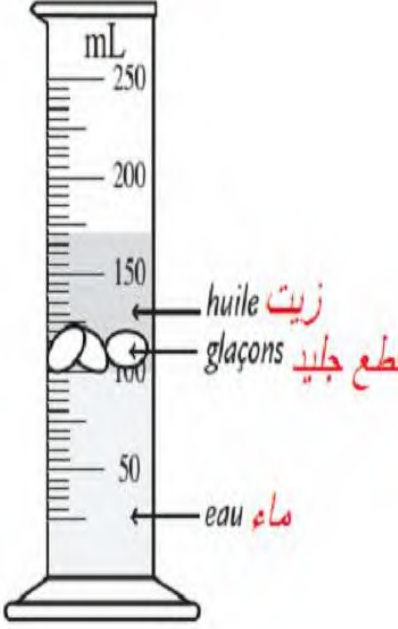


التمرين الأول:

قبل وضع قطع الجليد	بعد وضع قطع الجليد
	

لاحظ الصورة جيدا ثم أجب :


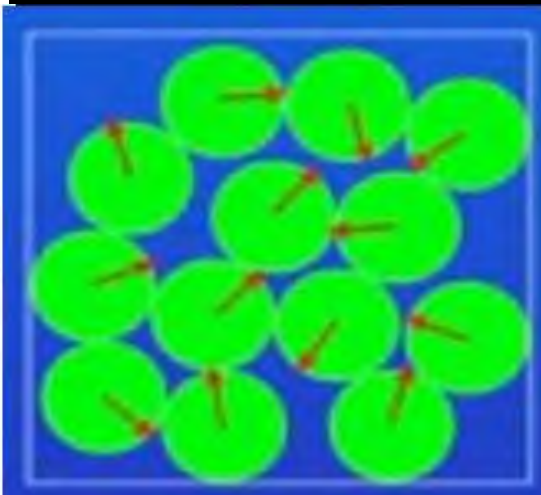
س 1 - لماذا تطفو الزيت فوق الماء؟

س 2 - لماذا تتموضع قطع الجليد بين الزيت و الماء؟

تمرين 2:

<ul style="list-style-type: none">• يفوق (200 cm^3)• يساوي (200 cm^3)• أقل من (200 cm^3)	<p>حبة برتقال كتلتها (200 g)، و هي تطفو فوق الماء.</p> <ul style="list-style-type: none">• ماذا يمكنك أن تستنتجه عن حجمها:
---	---

تمرين 3:

حبيبات نفس المعدن في الحالة الصلبة	حبيبات معدن مصهور في الحالة السائلة:
	

س- أيهما أكبر كثافة، المعدن المصهور أم المعدن الصلب؟ علّل؟

تمنيتي لكم بالتوفيق (الأستاذ: فرقب عبد الحكيم)