

فرض الثلاثي الثالث في مادة العلوم الفيزيائية و التكنولوجيا

الإسم اللقب القسم

الوضعية الأولى 8ن

لصنع كعكة في البيت قامت سعاد بتحضير المكونات التالية (زيت+ماء الزهر) (مسحوق الشوكولاتة+حليب) (فريضة+خميرة كيميائية) (حبات فراولة+شرايح موز) (محلول سكري+معطر سائل) كما زينت حوض السمك بحجارة ملونة أي (حجارة+ماء)

1- صنف كل مزيج من المواد التالية حسب حالته الفيزيائية و نوعه.

المزيج	الحالة الفيزيائية	نوع الخليط
.....
.....
.....
.....
.....
.....
.....

2- من خلال الجدول ماذا يقصد بـ **الخليط** وماهي أنواعه مع التعريف

.....
.....
.....
.....
.....
.....


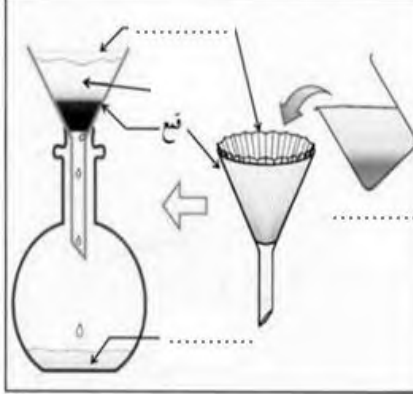
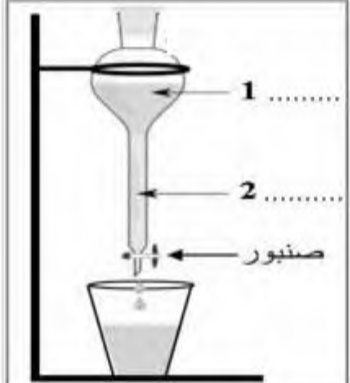
الوضعية الثانية 12ن

في احد الأيام أخذت أسماء كأسا ولم تنتبه أن فيه زيت ثم فتحت الحنفية لتشرب الماء لاحظت انه ملوث بالتراب وبعض حبيبات الرمل فقالت لها أمها ان لا تشرب الماء فردت عليها أسماء انها درست في حصة الفيزياء الطرق التجريبية كي تتحصل على ماء صاف
-كونك تلميذ السنة الأولى متوسط

1- ما نوع **الخليط** الذي سيتشكل في كأس أسماء؟ لماذا؟

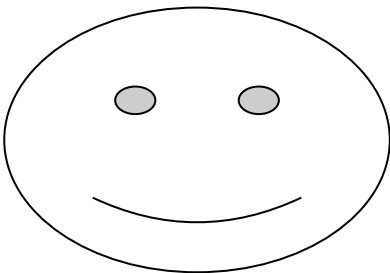
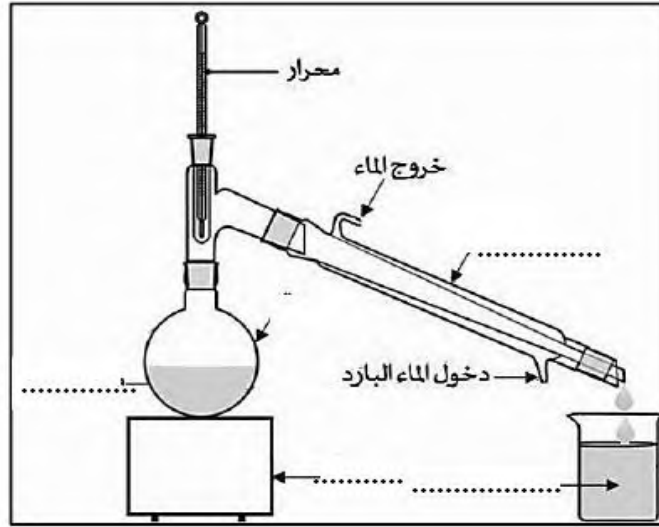
.....
.....
.....

1- سم الطرق التي ستقوم بها أسماء للحصول على ماء صاف

 <p>بعد مدة .. بعد مدة زمنية .. بعد مدة</p>		
<p>عملية ..</p>	<p>عملية ..</p>	<p>عملية ..</p>
<p>.....</p>	<p>.....</p>	<p>تستعمل لفصل سائل عن سائل</p>

2- مانوع الخليط المتحصل عليه في هذه الحالة ؟ لماذا؟

بعد تصفية الماء أرادت أسماء الحصول على ماء نقي ماهي الطريقة التي ستستعملها للحصول عليه وأكمل البيانات



بالتّـ وفيبيق