


الفرض المحروس الأول للفصل الأول في الرياضيات موضوع ①



الاسم واللقب: .....  
قسم: سنة أولى رقم: .....

✓ ملاحظة: ممنوع استعمال الآلة الحاسبة

التمرين الأول: (9 نقاط)

1- أكمل الجدول

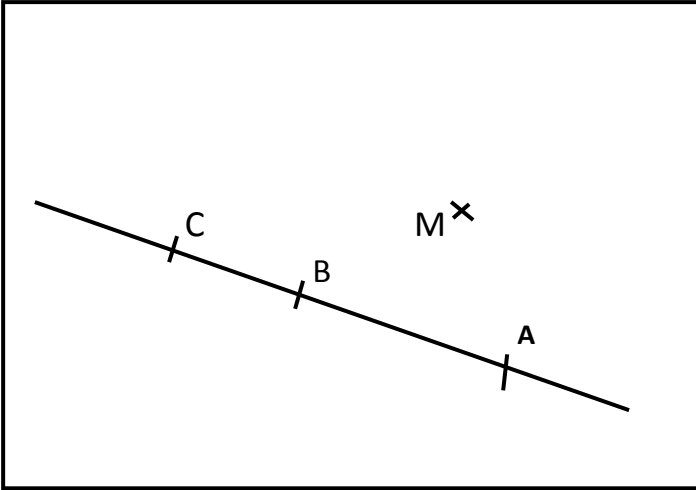
الكتابة العشرية	الكتابة الكسرية	الكتابة التفكيكية
18,56		
	$\frac{57}{100}$	
		$15 + \frac{7}{10} + \frac{6}{1000}$

2- ضع احد الرموز: < > =

15,2 ..... 15,20 | 16,04 ..... 16,7 | 25,12 ..... 25,100 | 10 ..... 10,01

التمرين الثاني: (7 نقاط)

- ارسم المستقيم (H) الذي يشمل C ويعامد (d)
- ارسم المستقيم (G) الذي يشمل M ويوازي (d)
- أنشئ الدائرة (C) التي مركزها M ونصف قطرها [MA]
- اكمل باستعمال الرموز التالية:  $\perp$  ،  $\parallel$  ،  $\in$  ،  $\notin$



M	.....	(d)	A	.....	[AC]
A	.....	[BC]	B	.....	[AB]
C	.....	[BA]	(H)	.....	(G)
(AC)	.....	(d)	B	.....	[AC]


التمرين الثالث: (4 نقاط)

تضامنا مع الشعب الفلسطيني بعد القصف اليهودي قام الهلال الأحمر الجزائري بشراء معدات طبية

- 231 قارورة مطهر بثمان 25.12DA للقارورة الواحدة
- 100 علبة ضمادات بثمان 561,165DA للعلبة الواحدة
- ادوية مختلفة بثمان 54783,43DA
- 1- ما هو ثمن قارورات المطهر؟
- 2- ما هو ثمن علب الضمادات؟
- 3- اوجد رتبة مقدار ما اشتراه الهلال الأحمر الجزائري
- 4- احسب ثمن ما اشتراه الهلال الأحمر الجزائري

✓ ملاحظة: حل التمرين الثالث يكتب على ظهر الورقة (العمليات العمودية ضرورية)

الفرض المحروس الأول للفصل الأول في الرياضيات موضوع ②



الاسم واللقب: .....

قسم: سنة أولى رقم: .....

✓ ملاحظة: ممنوع استعمال الآلة الحاسبة

التمرين الأول: (9 نقاط)

1- أكمل الجدول

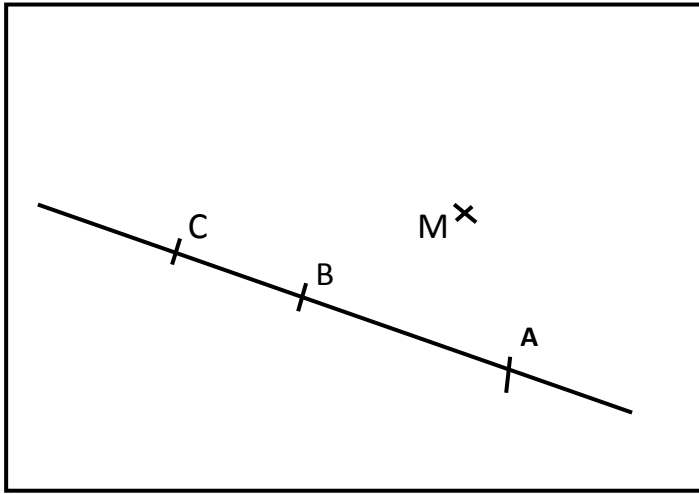
الكتابة العشرية	الكتابة الكسرية	الكتابة التفكيكية
65,98		
	$\frac{524}{1000}$	
		$78 + \frac{6}{100} + \frac{3}{1000}$

2- ضع احد الرموز: < > =

15 ..... 15,01 | 16,12 ..... 16,100 | 25,04 ..... 25,7 | 10,2 ..... 10,20

التمرين الثاني: (7 نقاط)

- ارسم المستقيم (H) الذي يشمل C ويعامد (d)
- ارسم المستقيم (G) الذي يشمل M ويوازي (d)
- أنشئ الدائرة (C) التي مركزها M ونصف قطرها [MA]
- اكمل باستعمال الرموز التالية:  $\perp$  ، // ،  $\notin$  ،  $\in$



M	.....	(d)	A	.....	[AC]
A	.....	[BC]	B	.....	[AB]
C	.....	[BA]	(H)	.....	(G)
(AC)	.....	(d)	B	.....	[AC]

التمرين الثالث: (4 نقاط)

تضامنا مع الشعب الفلسطيني بعد القصف اليهودي قام الهلال الأحمر الجزائري بشراء معدات طبية

- 231 قارورة مطهر بثمان 25.12DA للقارورة الواحدة
- 100 علبة ضمادات بثمان 561,165DA للعلبة الواحدة
- ادوية مختلفة بثمان 54783,43DA

- 1- ما هو ثمن قارورات المطهر؟
- 2- ما هو ثمن علب الضمادات؟
- 3- اوجد رتبة مقدار ما اشتراه الهلال الأحمر الجزائري
- 4- احسب ثمن ما اشتراه الهلال الأحمر الجزائري

✓ ملاحظة: حل التمرين الثالث يكتب على ظهر الورقة (العمليات العمودية ضرورية)

بالتوفيق أستاذة المادة بن رحال خ