

مدرسة:

يوم:

امتحان الفصل الثالث
في مادة الرياضيات

المستوى: السنة 4 ابتدائي
التلميذ:

التمرين الأول:

اَلَيْكَ اَلْعَدَدَ اَلْعُشْرِيَّ اَلتَّالِي: 28,34

اَكْتُبِ اَلْعَدَدَ عَلٰى شَكْلِ كَسْرٍ عُشْرِي.....

اَكْتُبِ اَلْجُزْءَ الصَّحِيحَ لِهٰذَا اَلْعَدَدِ.....

..... < 28.34 <


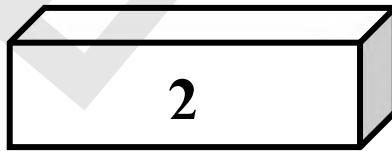
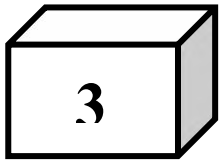
اَحْصُرْ هٰذَا اَلْعَدَدَ بَيْنَ عَدَدَيْنِ طَبِيعِيَيْنِ
التمرين الثاني: (اَكْمَلْ مَلءَ اَلْفَرَاعَاتِ:

$$\frac{23}{4} = \dots + \frac{\dots}{\dots}$$

$$7 + \frac{2}{5} = \dots$$

$$7h = \dots \text{ min}$$

التمرين الثالث: سَمِّ كُلًّا مِنْ اَلْمُجَسَّمَاتِ اَلتَّالِيَةِ:



التمرين الرابع: اَكْمَلْ مَلءَ اَلْجَدْوَلِ:

كَمِّيَّةُ اَلْبَنْزِينِ (l)	2	6
اَلْمَسَافَةُ (Km)	8	12	16

لِتَحْضِيرِ قَلْبِ اللُّوزِ خَلَطَتِ الأُمُّ 495.25g مِنَ السُّكَّرِ مَعَ 950.75g مِنَ السَّمِيدِ
الْخَشِنِ.

1- مَا هُوَ وَزْنُ الْخَلِيطِ؟

وَضَعَتِ الأُمُّ الْمَقَادِيرَ فِي صِينِيَّةٍ مُرَبَّعَةِ الشَّكْلِ ضِلْعُهَا 35cm.

2- مَا هِيَ مِسَاحَةُ هَذِهِ الصِّينِيَّةِ؟

أَدْخَلَتِ الأُمُّ الصِّينِيَّةَ إِلَى الْفُرْنِ عَلَى السَّاعَةِ 12h00min وَأَخْرَجَتْهَا عَلَى السَّاعَةِ
12h45min

3- مَا هِيَ الْمُدَّةُ الَّتِي اسْتَعْرَقَتْهَا الْخَلْوَى فِي الْفُرْنِ؟

الأجوبة

الحل

العمليات