

المادة: جغرافيا
المستوى: الثالثة ابتدائي

الاسم واللقب:
التاريخ: 17/03/2022





اختبار الفصل الثاني

السند:

في عطلة الأسبوع جلس عمر وعصام يختبران معلومتهم في مادة الجغرافيا ضمن لعبة اختبر معلوماتك. فمرت اللعبة بثلاث مراحل.

المرحلة الأولى:

-لاحظ الصور ثم اكتب الاسم المناسب تحت كل صورة.

			
.....

-ماذا تمثل هذه الصور؟

-ما هو الفرق بين السهول والجبال؟

-الجبال:

-السهول:

المرحلة الثانية:

أجب بصحيح أو خطأ.

-المناخ هو حالة الجو لفترة قصيرة. (.....)

-الطقس هو حالة الجو لفترة قصيرة. (.....)

-الجبال الكلسية صالحة للزراعة (.....)

-النشاط الذي يمارس في الريف هو الفلاحة. (.....)

الوضعية الإدماجية:

يختلفُ نَشَاطُ الإنسانِ مِنَ المدينةِ إلى الرِّيفِ.

- في بَضْعَةٍ أُسْطَرِّ تَحَدَّثُ عَنِ الأَنْشِطَةِ الَّتِي تُمَارَسُ فِي الرِّيفِ.

DZPEN.COM

المادة: جغرافيا
المستوى: الثالثة ابتدائي

الاسم واللقب:
التاريخ: 17/03/2022

تصحيح اختبار الفصل الثاني

السند:

في العُطلةِ الأسبوعِ جَلَسَ عُمَرُ وَعِصَامُ يَخْتَبِرَانِ مَعْلُومَاتِهِمَا فِي مَادَّةِ الْجُغْرَافِيَا ضِمْنَ لُغْبَةِ اخْتِبَرِ مَعْلُومَاتِكَ، فَمَرَّتْ بِثَلَاثِ مَرَاجِلِ.

المرحلة الأولى:

-لاحظ الصُّور ثمَّ اكتب اسم تحت كلِّ صورة

			
السُّهُول	الهَضَاب	الجِبَال	الصَّحْرَاء

-مَاذَا تُمَثِّلُ هَذِهِ الصُّورُ؟

تمثِّلُ هَذِهِ الصُّورُ التَّضَارِيسِ

-ما هو الفَرْقُ بَيْنَ السُّهُولِ وَالْجِبَالِ؟

-الجِبَالُ: هِيَ مَرْتَفَعٌ أَرْضِيٌّ يَمْتَازُ بِقِمَّةٍ حَادَّةٍ وَمُنْحَدَرٍ حَاطِرٍ.

-السُّهُولُ: هِيَ أَرْضِيٌّ مُنْحَفِضَةٌ وَاسِعَةٌ وَمُسْتَوِيَةٌ صَالِحَةٌ لِلزَّرَاعَةِ.

المرحلة الثانية:

-أَجِبْ بِصَحِيحٍ أَوْ خَطَأً.

(خَطَأً)

-المُنَاخُ هُوَ حَالَةُ الحَوِّ لِفَتْرَةٍ قَصِيرَةٍ

(صَحِيحٍ)

-الطَّقْسُ هُوَ حَالَةُ الجَوِّ لِفَتْرَةٍ قَصِيرَةٍ.

(خَطَأً)

-الجِبَالُ الكَلْسِيَّةُ صَالِحَةٌ لِلزَّرَاعَةِ

(صَحِيحٍ)

-النَّشَاطُ الَّذِي يُمَارَسُ فِي الرِّيفِ هُوَ الفِلاحةُ

الوضعية الإدماجية:

- يَحْتَلِفُ نَشَاطُ الْإِنْسَانِ مِنَ الْمَدِينَةِ إِلَى الرَّيْفِ.
- فِي بَضْعَةٍ أُسْطُرٍ تَحَدَّثُ عَنِ الْأَنْشِطَةِ الَّتِي تُمَارَسُ فِي الرَّيْفِ.

DZPEN.COM