

اختبار الفصل الثاني في الرياضيات

الأعداد و الحساب

أ/ فكك أو اجمع الأعداد (1.5 ن)

$500+60+7 = \dots\dots\dots$

$136 = \dots\dots\dots + \dots\dots\dots + \dots\dots\dots$

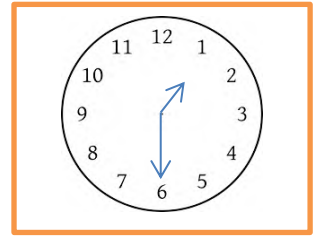
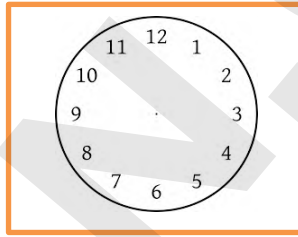
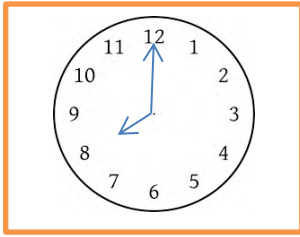
$209 = \dots\dots\dots$

ب/ اكتب الأعداد بالأرقام و الحروف ثم ضع الرمز المناسب داخل المربع : < , = , > (1.5 ن)

866 : : مِئَتَانِ وَأَرْبَعَةٌ :

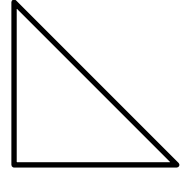

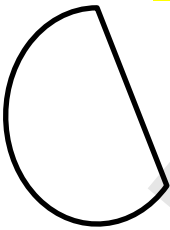
خَمْسُ مِئَةٍ وَتِسْعَةَ عَشَرَ : : 901 :

تنظيم معطيات + المقادير و القياس : اكتب الساعة (1.5 ن)



18:15

الفضاء و الهندسة : لَوِّنِ الزوايا القائمة في هذه الأشكال ثم اكتب أسماء الأشكال الثلاثة الأولى (1.5 ن)



وضعية إدماجية : (4 ن)

طول بناية 85 مترا و طول فندق بجوارها 24 مترا

بكم يزيد طول العمارة عن الفندق ؟

الجواب (2ن)

.....

.....

.....

العملية (2ن)

.....

.....

.....

.....