

الاسم:

اللقب:

تقويم في مادة الرياضيات

ميدان المقادير والقياس

العلامة:

الملاحظة:

التمرين الأول:

1- لون البطاقات التي تُشير إلى توقيت الصباح بالأصفر والبطاقات التي تُشير إلى توقيت المساء بالأزرق (2 ن)

23:00

14:00

9:30

8:00


3:00

11:00


16:30

12:00

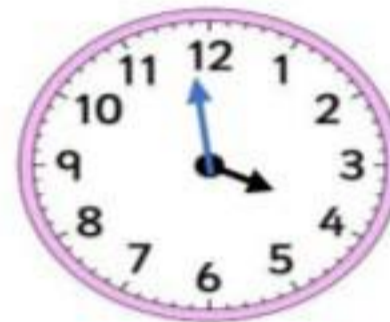
2- أرسم عقارب الساعة أو أكتب التوقيت التي تُشير إليه الساعة: (3 ن)



21:00

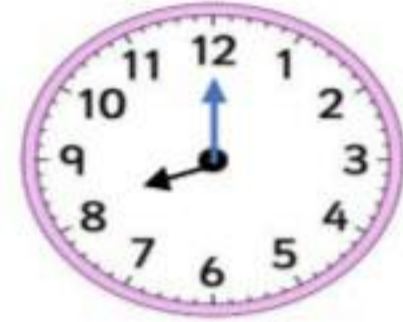


10:30



مساء

:



صباحاً

:

التمرين الثاني: جمعت إيناس مبلغ 785 ديناراً في حصالتها مثل المبلغ باستعمال الأوراق والأقطع النقدية (3 ن)



التمرين الثالث: املا الفراغ بما يناسب: (2 ن)

نصف يوم = ساعة

ساعة = دقيقة

يومان = ساعة

يوم = ساعة