

التمرين الأول

اربط بالتدرج كل بطاقة بما يناسبها

خمسة وستون

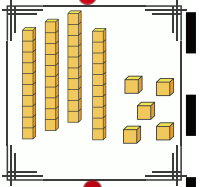
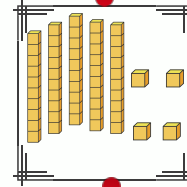
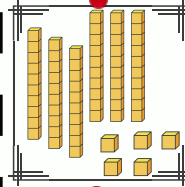
اربعة وخمسون

خمسة وأربعون

45

54

65



40 + 5

50 + 4

60 + 5

التمرين الثاني

هات العدد السابق و العدد اللاحق مباشرة

59

79

89

66

19

39

41

99

1

اعيد كتابة الأعداد في مكانها المناسب على الشريط

59

79

89

19

66

31

99

10

20

30

40

50

70

80

90

التمرين الثالث

اربط احدث بتوقيتيه الصحيح ثم اكتبه بالأرقام



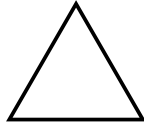
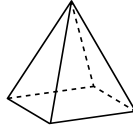

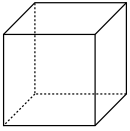
أدخل القسم

منتصف الليل

منتصف النهار

التمرين الرابع

أسمي المجسمات أو الأشكال المستوية التالية



التمرين الخامس

اعتمد على المعلومات الواردة في الجدولين لحل المشكل

المستوى	السنة الأولى (1)	السنة الثانية (2)	السنة الثالثة (3)
عدد التلاميذ	20	10	8

ذكور

المستوى	عدد التلاميذ
السنة الأولى (1)	20
السنة الثانية (2)	25
السنة الثالثة (3)	12

عدد ذكور السنة الثانية (2) هو.....

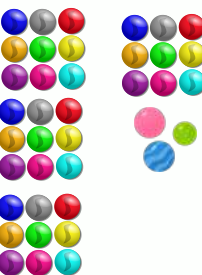
عدد بنات السنة الثانية (2) هو.....

عدد كل تلاميذ السنة الثانية هو:

..... + =

- عند أمين 27 كرية. وأعطاه صديقه 12 كرية أخرى.
- كم كرية صارت مع أمين؟

(27) (12)



..... + =

+

=

صار عند أمين كرية.