

الاسم واللقب:

اختبار الفصل الثالث في
الرياضيات

السنة
الأولى ابتدائي

التمرين 01 (2 ن)

ب- أُنكِّ كَمَا فِي الْمِثَالِ: $65=60+5$

أ- أَحْسِبْ:

$48=.....+.....$

$23=.....+.....$

$20+30=.....$

$60+10=.....$

التمرين 02 (2 ن) أَحْصِرْ كُلَّ عَدَدٍ بَيْنَ عَشْرَتَيْنِ مُتَتَالِيَتَيْنِ:

.....

75

.....

.....



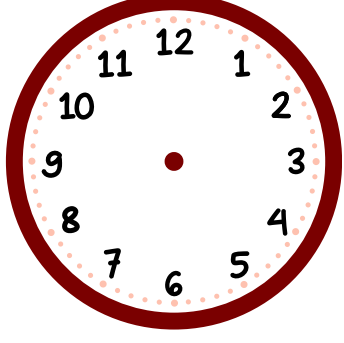
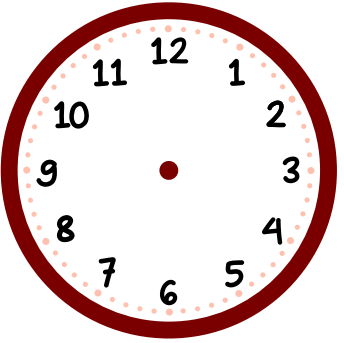
36

.....

التمرين 03 (2 ن)

ب- ارْسُمْ عَقْرَبِي السَّاعَةِ فِي كُلِّ حَالَةٍ:

أ- اكْمِلْ كِتَابَةَ التَّوْقِيتِ الْمَسَائِيِّ:



21:30

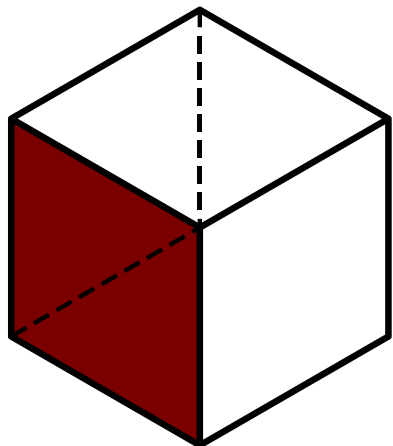
18:00

:

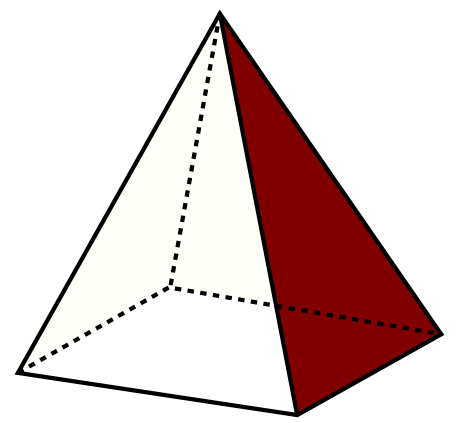
:

التمرين 04 (2 ن) سَمِّ الْمُجَسَّمَاتِ التَّالِيَةَ ثُمَّ أذْكَرْ شَكْلَ وَجْهَيْهَا:

.....	اسْمُ الْمُجَسَّمِ
.....	شَكْلَ وَجْهِ



.....	اسْمُ الْمُجَسَّمِ
.....	شَكْلَ وَجْهِ



التمرين 04 (2 ن)

• كَمْ صَارَ عِنْدَ خَدِيجَةَ؟

عِنْدَ خَدِيجَةَ 47 دِينَارًا، وَأَعْطَتْهَا أُمُّهَا 52 دِينَارًا.

• صَارَ عِنْدَ خَدِيجَةَ: دِينَارًا

.....
.....
.....
.....
.....