

مراجعة في الرياضيات

(1) أكمل الحساب :

$\begin{array}{r} 24 \\ + 11 \\ \hline = \end{array}$	$\begin{array}{r} 12 \\ + 13 \\ \hline = \end{array}$	$\begin{array}{r} 22 \\ + 73 \\ \hline = \end{array}$	$\begin{array}{r} 81 \\ + 16 \\ \hline = \end{array}$	$\begin{array}{r} 25 \\ + 32 \\ \hline = \end{array}$
$\begin{array}{r} 50 \\ + 30 \\ \hline = \end{array}$	$\begin{array}{r} 81 \\ + 16 \\ \hline = \end{array}$	$\begin{array}{r} 72 \\ + 27 \\ \hline = \end{array}$	$\begin{array}{r} 90 \\ + 8 \\ \hline = \end{array}$	$\begin{array}{r} 33 \\ + 44 \\ \hline = \end{array}$
$\begin{array}{r} 61 \\ + 21 \\ \hline = \end{array}$	$\begin{array}{r} 71 \\ + 15 \\ \hline = \end{array}$	$\begin{array}{r} 18 \\ + 11 \\ \hline = \end{array}$	$\begin{array}{r} 60 \\ + 33 \\ \hline = \end{array}$	$\begin{array}{r} 44 \\ + 55 \\ \hline = \end{array}$

(2) أحسب :

$12+14=...$	$18+31=...$	$75+22=...$	$64+34=...$
$\begin{array}{r} \bullet \\ + \bullet \\ \hline = \end{array}$	$\begin{array}{r} \bullet \\ + \bullet \\ \hline = \end{array}$	$\begin{array}{r} \bullet \\ + \bullet \\ \hline = \end{array}$	$\begin{array}{r} \bullet \\ + \bullet \\ \hline = \end{array}$

(3) لاحظ ثم املأ الفراغات بالعدد المناسب :

$29 + \dots = 30$	$55 + \dots = 60$	$86 + \dots = 90$
$34 + \dots = 40$	$58 + \dots = 60$	$77 + \dots = 80$

(4) أكمل الشريط العددي :

→	20
	32
	44
	58
	65
	...	71
	84
	94

(5) أكتب العدد الذي يسبق و العدد الذي يلي :

←	52	66	78
	83	87	51
	55	60	76
	92	70	98

6) تَوْنُ بِالْأَخْضَرِ الْخَانَةَ الْمُنَاسِبَةَ :

76	أكْبَرُ مِنْ	76	18	أكْبَرُ مِنْ	81	98	أكْبَرُ مِنْ	95
	أصْغَرُ مِنْ			أصْغَرُ مِنْ			أصْغَرُ مِنْ	
	يُسَاوِي			يُسَاوِي			يُسَاوِي	

7) حَوِّطِ الْعَدَدَ الْأَكْبَرَ وَ أَشْطَبِ الْعَدَدَ الْأَصْغَرَ :

56	72	28	41
32 45	21 94	71 19	51 61
29	88	80	70
50	66	82	90
55 28	60 64	81 89	95 97
51	69	85	99

8) رَتِّبِ الْأَعْدَادَ التَّالِيَةَ مِنَ الْأَكْبَرِ إِلَى الْأَصْغَرِ :

52 - 8 - 60 - 20 - 43 - 16 - 35

60 > .. > .. > .. > .. > .. > ..

62 - 69 - 75 - 49 - 68 - 55 - 80

.. > .. > .. > .. > .. > .. > 49

9) رَتِّبِ الْأَعْدَادَ التَّالِيَةَ مِنَ الْأَصْغَرِ إِلَى الْأَكْبَرِ :

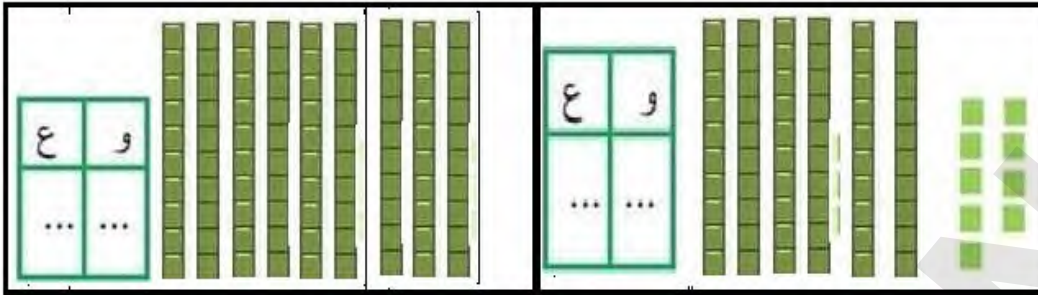
18 - 44 - 70 - 67 - 64 - 80 - 51

.. > .. > .. > .. > .. > .. > ..

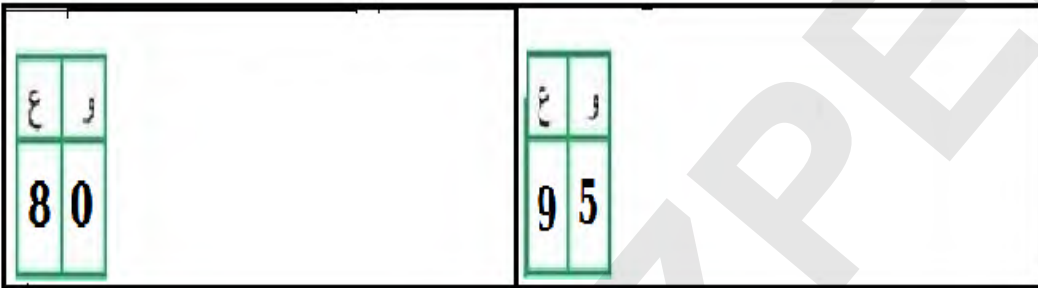
37 - 92 - 47 - 30 - 39 - 90 - 71

.. > .. > .. > .. > .. > .. > ..

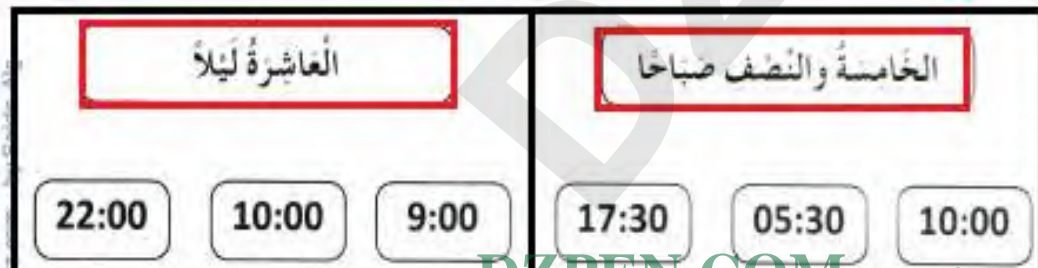
10) أَكْتُبِ الْأَعْدَادَ الْمُمَثَّلَةَ بِالْأَعْمَدَةِ وَالْوَحِدَاتِ فِي كُلِّ حَالَةٍ :



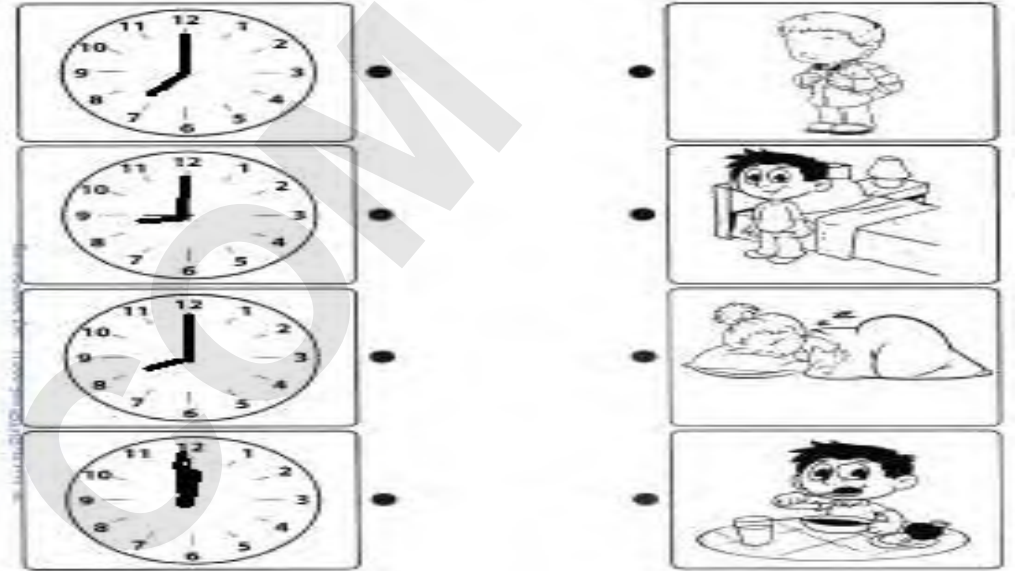
11) اِقْرَأِ الْأَعْدَادَ الْمُمَثَّلَةَ ثُمَّ ارْسُمْ الْوَحِدَاتِ وَالْأَعْمَدَةَ فِي كُلِّ حَالَةٍ :



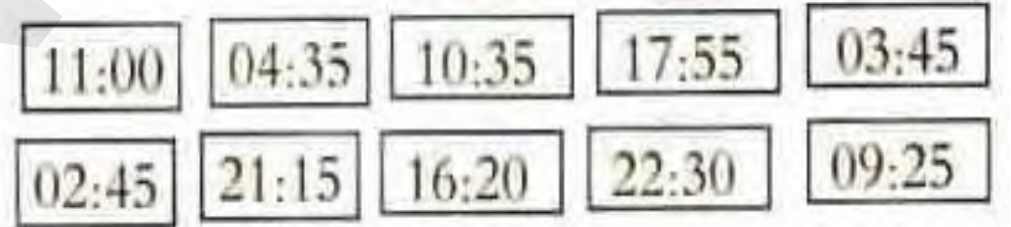
12) صِلْ بَسْمَهُمْ بَيْنَ التَّوْقِيَتِ وَالسَّاعَةِ الَّتِي تُشِيرُ إِلَيْهِ :



13 (أرْبَطْ كُلَّ نَشَاطٍ بِالسَّاعَةِ الَّتِي تُشِيرُ إِلَيْهِ :



14 (لَوْنِ بِالْأَخْضَرِ تَوْقِيتِ الصَّبَاحِ وَبِالْأَحْمَرِ تَوْقِيتِ الْمَسَاءِ :



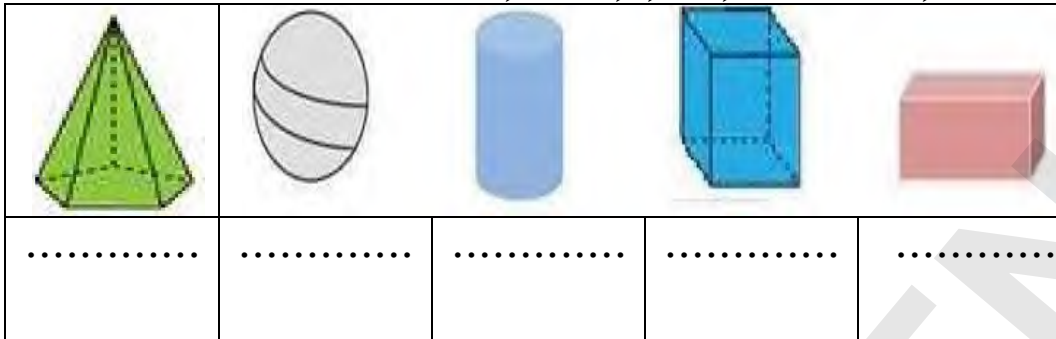
15 (ارْسُمْ عَقْرَبِي السَّاعَةِ بِحَسَبِ التَّوْقِيتِ الْمَكْتُوبِ فِي الْبِطَاقَةِ :



16 (لَوْنِ الْبِطَاقَةَ الَّتِي تُشِيرُ إِلَى التَّوْقِيتِ الصَّحِيحِ :



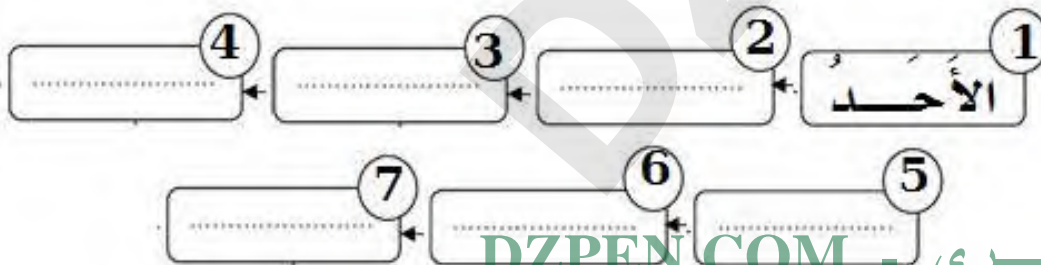
17 (لَاحِظِ الْمُجَسَّمَاتِ التَّالِيَةَ ثُمَّ سَمِّهَا :



18 (لَاحِظِ الْأَشْكَالَ التَّالِيَةَ ثُمَّ سَمِّهَا :



19 (اُكْتُبِ أَيَّامَ الْأُسْبُوعِ مُرْتَبَةً :



20 (إقرأ البطاقات ثم أكتب العدد بالأرقام وبالْحُرُوفِ :

..	ثلاثة و سبعون	..	أربعة و خمسون
..	تسعون	..	سبعة و ستون
..	تسعة و تسعون	..	واحد و ثمانون
60	74
97	53
96	85

3 - ثمن المقص و الممحاة معا ؟

$$.. + .. = ..$$

4 - ثمن المبراة و قلم الرصاص معا ؟

$$.. + .. = ..$$

الوضعية الإدماجية 01 :

غرس الفلاح في الحقل 38 شجرة ليؤمن و 41 شجرة تفتح .

* أحسب عدد الأشجار التي غرسها الفلاح :

$$.. + .. = ..$$

غرس الفلاح شجرة .

الوضعية الإدماجية 02 :

أعطى الأب لأمين في العيد 50 ديناراً و أعطاه جده 45 ديناراً

* كم ديناراً جمع أمين ؟

$$.. + .. = ..$$

جمع أمين ديناراً .

21 (لاحظ ثمن الأدوات المدرسية ثم أحسب :

			
30 ديناراً	13 ديناراً	25 ديناراً	41 ديناراً

1 - ثمن المقص و قلم الرصاص معا ؟

$$.. + .. = ..$$

2 - ثمن المبراة و قلم الممحاة معا ؟

$$.. + .. = ..$$

الأستاذ : حد محمد يتمنى لكم التوفيق والنجاح