


التمرين الأول : (2.5)

1/ اكتب الأعداد بالحروف أو الأرقام

تِسْعَةٌ وَ أَرْبَعُونَ.	.....
.....	96
إِثْنَانٌ وَ سَبْعُونَ.	.....
5 عشرات و 3 وحدات	.....

أَحْصِرُ الْأَعْدَادَ التَّالِيَةَ بَيْنَ عَشْرَتَيْنِ مُتتَالِيَتَيْنِ :


التمرين الثاني: (1.5)

احسب العمليات التالية:

$27 + 52 = \dots\dots$	$54 + 3 = \dots\dots\dots$	$29 + 50 = \dots\dots\dots$
$\begin{array}{r} \cdot \quad \cdot \\ \cdot \quad \cdot \\ \hline \cdot \quad \cdot \end{array}$	$\begin{array}{r} \cdot \quad \cdot \\ \cdot \quad \cdot \\ \hline \cdot \quad \cdot \end{array}$	$\begin{array}{r} \cdot \quad \cdot \\ \cdot \quad \cdot \\ \hline \cdot \quad \cdot \end{array}$

التمرين الثالث: (2)

أكمل كتابة أو رسم الساعة

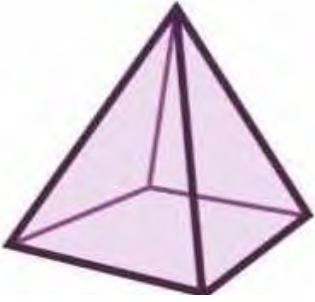


## التمرين الرابع: (2ن)

لَا حِظَّ الْجَدْوَلِ ثُمَّ اكْمِلْ:

أَقْلَامُ التَّلْوِينِ	الْمَسْطَرَّةُ	الْكُرَّاسُ	الْمِمْحَاةُ	الْمِقْلَمَةُ
78	81	57	34	95

ثَمَنُ ..... هُوَ: ..... دِينَارًا  
دِينَارًا  
ثَمَنُ ..... هُوَ: ..... دِينَارًا



## الوضعية الإدماجية (02 ن):



- تَمَلِكُ يَاسْمِينَ 78 دِينَارًا، اشْتَرَتْ بِأُونَا بـ: 35 دِينَارًا.
- مَا هُوَ الْمَبْلَغُ الْمُتَبَقِي مَعَ يَاسْمِينَ؟
- لَوْنُ الْعَمَلِيَّةِ الصَّحِيحَةِ وَ أَحْسَبْ عَمُودِيًا.

$$78 - 35 = \dots$$

$$78 + 35 = \dots$$

• •

• •

= • •

الْمَبْلَغُ الْمُتَبَقِي مَعَ يَاسْمِينَ هُوَ: .....