



ماي 2024

المستوى: الأولى ابتدائي (1AP)

اختبار الفصل الثالث في مادة الرياضيات

الاسم: اللقب: القسم:

التمرين الأول: أرّتب الأعداد التالية من الأكبر إلى الأصغر.

30، 90، 10، 50، 70، 40، 20، 80، 60

90	60	30
----	-------	-------	----	-------	-------	----	-------	-------

التمرين الثاني: أنجز العمليات الحسابية التالية.

59+10=.....

28+51=.....

53 + 44 =.....

$$\begin{array}{r} . \\ + \\ . \end{array}$$

= .

$$\begin{array}{r} . \\ + \\ . \end{array}$$

= .

$$\begin{array}{r} . \\ + \\ . \end{array}$$

= .

التمرين الثالث:

أ- أكمل الجدول.

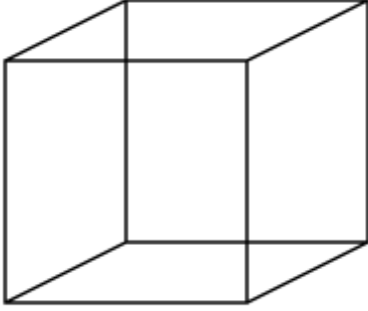
.....	وَاحِدٌ وَثَلَاثُونَ
.....	60+5
39

ب/- أَحْصُرُ الْأَعْدَادَ التَّالِيَةَ بَيْنَ عَشْرَتَيْنِ مُتتَالِيَتَيْنِ.

. 81 .

. 29 .

. 53 .



.....

التمرين الرابع: أكمل الفراغ.

- عددُ الوجوه.....

- عددُ الرؤوسِ.....

- عددُ الأحرفِ.....

الوضعية الإدماجية:

ذَهَبَ أَحْمَدُ إِلَى الْمَدْرَسَةِ عَلَى السَّاعَةِ السَّابِعَةِ وَثَلَاثُونَ دَقِيقَةً وَفِي طَرِيقِهِ اشْتَرَى كُرَّاسًا ثَمَنُهُ 30 دِينَارًا وَقَلَمًا ثَمَنُهُ 15 دِينَارًا.



1- أَمْتَلْ بِقَلَمِ الرَّصَاصِ السَّاعَةَ الَّتِي خَرَجَ فِيهَا أَحْمَدُ.

2- أَحْوَطْ بِقَلَمِ الرَّصَاصِ عَلَى ثَمَنِ الْكُرَّاسِ.



3- مَا هُوَ ثَمَنُ الْكُرَّاسِ وَالْقَلَمِ مَعًا.

الحل

الأجوبة

العمليات

..... • =

- ثَمَنُ الْكُرَّاسِ وَالْقَلَمِ مَعًا هُوَ..... دِينَارًا

.....
.....
.....
.....

تصحیح اختبار الفصل الثالث فی مادة الرياضيات

التمرین الأول: أرْتبُ الأَعْدَادَ التَّالِيَةَ مِنَ الأَكْبَرِ إِلَى الأَصْغَرِ.

30 ، 90، 10، 50، 70 ، 40، 20، 80، 60

90	80	70	60	50	40	30	20	10
----	----	----	----	----	----	----	----	----

التمرین الثاني: أنجزُ العَمَلِيَّاتِ الحِسَابِيَّةِ التَّالِيَةَ.

$$59+10=69$$

$$\begin{array}{r} 5 \quad 9 \\ + \\ 1 \quad 0 \\ \hline \end{array}$$

$$=6 \quad 9$$

$$28+51=79$$

$$\begin{array}{r} 2 \quad 8 \\ + \\ 5 \quad 1 \\ \hline \end{array}$$

$$=7 \quad 9$$

$$53 + 44 =97$$

$$\begin{array}{r} 5 \quad 3 \\ + \\ 4 \quad 4 \\ \hline \end{array}$$

$$=9 \quad 7$$

التمرین الثالث:

أ/- أكْمِلُ الجَدُولَ.

31	وَاحِدٌ وَثَلَاثُونَ	30+1
65	خَمْسَةٌ وَ سِتُّونَ	60+5
39	تِسْعَةٌ وَ ثَلَاثُونَ	30+9

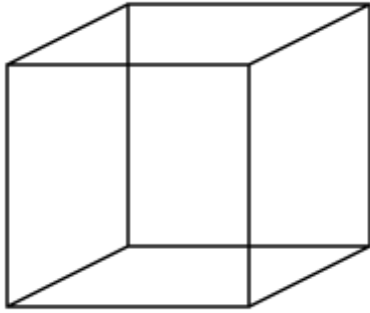
ب/- أَحْصِرُ الأَعْدَادَ التَّالِيَةَ بَيْنَ عَشْرَتَيْنِ مُتتَالِيَتَيْنِ.

80	81	90
----	----	----

20	29	30
----	----	----

50	53	60
----	----	----

التمرين الرابع: أكمل الفراغ.



المكعب

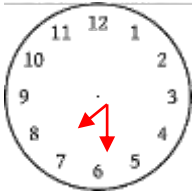
- عدد الوجوه 6

- عدد الرؤوس 8

- عدد الأحرف 12


الوضعية الإدماجية:

ذهب أحمد إلى المدرسة على الساعة السابعة وثلاثون دقيقة وفي طريقه اشترى كرأساً ثمنه 30 ديناراً وقلماً ثمنه 15 ديناراً.



1- أمتل بقلم الرصاص الساعة التي خرج فيها أحمد.

2- أحوط بقلم الرصاص على ثمن الكرأس.



3- ما هو ثمن الكرأس والقلم معاً.

الحل

الأجوبة

$$30 + 15 = 45$$

- ثمن الكرأس والقلم معاً هو 45 ديناراً

العمليات

$$\begin{array}{r} 30 \\ + 15 \\ \hline 45 \end{array}$$