

الموسم الدراسي :

الاسم :

مقاطعة

اللقب :

ابتدائية

الفوج : السنة الأولى



اختبار الفصل الثالث في مادة الرياضيات

التمرين الأول : انجز العمليّات الآتية عمودياً


$$\begin{array}{r} 26 \\ + 53 \\ \hline = \end{array}$$

$$\begin{array}{r} 31 \\ + 8 \\ \hline = \end{array}$$

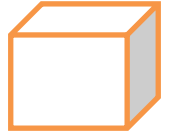
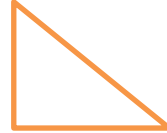
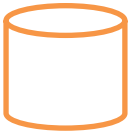
$$\begin{array}{r} 78 \\ + 11 \\ \hline = \end{array}$$

$$\begin{array}{r} 65 \\ + 12 \\ \hline = \end{array}$$

التمرين الثاني : أتمم متتالية الأعداد



التمرين الثالث : اربط بسهم



مُرَبَّعٌ

أُسْطُوَانَةٌ

دَائِرَةٌ

مُكَعَّبٌ

مُنْتَلَفٌ

التمرين الرابع : قارن بين العددين بكتابة أكبر من أو أصغر من

81..... 86 — 78..... 25

الوضعية الإدماجية : عند أحمد 45 دينارًا زادته أمه 42 دينارًا. كم دينارًا صار معه ؟

الجواب

الحل

العمليات

صار مع أحمد دينارًا