


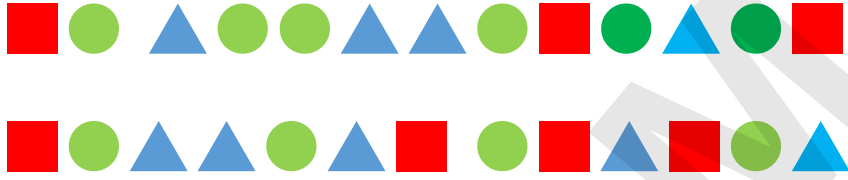


اللقب:

الاسم:

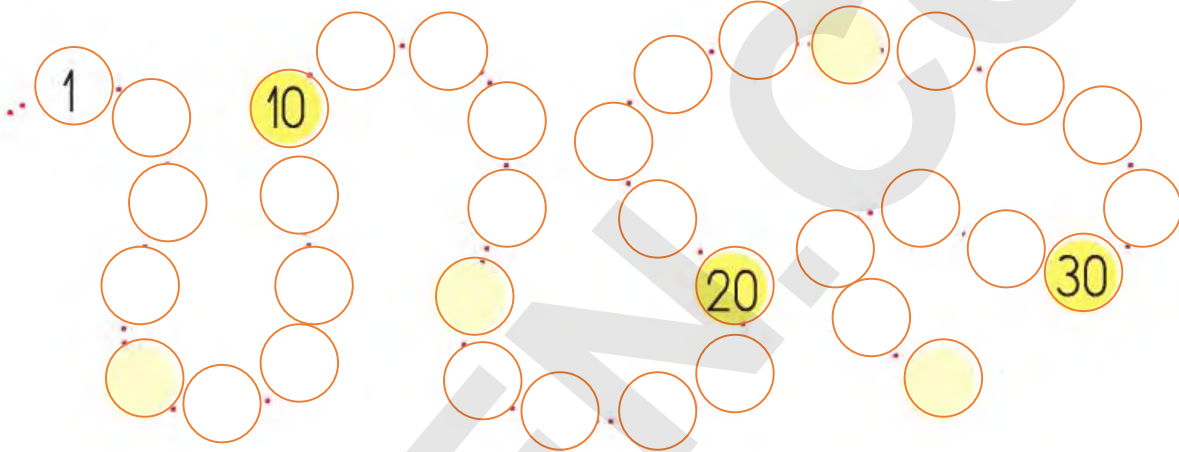
① لاحظ الأشكال وأكمل الجدول

العدد	الأشكال
	
	
	



② ضع الأعداد الآتية في مكانها المناسب

8 13 19 25 26 33



③ أحسب مايلي

$13+2=$	$7-3=$	$29+1=$	$5-2=$
$10+5=$	$10-3=$	$25+4=$	$15-2=$
$9+8=$	$12-4=$	$23+5=$	$25-2=$

④ أكتب الأعداد في كل حالة



5 رتب الأعداد الآتية من الأصغر إلى الأكبر



6 اقرأ وأكتب الأعداد الآتية بالأرقام

ستة عشر أربعة وعشرون ثلاثة وعشرون تسعة عشر

خمسة وثلاثون اثنان أربعة عشر سبعة وثلاثون

7 مثل بالأسهم مسلك الدجاجة إلى بيضها





الوضعية الإدماجية

■ عند سدرة أزهار ووضعتها في مزهريّة . ساعدها في إيجاد عددها .

عدد الأزهار هو :

■ أعطت أخاها 3 أزهار ، كم بقي معها ؟

العملية :

بقي معها

