

التاريخ: 2023/12/07

المدة: 45د

المادة: الجغرافيا

المستوى: الخامسة ابتدائي

اختبار الفصل الأول

الاسم واللقب:

التمرين الأول:

أجب بصحيح أو خطأ:

- (.....) - بشار ولاية ساحلية.
- (.....) - البلدية رقعة جغرافيا صغيرة.
- (.....) - تقع الجزائر بين خطي طول 12° شرقا و9° غربا.
- (.....) - مدار السرطان خط حقيقي وضعه العلماء.
- (.....) - الجزائر احدي بلدان المغرب العربي ليس لها حدود مشتركة مع جميع الدول.

التمرين الثاني:

عقدت صداقة عبر الأنترنت مع طفلٍ من بلدٍ آخر، فسألك عن موقع وطنك الجزائر.

أجب في بضعة أسطر عما يلي:

- (1) موقعه.
- (2) حدوده.
- (3) أهم التضاريس الموجودة فيه.

.....

.....

.....

.....

.....

.....

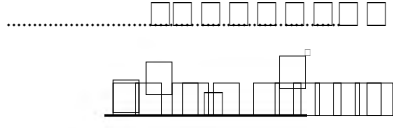
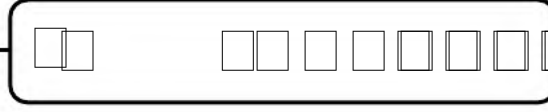
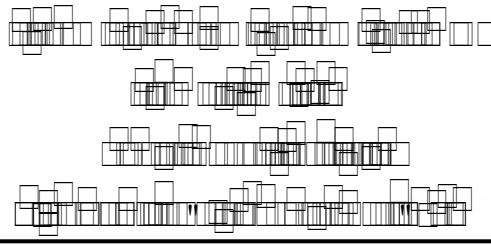
.....

.....

.....

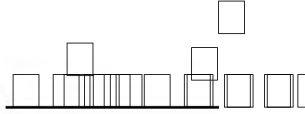
.....

.....



أجب بصحيح أو خطأ:

- (خطأ) - بشّار ولاية ساحليّة.
- (صحيح) - البلدية رقعة جغرافيا صغيرة.
- (صحيح) - تقع الجزائر بين خطي طول 12° شرقا و9° غربا.
- (خطأ) - مدار السرطان خط حقيقي وضعه العلماء.
- (خطأ) - الجزائر احدي بلدان المغرب العربي ليس لها حدود مشتركة مع جميع الدول.



عقدت صداقة عبر الأنترنت مع طفلٍ من بلدٍ آخر، فسألك عن موقع وطنك الجزائر.

أجب في بضعة أسطر عمّا يلي:

(1) موقعه.

(2) حدوده.

(3) أهم التضاريس الموجودة فيه.

تقع الجزائر شمال إفريقيا يحدها من الشمال البحر الأبيض المتوسط ومن الغرب المغرب وموريتانيا ومن

الشرق تونس وليبيا ومن الجنوب النيجر والمالي.

تتنوع تضاريس الجزائر فنجد السهول الجبال الهضابوالصحراء.