


امتحان الفصل الأول في مادة التریبة العلمية

التمرین الأول: 1.5 نقطة

یتطلب الإلتاش توفر 03 شروط. أذكرها؟

التمرین الثاني: 02 نقاط

سم العنصر من البذرة الممثل بالشكل (1) ؟



الشكل (1)

تعرف على البيانات أ، ب، ج؟

التمرین الثالث: 02 نقاط

في حصة التریبة الیغیة أصیب زمیلک بجرح و بدأ بالنزيف.

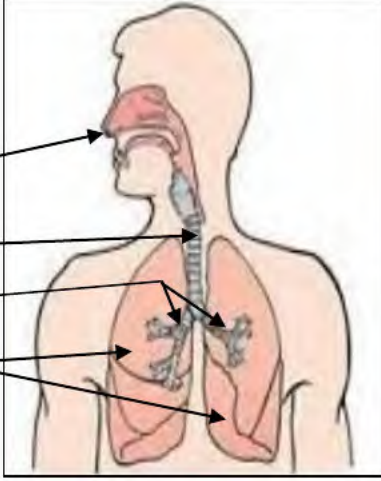
ما هي الإسعافات الأولية التي يجب القيام بها لوقف النزيف قبل نقله إلى المستشفى؟

التمرین الرابع: 01 نقطة

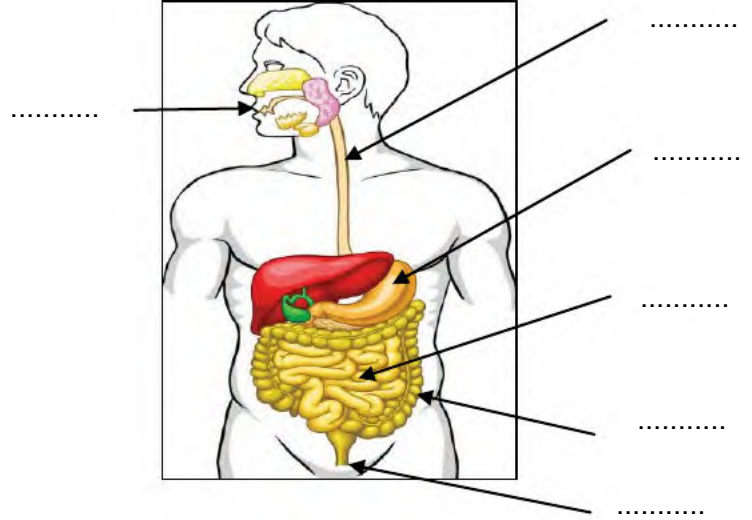
أذكر دورین أساسین للدم في الجسم؟

التمرين الخامس: 3.5 نقاط

أكمل بيانات كل من الجهازين التاليين وقم بتسمية الجهازين أسفل الرسم التخطيطي:



الجهاز.....



الجهاز.....

الإجابة النموذجية لامتحان الفصل الأول في مادة التریبة العلمية

التمرین الأول: 1.5 نقطة

یتطلب الإلتاش توفر ثلاثة (03) شروط. وهي:


1. توفر الماء (0.5)
2. الحرارة الملائمة (0.5)
3. سلامة البذرة (0.5)

التمرین الثاني: 02 نقاط

العنصر من البذرة الممثل بالشكل (01) هو:

- الرشیم (0.5)
- التعرف على البيانات أ، ب، ج:

- أ. الجذیر (0.5)
- ب. السويقة (0.5)
- ج. الوريقتان الأوليتان (0.5)



الشكل (1)

التمرین الثالث: 02 نقاط

الإسعافات الأولية التي يجب القيام بها لوقف النزيف قبل نقله إلى المستشفى هي:

1. تنظيف مكان الجرح بقطن أو شاش معقم (0.25)
2. الضغط على مكان النزيف باستعمال ضمادة نظيفة تكون من مادة ماصة مثل الشاش الطبي أو القماش (0.25)
3. إن أمكن جعل الجزء المصاب في مستوى أعلى من القلب. (0.25)
4. ربط الضمادة على الجرح بعد توقف النزيف. (0.25)

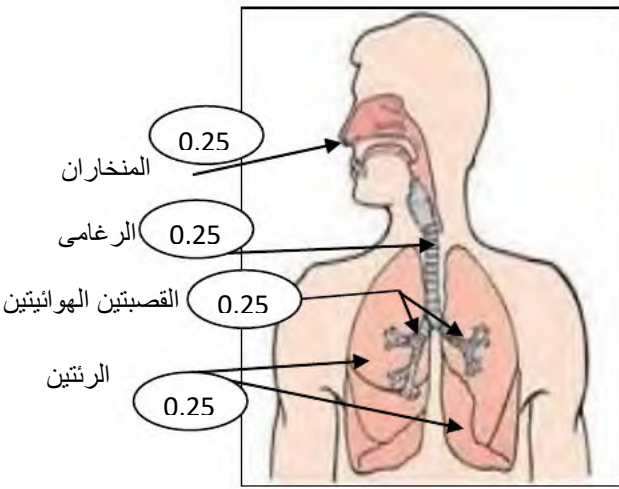
التمرين الرابع: 01 نقطة

دورين أساسيين للدم في الجسم هما:

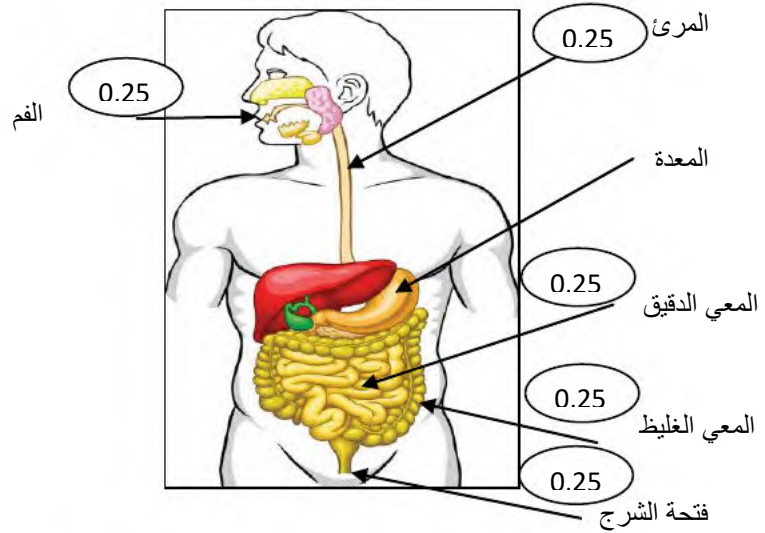
1. تزويد الجسم بالغذاء (0.5)
2. تخلص الجسم من الفضلات (0.5)

التمرين الخامس: 3.5 نقاط

بيانات كل من الجهازين التاليين و تسمية الجهازين أسفل الرسم التخطيطي:



0.5 الجهاز التنفسي



0.5 الجهاز الهضمي