

المستوى : السنة الثانية ابتدائي

الاسم و اللقب :

مدرسة :

السنة الدراسية : 2023/2022

اختبار الفصل الأول في مادة التربية العلمية

التمرين 01 : (2ن) أجب بـ صحيح أو خطأ



الأستاذ بكوش جعفر

1. عندما يدخل الهواء إلى جسمي ينخفض صدري (.....)
2. تنمو النباتات في وسط فيه مياه مالحة جدا (.....)
3. عندما ينمو جسمي يزداد وزني و تطول قامتي (.....)
4. الماء ضروري لحياة النبات الأخضر (.....)

التمرين 02 : (1,5ن) ألون التصرفات الصحيحة

أغسل يدي قبل الأكل

أسهر إلى ساعة متأخرة

أمارس الرياضة

أكل الحلويات كثيرا

ألعب في الأماكن المتسخة

أتناول أغذية صحية

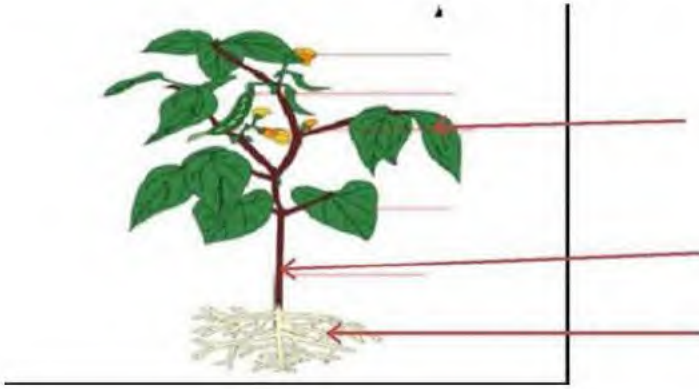
التمرين 02 : (3ن) صنف في الجدول الأغذية التالية

خضر - مشروبات غازية - رقائق البطاطا - كاشير - عدس - سمك

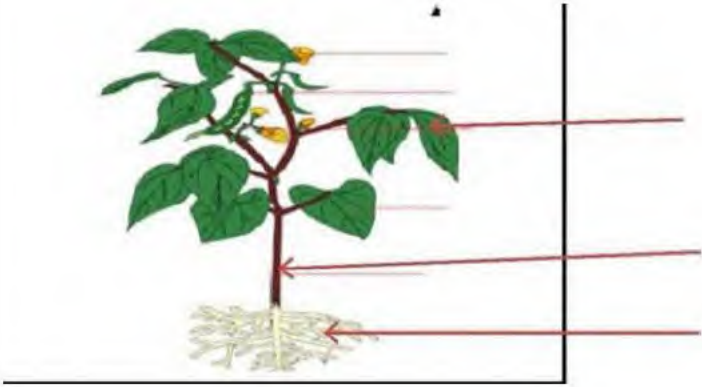
| أغذية غير صحية | أغذية صحية |
|----------------|------------|
| | |
| | |
| | |

التمرين 04 : (3,5ن) أكمل الفراغ بالكلمات المناسبة : الجذور - الساق - الماء - الأوراق

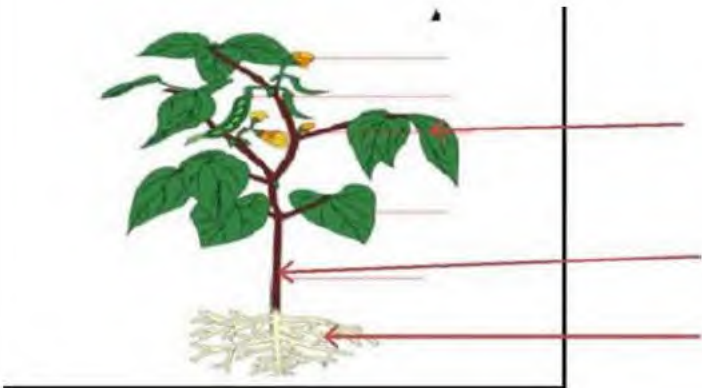
يمتص النبات من التربة بواسطة ثم يمرّ عبر ليصل إلى



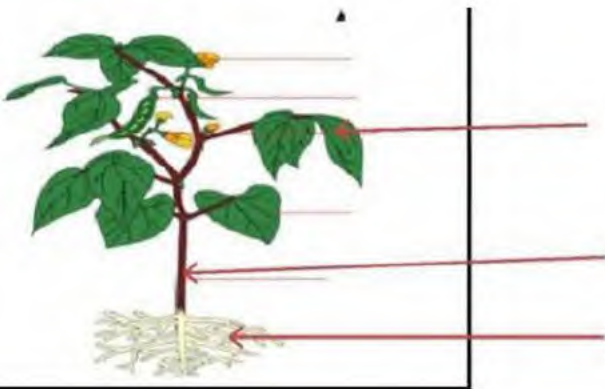
.....
.....
.....



.....
.....
.....



.....
.....
.....



.....
.....
.....

