

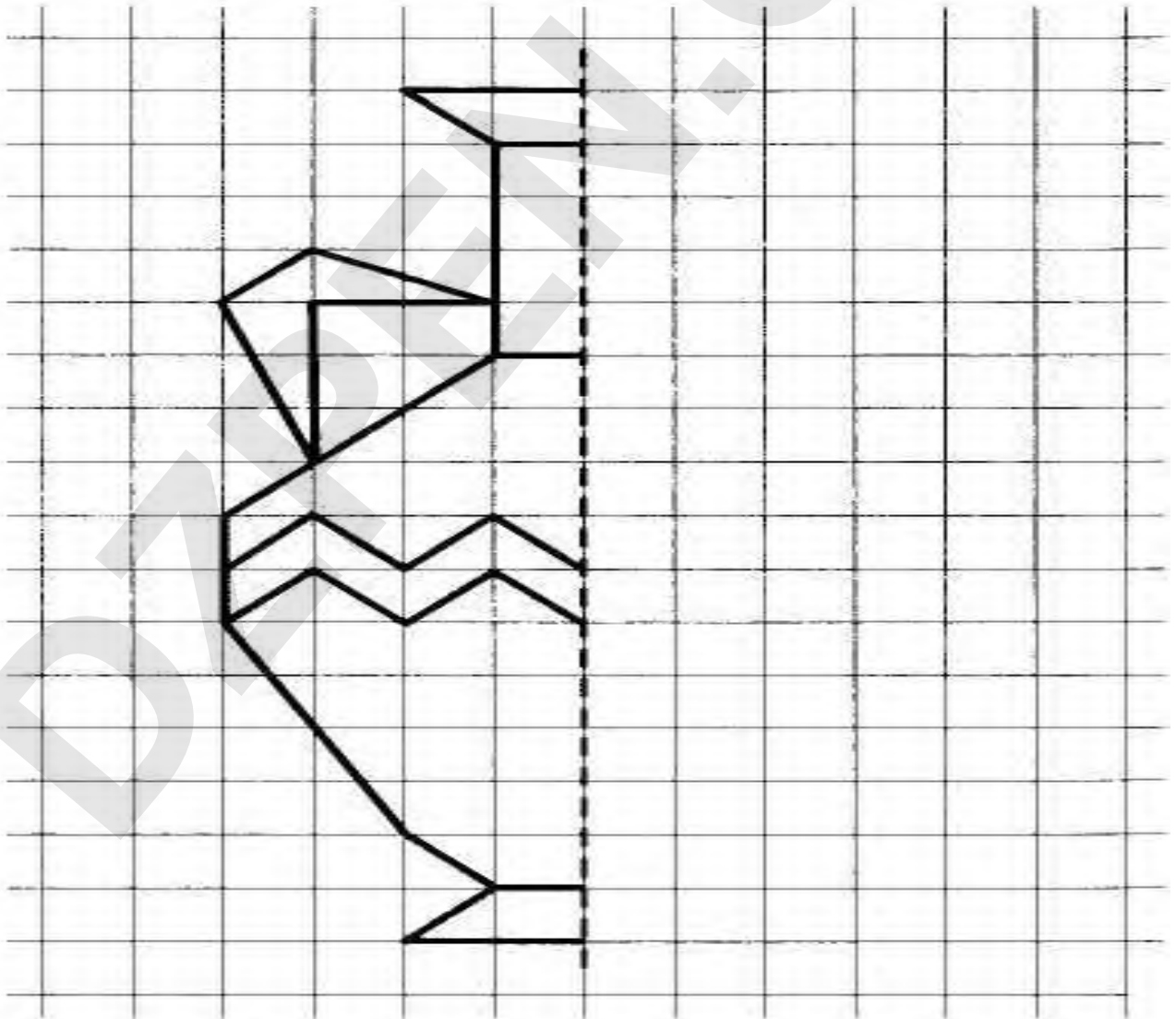
اختبار الفصل الثالث في التربية التشكيلية

1 / صنّف الخامات التالية في الجدول

قرص مضغوط - قطن - أعواد الثقاب - قشور البيض - أصداف - علبة المربي

الخامات الاصطناعية	الخامات الطبيعية
.....
.....
.....

2 / أكمل رسم المزهرة بالتناظر و ألونها :



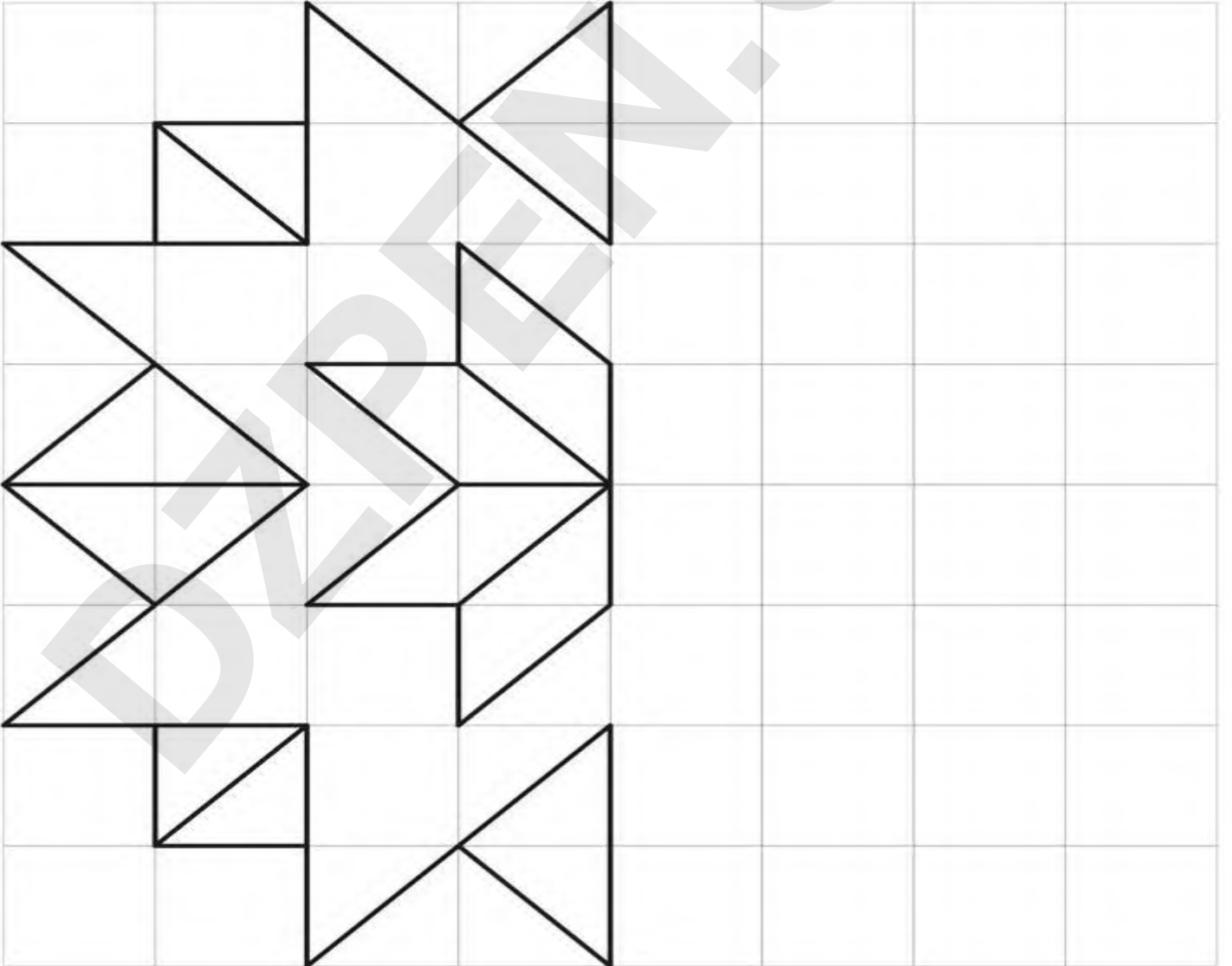
اختبار الفصل الثالث في التربية التشكيلية

1 / صنف الخامات التالية في الجدول

قرص مضغوط - قطن - أعواد الثقاب - قشور البيض - أصداف - علبة المربي

الخامات الطبيعية	الخامات الاصطناعية
.....
.....
.....

2 / أكمل رسم المزهرة بالتناظر و ألونها :



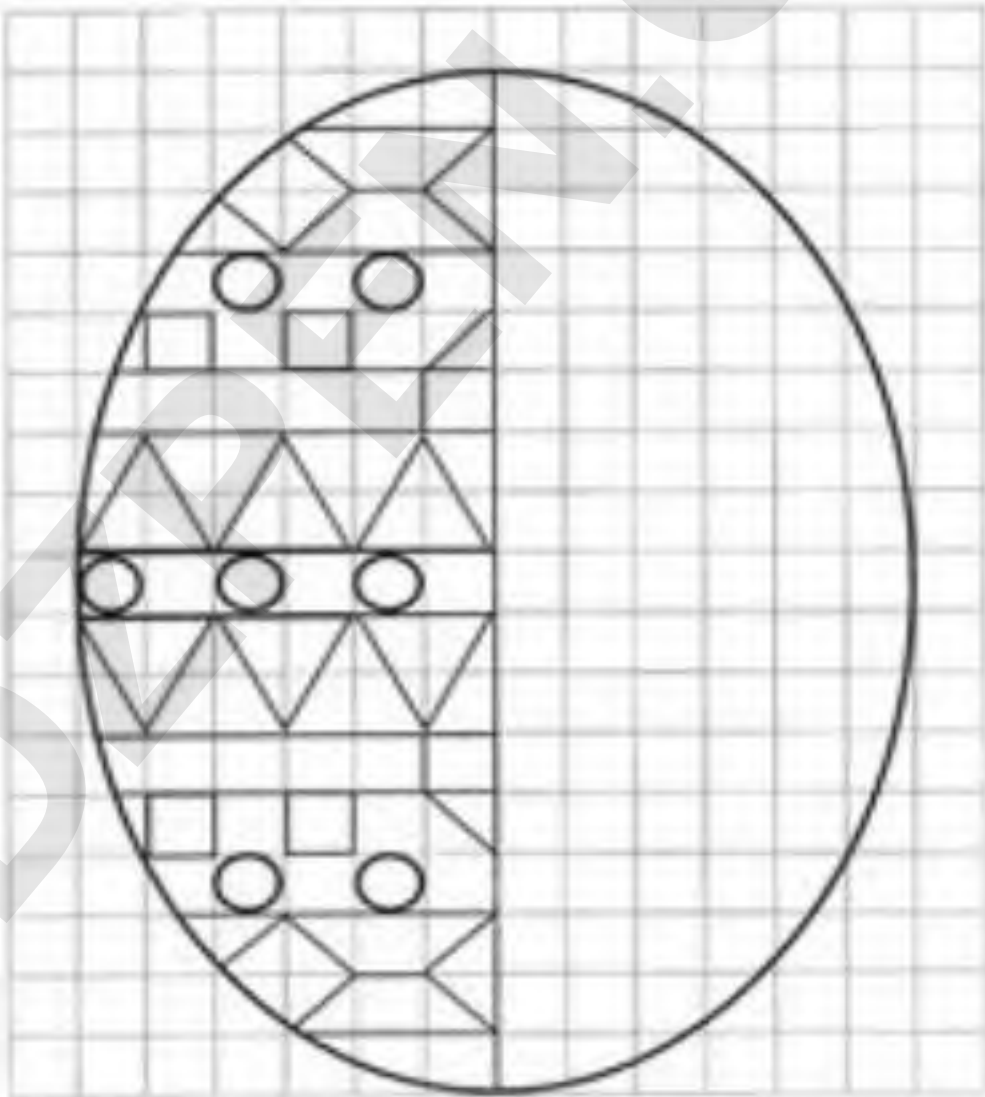
اختبار الفصل الثالث في التربية التشكيلية

1 / صنف الخامات التالية في الجدول

قرص مضغوط - قطن - أعواد الثقاب - قشور البيض - أصداف - علبة المربي

الخامات الاصطناعية	الخامات الطبيعية
.....
.....
.....

2 / أكمل رسم الشكل بالتناظر و ألونها :



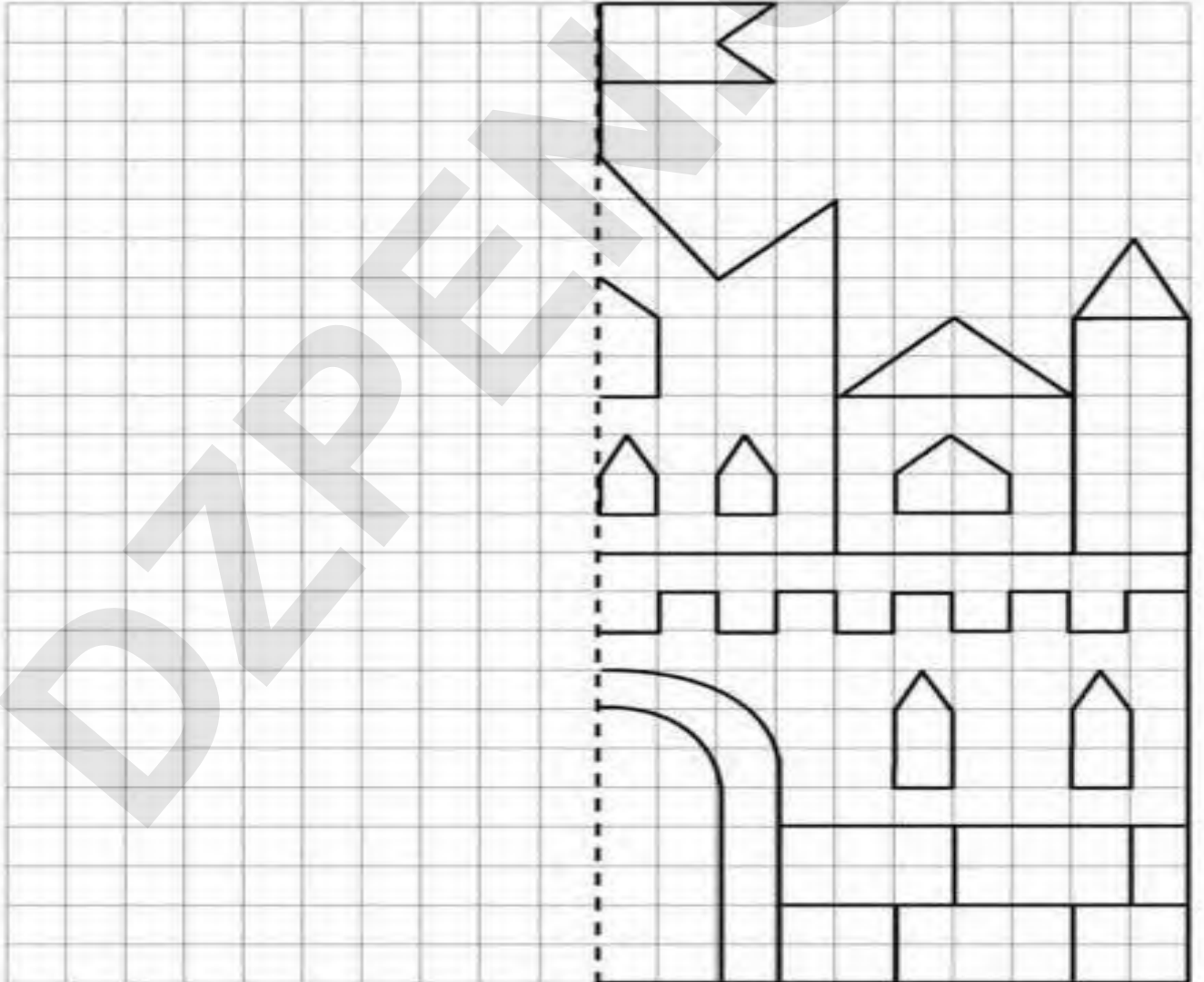
اختبار الفصل الثالث في التربية التشكيلية

1 / صنف الخامات التالية في الجدول

قرص مضغوط - قطن - أعواد الثقاب - قشور البيض - أصداف - علبة المربي

الخامات الاصطناعية	الخامات الطبيعية
.....
.....
.....

2 / أكمل رسم القلعة بالتناظر و ألونها :



اختبار الفصل الثالث في التربية التشكيلية

1 / صنّف الخامات التالية في الجدول

قرص مضغوط - قطن - أعواد الثقاب - قشور البيض - أصداف - علبة المربي

الخامات الاصطناعية	الخامات الطبيعية
.....
.....
.....

2/ اعتمادا على مبدأ التناظر ألون هذه المزهرية :



اختبار الفصل الثالث في التربية التشكيلية

1 / صنف الخامات التالية في الجدول

قرص مضغوط - قطن - أعواد الثقاب - قشور البيض - أصداف - علبة المربي

الخامات الاصطناعية	الخامات الطبيعية
.....
.....
.....

2 / اعتمادا على مبدأ التناظر ألون هذه المزهريّة :

