






النشاط 01: أعد و أكتب العدد











النشاط 02: أنجز العمليات

$6+4$

$6+8=$

$3+7=$

$6+4$

$6+8=$

$3+7=$

النشاط 03: لون الخانة المناسبة

15

أصغر من

19

أكبر من

7

أصغر من

3

أكبر من

6

أصغر من

10

أكبر من

18

أصغر من

14

أكبر من

11

أصغر من

12

أكبر من


8

أصغر من

5

أكبر من

النشاط 05: أكمل الشريط العددي



النشاط 04: رتب الأشجار من الأقصر إلى الأطول

