
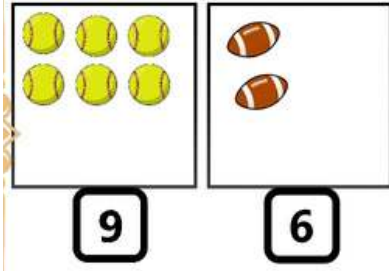


شطب الرّائد:

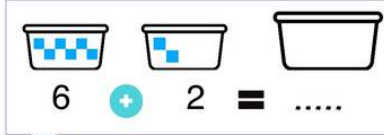


أكمل رسم الناقص:

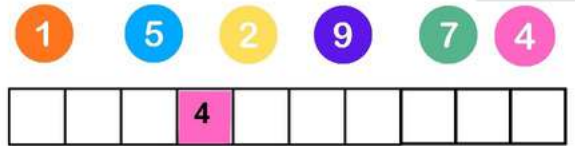


الأستاذة نقاز خديجة

أكمل إجراء العمليّات الحسابيّة:



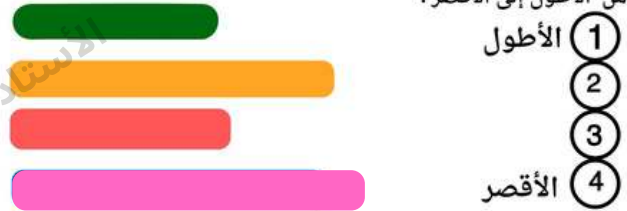
أكمل تلوين الخانات حسب ترتيبها



- لون الحصان الذي أمام الفارس بالبني - لون الحصان الذي بجانب الفارس بالرمادي.
- لون الحصان الذي خلف الفارس باللون البرتقالي.



رتّب من الأطول إلى الأقصر:

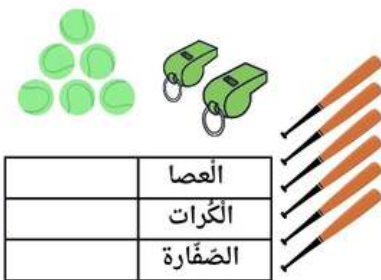


لاحظ الجدول واملأ الإجابة:

| | |
|----|--|
| 3 | |
| 1 | |
| 6 | |
| 10 | |

- عدد الأقلام:
- عدد الكُتب:
- عدد الأوراق:
- عدد المحفّطات:

عدّ الأشياء واملأ الجدول:



الأستاذة نقاز خديجة

الوضعية الإدماجية 1:

- كان عند أمين 5 كريات، لعب مع صديقه فحسّر كرتين 2 .
- كم بقي عند أمين من كرية؟
- بقي عند أمين :..... كرية.

