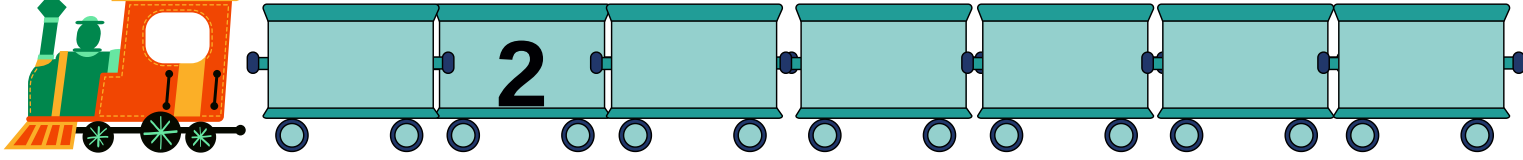






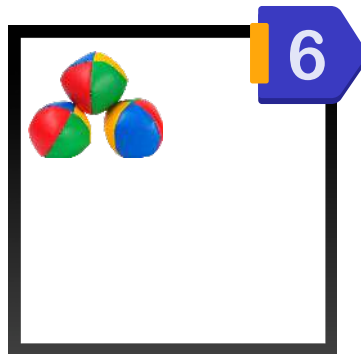
التمرين 1 : أكمل ترقيم عربات القطار .



التمرين 2 عدّ حبات الفشار وأكتب الرقم.



التمرين 3 : أكمل رسم الناقص.



التمرين 4 : عدّ الأشياء وإملا الجدول.






لَوْن الشَّجَرَة الَّتِي عَلَى يَمِينِ الْمَنْزَلِ بِالْأَخْضَرِ.
لَوْن الشَّجَرَة الَّتِي عَلَى يَسَارِ الْأَرْنَبِ

التَّمرين 5:



التَّمرين 6: رتِّبِ الأَقْلَامَ مِنَ الْأَطْوَلِ إِلَى الْأَقْصَرِ. 1-2-3-4



التَّمرين 7: جِدِ الرَّقْمَ الْمَجْهُولَ.

$$6 - 3 = \dots\dots$$

$$4 + \dots = 10$$

التَّمرين 8: لَاحِظِ الصُّورَةَ وَلَوِّنِ الْعَمَلِيَّةَ الصَّحِيحَةَ.



$$6 - 2 = 4$$

$$6 + 2 = 8$$