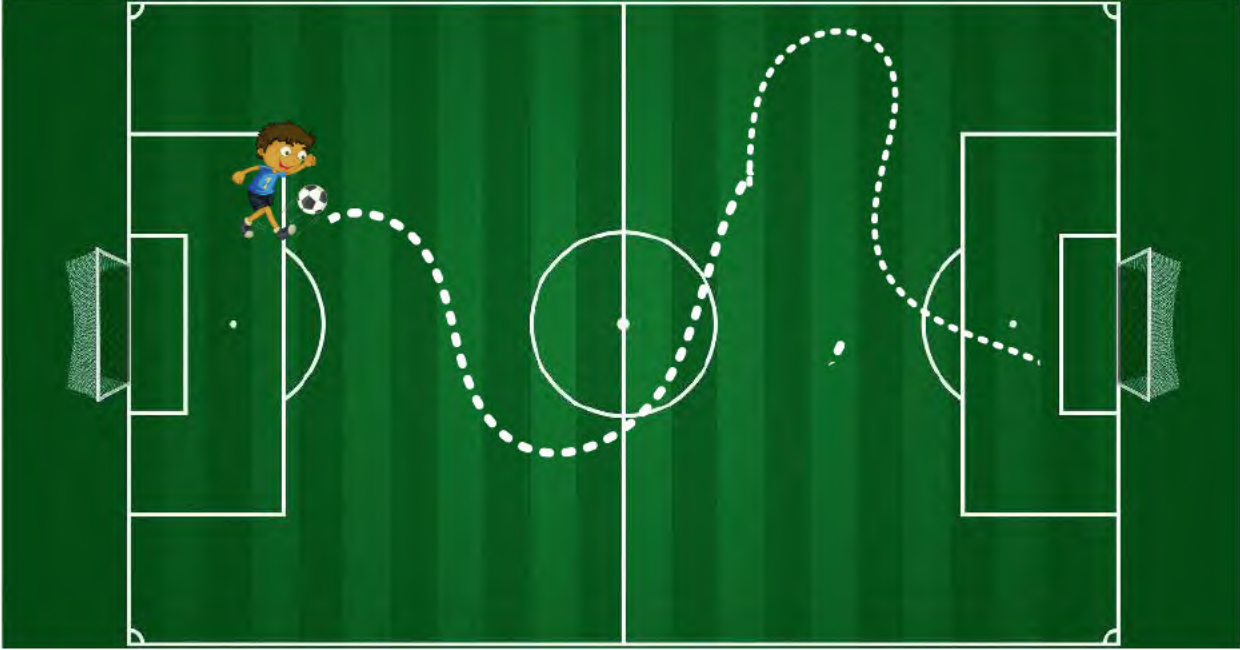






لون مسلك اللاعب للوصول الى الهدف باللون الاحمر



لون بألوان مختلفة مسلك كل حيوان الى صغيره



لون طريق وصول الأرنب الى الجزر





بعد



في الشجرة ... حبات برتقال

قبل



في الشجرة ... حبات برتقال

نقص من الشجرة ... حبات برتقال

$$5 + \dots = 7$$



2 عند عبد الفتاح 3 حبات حلوى اعطاه أخوه آدم 4 حبات حلوى
كم أصبح عند عبد الفتاح ؟

..... = ...

أصبح عند عبد الفتاح : حلوة

عند اسماعيل 8 حبات شكولاتة أعطى لأخيه أحمد 3 حبات شكولاتة
كم بقي عند إسماعيل ؟



..... = ...

بقي عند اسماعيل : شكولاتة

3 كان في السلة 5 حبات تفاح قطف محمد 4 حبات و اضافها في السلة



..... = ...

صارت في السلة حبات تفاح.

كان في علبة الشكولاتة 8 حبات أكل منها إيداد 3 حبات و



..... = ...

بقي في العلبة حبات شكولاتة.



املا الفراغات بما يناسب


1



$$3 + 3 = \dots$$



$$5 + 2 = \dots$$



$$4 + 3 = \dots$$

أكمل ربط كل بطاقة بالعدد المناسب

2

9

4

7

6

3

$$2 + 1$$

$$6 + 3$$

$$5 + 1$$

$$4 + 3$$

$$2 + 2$$

أكمل ربط كل بطاقة بالعدد المناسب

3

4

6

7

5

9

