
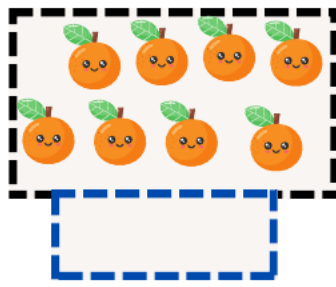
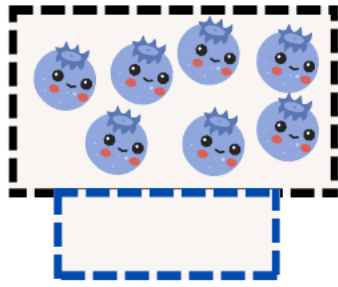




اعد وأكتب العدد

الاسم واللقب :



أرتب الأشرطة من الأطول الى الأقصر بالارقام

الوضعية 2



أحسب العمليات التالية

الوضعية 3

$$7 - 4 = \dots$$

$$4 + \dots = 7$$

$$6 + 2 = \dots$$

$$6 - 1 = \dots$$

$$2 + \dots = 5$$


$$4 + 3 = \dots$$

$$9 - 5 = \dots$$

$$6 + \dots = 8$$

$$5 + 1 = \dots$$

أرسم مسار الارنب الى الجزر



لون الخانات بقدر العدد المكتوب

الوضعية 4

14

12

15

الوضعية الإدماجية

عند آدم 3 حبات حلوى زاده أخوه 4 حبات
كم أصبح عند آدم ؟

العملية : ... = ...

