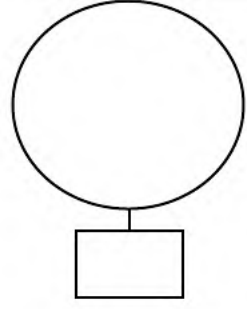
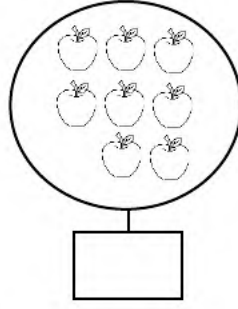
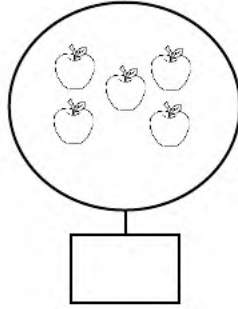
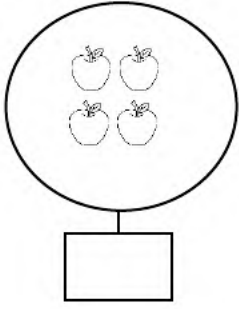


الإسم:
اللقب:

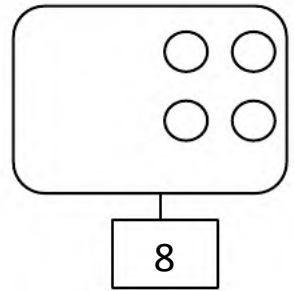
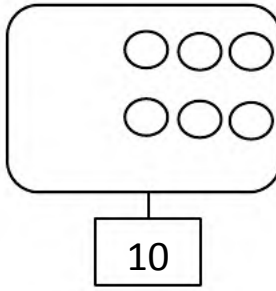
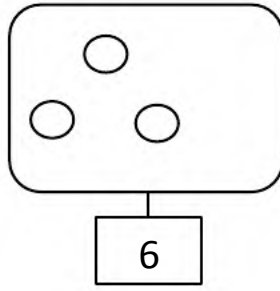
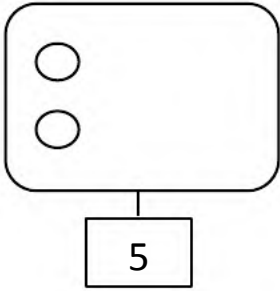
اختبار الفصل الأول في مادة
الرياضيات

مدرسة: تواتي محمد
السنة الأولى ابتدائي

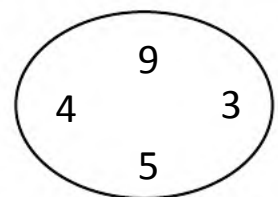
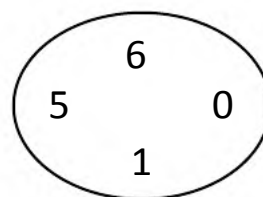
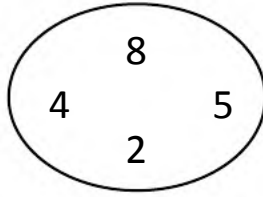
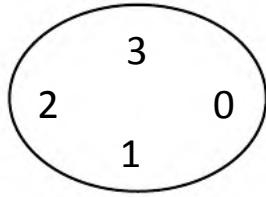
أحسب وأكتب العدد المناسب: **التمرين الأول: (02ن)**




أكمل رسم الكريات الناقصة: **التمرين الثاني: (02ن)**



أحيط العدد الأكبر في كل حالة: **التمرين الثالث: (02ن)**



أرتب ما يلي من الأطول إلى الأقصر: **التمرين الرابع: (01ن)**



أنجز العمليات التالية: **التمرين الخامس: (02ن)**

$6 + 3 = \dots\dots\dots$

$7 + 3 = \dots\dots\dots$

$8 - 5 = \dots\dots\dots$

$9 - 6 = \dots\dots\dots$

ألون الحيوان الذي على يسار الطفل: **التمرين السادس: (01ن)**

