



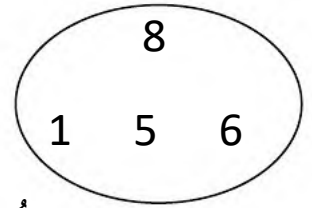
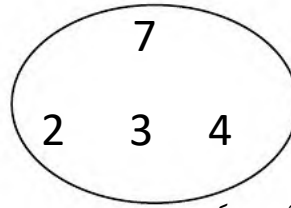
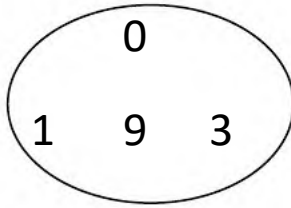
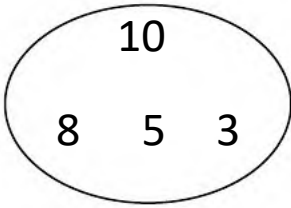
ديسمبر 2023

المستوى: الأول ابتدائي (1AP)


اختبار الفصل الأول في مادة الرياضيات (1م)

اللقب: الاسم: القسم:

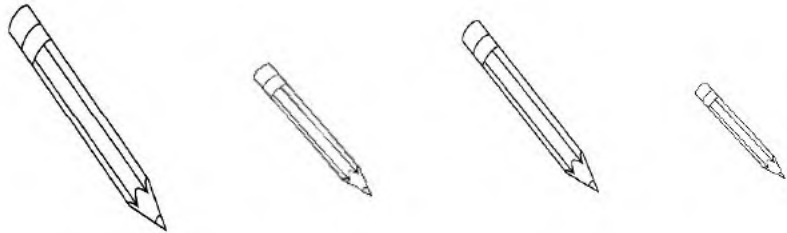
التمرين 1: أحيط أكبر عدد باللون الأحمر و أصغر عدد باللون الأصفر.



التمرين 2: أ- أحوط 8 أزهار.



ب- ألون بالأخضر أقصر قلم وبالأزرق أطول قلم.



التمرين 3: أ/أكمل الشريط العددي.

.	.	.	3	8	.	.
---	---	---	---	---	---	---	---	---	---	---

ب/ أَحْسِبُ :

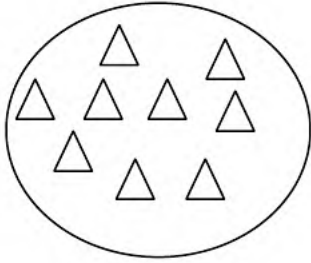
$$3 + 7 = \dots\dots$$

$$8 + 1 = \dots\dots$$

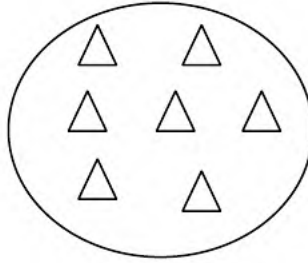
$$4 + 4 = \dots\dots$$

$$3 + 5 = \dots\dots$$

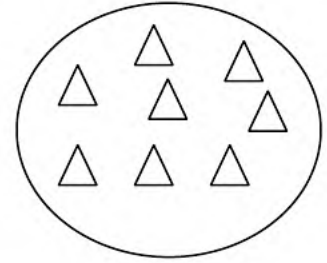
التمرين 4: أَشْطَبُ الْمُثَلَّثَاتِ الزَّائِدَةَ فِي كُلِّ مَرَّةٍ.



8



3



5

التمرين 5: أَضَعُ الْإِشَارَةَ (x) فِي الْخَانَةِ الْمُنَاسِبَةِ.



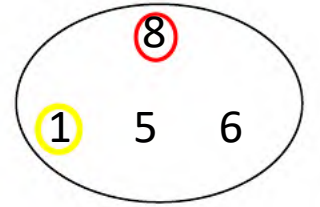
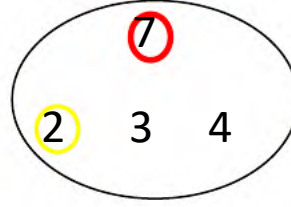
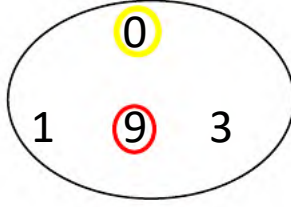
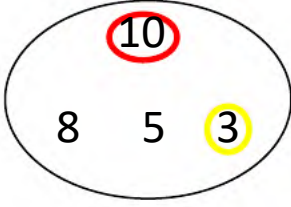
أ- يَكْتُبُ أَمِينُ بِالْيَدِ الْيُمْنَى .

ب- يَكْتُبُ أَمِينُ بِالْيَدِ الْيُسْرَى .


بالتوفيق 

تصحيح الاختبار في مادة الرياضيات

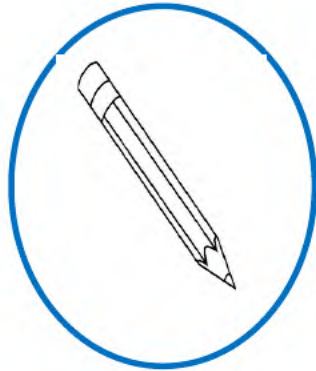
التمرين 1: أحيط أكبر عدد باللون الأحمر و أصغر عدد باللون الأصفر.



التمرين 2: أ- أحوط 8 أزهار.



ب- ألون بالأخضر أقصر قلم وبالأزرق أطول قلم.



التمرين 3: أ/أكمل الشريط العددي.



ب/ أَحْسَبُ :

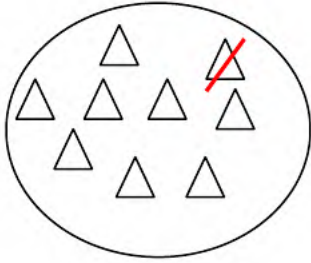
$$3 + 7 = 10$$

$$8 + 1 = 9$$

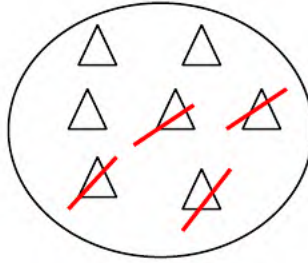
$$4 + 4 = 8$$

$$3 + 5 = 8$$

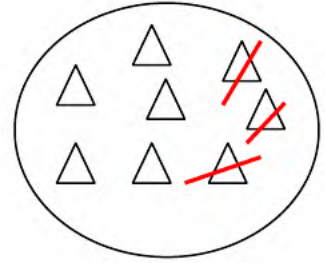
التمرين 4: أَشْطَبُ الْمُثَلَّثَاتِ الزَّائِدَةَ.



8



3



5

التمرين 5: أَضَعُ الإِشَارَةَ (×) فِي الخَانَةِ المُنَاسِبَةِ.



أ- يَكْتُبُ أَمِينٌ بِالْيَدِ اليُمْنَى

ب- يَكْتُبُ أَمِينٌ بِالْيَدِ اليُسْرَى