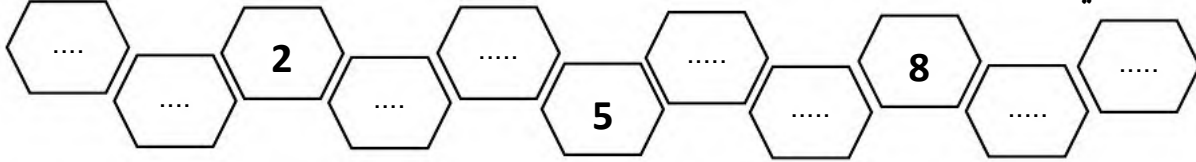


التقويم الأول في مادة الرياضيات


الاسم:

اللقب:


1/ أكمل الشريط العددي:



2/ أحسب عدد الأزهار وأضع العدد المناسب:



3/ رتب الأقلام تنازليا من الأطول الى الأقصر (من 4 الى 1)



4/ أتمم عمليات الجمع والطرح الآتية:

$4 + 3 = \dots$

$5 + 2 = \dots$

$4 + 4 = \dots$

$10 - 3 = \dots$

$8 - 5 = \dots$

$6 - 6 = \dots$

5/ أرتب الأعداد من الأكبر الى الأصغر:

7 . 9 . 8 . 5 . 16

.....

6/ أكمل بالأرقام:

- أربعة عشر =

- تسعة عشر =

7/ **المتاهة:** ساعد القط ليجد السمكة.

