



أكتوبر 2023

المستوى: الأول ابتدائي (1AP)


الفرض الأول في مادة الرياضيات (1م)

اللقب: الاسم: القسم:

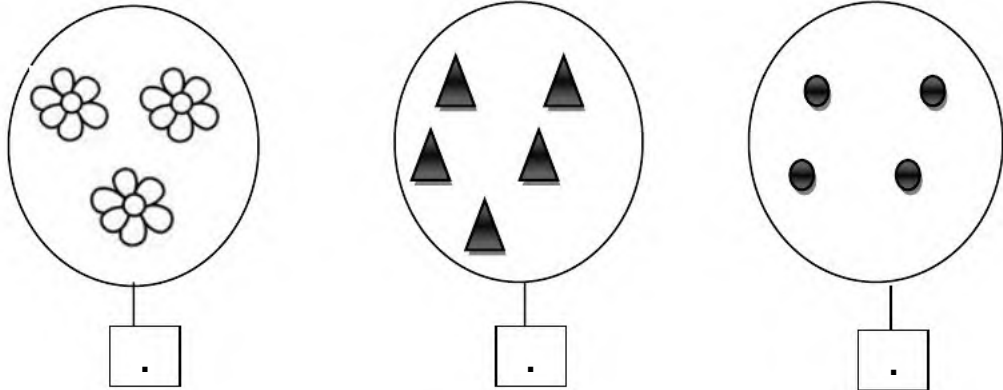
التمرين 1: أكمل كتابة الأعداد على الشريط العددي.

0	.	2	8	9
---	---	---	---	---	---	---	---	---	---

التمرين 2: ألون الأشكال بقدر العدد المكتوب.



التمرين 3: أعد و أكتب العدد المناسب في كل بطاقة.



التمرين 4: أضع إشارة (X) في الخانة المناسبة.



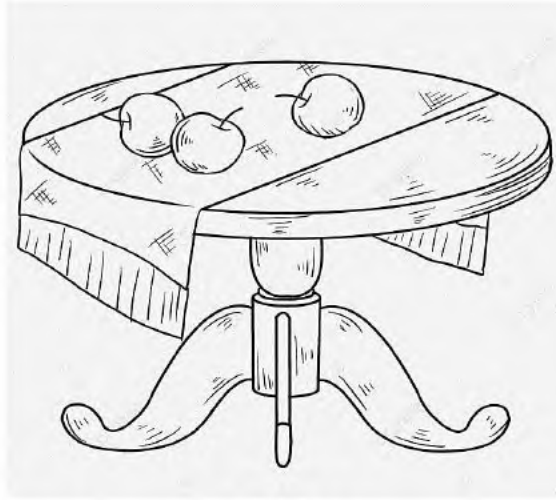
نعم لا

- الكلب الأبيض أمام البيت.

- الطعام بجانب البيت.

- الكلب الرمادي مقابل البيت.

التمرين 5: ألون الأشياء الموجودة على الطاولة بالأحمر، وما يوجد أسفل الطاولة بالأزرق.



بالتوفيق



تصحيح الفرض الأول في مادة الرياضيات

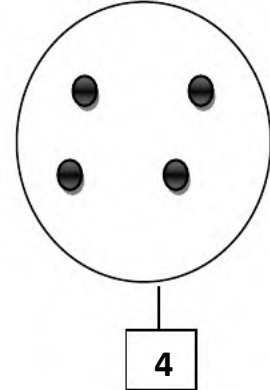
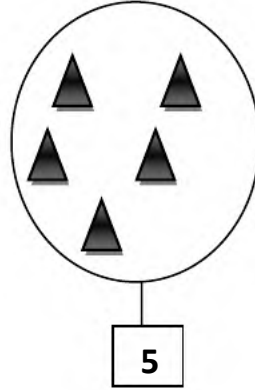
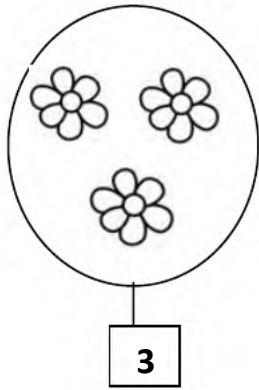
التمرين 1: أكمل كتابة الأعداد على الشريط العددي.

0	1	2	3	4	5	6	7	8	9
---	---	---	---	---	---	---	---	---	---


التمرين 2: ألون الأشكال بقدر العدد المكتوب.



التمرين 3: أعد و اكتب العدد المناسب في كل بطاقة.



التمرين 4: أضع إشارة (X) في الخانة المناسبة.



نعم لا

- الكلب الأبيض أمام البيت.

- الطعام بجانب البيت.

- الكلب الرمادي مقابل البيت.

التمرين 5: ألون الأشياء الموجودة على الطاولة بالأحمر، وما يوجد أسفل الطاولة بالأزرق.

يلون التفاح بالاحمر

يلون الكرة بالازرق

