

السنة الدراسية: 2023/2022

الاسم واللقب: .....

المدرسة: المجاهد الطيب الزاوي

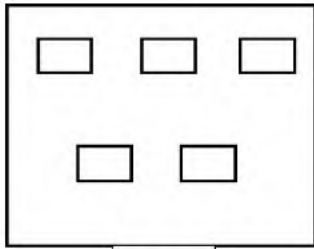
المستوى: الأولى ابتدائي

تقويم الفصل الأول في مادة

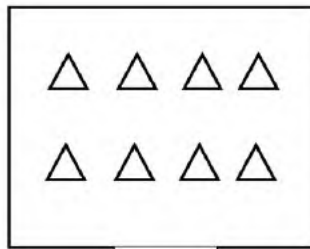
الرياضيات

10

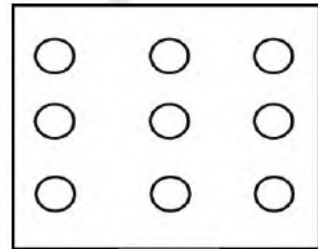
التمرين الأول: أحسب ثم أكتب النتيجة :



.

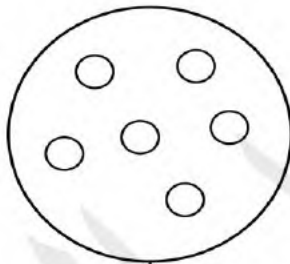


.



.


التمرين الثاني : أشطب الأشكال الزائدة:



3



5



6

التمرين الثالث : أكمل شريط الاعداد :

0	.	.	3	.	5	.	7	.	9	.
---	---	---	---	---	---	---	---	---	---	---

- التمرين الرابع : أرتب الأشجار من الأقصر إلى الأطول



.



.



.



.



.

### التمرين الخامس:

ألون السيارة الموجودة على يمين الشرطي بالأزرق .  
ألون السيارة الموجودة على يسار الشرطي بالأحمر .



الوضعية الإدماجية :



وصحن آخر به



صحن به

كم تفاحة في الصحنين؟

$$\square + \square = \square$$

عدد التفاحات : .....

بالتوفيق