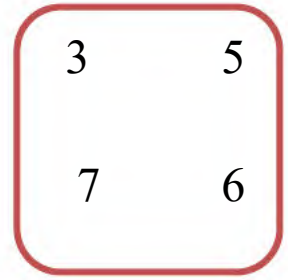
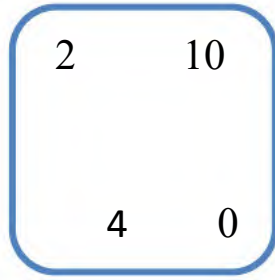
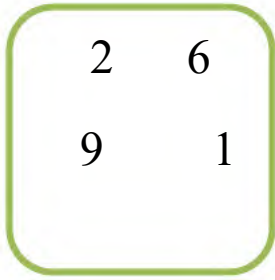




المستوى: الأول ابتدائي (1AP) نوفمبر 2022

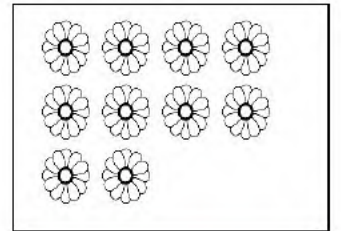
الفرض الأول في مادة الرياضيات (م2)

التمرين 01: أحيط أكبر عددٍ في كلِّ مجموعةٍ:




التمرين 02: أعدُّ ثمَّ أصلُ معَ ما يُناسبُ .


5



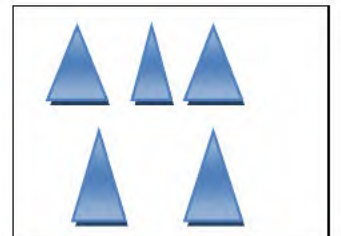
8



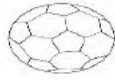
10



6



التمرين 03: ألَوْنُ بِالْأَصْفَرِ الْكُرَّةَ الَّتِي وَرَاءَ الْوَلَدِ وَ بِالْأَحْمَرِ الَّتِي أَمَامَهُ.



الوضعية الإدماجية: أَلِحِظْ الْجَدْوَلَ وَأَكْمِلْ بِمَا يُنَاسِبُ.

•	•	•	•

ألَوْنُ الإِجَابَةِ الصَّحِيحَةَ:

مِنْ حَبَّاتِ الإِجَاصِ.

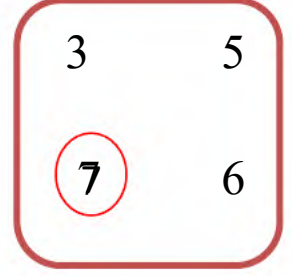
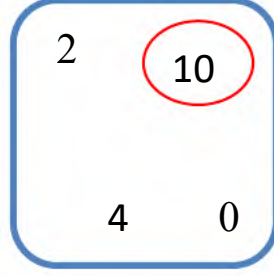
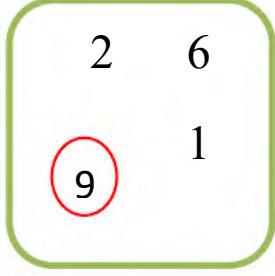
أَكْثَرَ مِنْ

• عَدَدُ حَبَّاتِ التُّفَاحِ

أَقَلَّ مِنْ

تصحيح الفرض الأول في مادة الرياضيات

التمرين 01 : أحيط أكبر عدد في كل مجموعة :



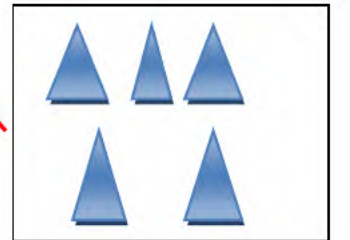


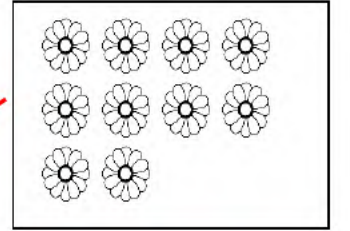
التمرين 02 : أعد ثم أصل مع ما يناسب .

5

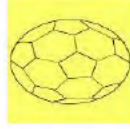
8

10

6



التمرين 03: ألَوْنُ بِالْأَصْفَرِ الْكُرَّةَ الَّتِي وَرَاءَ الْوَلَدِ وَ بِالْأَحْمَرِ الَّتِي أَمَامَهُ.



الوضعية الإدماجية: أَلِحِظْ الْجَدُولَ وَأَكْمِلْ بِمَا يُنَاسِبُ .

			
4	10	6	2

ألَوْنُ الْإِجَابَةِ الصَّحِيحَةَ:

مِنْ حَبَّاتِ الْإِجَاصِ.

أَكْثَرُ مِنْ

أَقَلَّ مِنْ

• عَدَدُ حَبَّاتِ التُّفَاحِ