

## موضوع التاريخ و الجغرافيا لشعبة لغات أجنبية بكالوريا 2011

الجمهورية الجزائرية الديمقراطية الشعبية

الديوان الوطني للامتحانات والمسابقات

وزارة التربية الوطنية

دورة: جوان 2011

امتحان بكالوريا التعليم الثانوي

الشعبة: لغات أجنبية

المدة: 03 ساعات ونصف

اختبار في مادة: التاريخ والجغرافيا

على المترشح أن يختار أحد الموضوعين التاليين:

### الموضوع الأول

أولا: التاريخ

الجزء الأول: (06 نقاط)

«... نجحت الثورة في توحيد الشعب والتفافه حول جبهة التحرير وجيش التحرير الوطني، وولائه لحكومته المؤقتة، وبذلك استطاعت أن تُفشل الخطط الاستعمارية بفضل تخطيطها لتنظيم الشعب وتطوير جيش التحرير، الذي رُسم في مؤتمر الصومام...»

المرجع: مؤتمر الصومام وتطور الثورة الجزائرية 1956-1962

زغدي محمد لحسن. ص 131.

1- حدّد مفهوم المصطلحات التي تحتها خطّ في النص.

2- عرّف بالشخصيات التالية: - رابح بيطاط - محمد بوضياف - شارل ديغول.

3- أكمل جدول الأحداث التالي:

التاريخ	الحدث
23 مارس 1954	.....
.....	هجمات الشمال القسنطيني
22 أكتوبر 1956	.....

الجزء الثاني: (04 نقاط)

لقد أدى التنافس الحاد بين المعسكرين الشرقي والغربي إلى تراجع مكانة الاتحاد السوفيتي وتفكك الكتلة الشرقية، مما مكّن الولايات المتحدة الأمريكية من الانفراد بقيادة العالم وظهور الأحادية القطبية.

المطلوب: انطلاقا من الفقرة واعتمادا على ما درست، اكتب مقالا تاريخيا تبرز فيه:

1- أسباب تفكك الكتلة الشرقية.

2- مظاهر تفككها.

ثانيا: الجغرافيا

الجزء الأول: (06 نقاط)

«... فشل محادثات منظمة التجارة العالمية في كإنكون جاء من داخل المنظمة، فلقد كان واضحا منذ افتتاح هذه الدورة، بأن دول العالم الثالث لن تتراجع عن مطلبها الأساسي... ولعل الشعار الذي رفعه معارضو العولمة في مظاهراتهم في كإنكون يصور حقيقة تلك الشعوب ((إن العالم ليس للبيع))...».

المرجع: صحيفة الشرق الأوسط : 2003/09/16 م

1- حدّد مفهوم المصطلحات التي تحتها خطّ في النص.

2- إليك جدولا يمثّل عدد السكان الذين يعانون من سوء التغذية حسب هذه البلدان في سنة 2008 بمليون نسمة.

البلد	الهند	الصين	بنغلاديش	الكونغو	باكستان	إثيوبيا	تنزانيا	الفلبين	اندونيسيا	تايلاند
عدد السكان	209.5	153.4	44	39	37.5	32.7	16.4	14.6	13.8	13.8

المرجع: WIKIPEDIA.ORG/WIKI/SOUS ALIMENTATION

أ- مثّل أرقام الجدول بواسطة أعمدة بيانية بمقياس: 1 سم = 10 مليون نسمة

1 سم = عمود

ب- علّق على الرسم.

الجزء الثاني: (04 نقاط)

تمثّل الولايات المتحدة الأمريكية قطبا اقتصاديا فاعلا في العالم، بفضل إمكاناتها المتعددة.

المطلوب: انطلاقا من الفقرة واعتمادا على ما درست، اكتب مقالا جغرافيا تبرز فيه:

1- مظاهر القوة الاقتصادية للولايات المتحدة الأمريكية.

2- أثر قوتها على العلاقات الاقتصادية الدولية.

## الموضوع الثاني

أولاً: التاريخ

الجزء الأول: (06 نقاط)

« ... بانتهاء المعسكر الشرقي، ومجاعة روسيا لوجهات النظر الأمريكية، لم يعد هناك صراع بين الشرق والغرب، وإنما بين الشمال والجنوب، وتحوّل العالم من الثنائية القطبية إلى الأحادية القطبية، الذي أعطى مساراً جديداً للعلاقات الدولية، سهل للولايات المتحدة الأمريكية احتواء دور ومهام الهيئات الدولية كالأمم المتحدة ومجلس الأمن... »

المرجع: الكتاب المدرسي/ السنة الثالثة ثانوي/ تاريخ ص 124

- 1- حدّد مفهوم المصطلحات التي تحتها خطّ في النص.
- 2- عرّف بالشخصيات التالية: - رونالد ريغان - ميخائيل غورباتشيف - جوزيف بروز تيتو.
- 3- أكمل جدول الأحداث التالي:

التاريخ	الحدث
.....	مشروع مارشال
19 ماي 1956	.....
.....	تأميم قناة السويس

الجزء الثاني: ( 04 نقاط )

لقد حققت الثورة التحريرية انتصارات عظيمة على المستويين الداخلي والخارجي، مكّنت الجزائر من الاستقلال وإعادة بناء الدولة الجزائرية، على أسس برنامج طرابلس (جوان 1962 م).  
المطلوب: انطلاقاً من الفقرة واعتماداً على ما درست، اكتب مقالا تاريخيا تبرز فيه:

- 1- ظروف قيام الدولة الجزائرية.
- 2- الاختيارات السياسية والاقتصادية على ضوء ما جاء في برنامج طرابلس.

ثانيا: الجغرافيا

الجزء الأول: ( 06 نقاط )

«... العامل البشري إنه رأس مال الدول الآسيوية وأساس التنمية، فهو مجتمع نشط محب للعمل... وأقر البنك العالمي، بعد طول تحفظ، أن الدولة تؤدي في البلدان الآسيوية دورا يتجاوز ما تسمح به النظرية الليبرالية، فهي تتحكم في نسب الصرف من خلال سياسات صناعية هادفة...».

المرجع: P. judet historiens et géographes

1- حدّد مفهوم المصطلحات التي تحتها خطّ في النص.

2- إليك جدولا يمثّل الإنتاج الفلاحي في بعض دول الاتحاد الأوروبي لسنة 2009 بمليون طن.

الدولة	ألمانيا	فرنسا	إيطاليا	هولندا	بريطانيا	قبرص	فنلندا	سلوفينيا
كمية الإنتاج	43.1	64	44.9	19.5	24	0.6	3.09	01

المرجع: STATISTIQUE MONDIALE/UE PRODUCTION AGRICOLE

- مثّل أرقام الجدول بواسطة أعمدة بيانية بمقياس: 1 سم = 05 مليون طن

1 سم = عمود

3- على خريطة الإتحاد الأوروبي المرفقة، وقّع الدول التالية: ألمانيا - فرنسا - إيطاليا - هولندا - بريطانيا - قبرص.

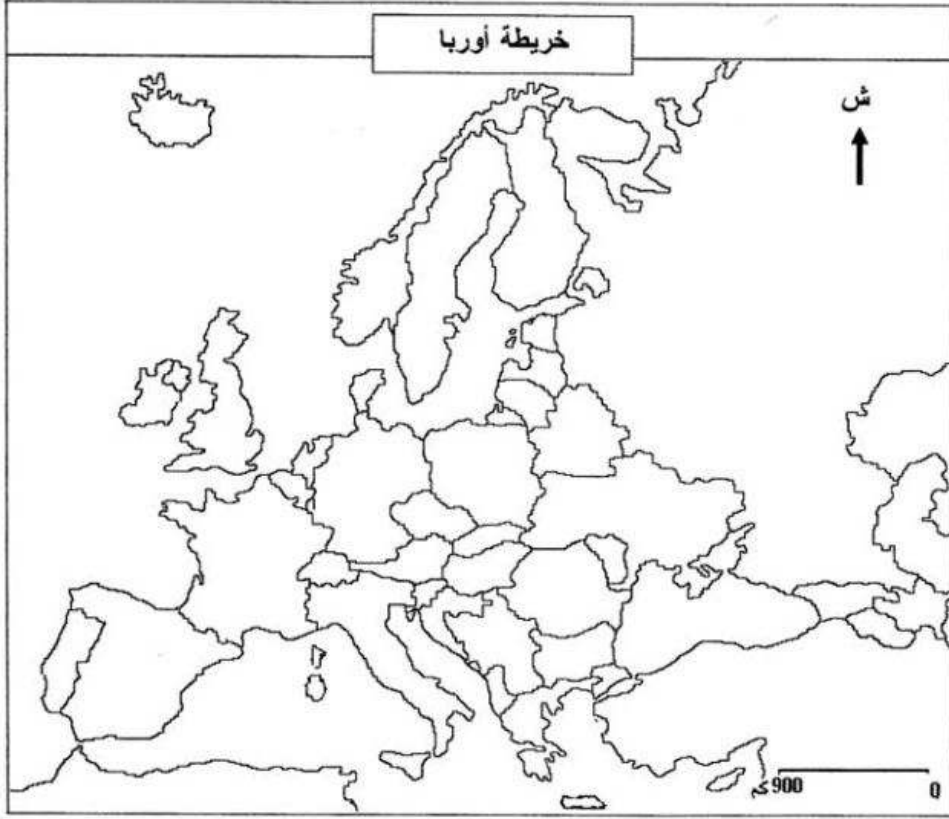
الجزء الثاني: ( 04 نقاط )

تشابهت خصائص دول عالم الجنوب، كما تعدّدت مشاكلها لكنها تفاوتت من حيث درجة فشلها في السياسة التنموية التي تبنتها.

المطلوب: انطلاقا من الفقرة واعتمادا على ما درست، اكتب مقالا جغرافيا تبرز فيه:

1- خصائص دول عالم الجنوب المتخلف.

2- أسباب فشل التنمية في هذه الدول.



ينجز العمل المطلوب على الخريطة وتعاد مع أوراق الإجابة

## الإجابة النموذجية و سلم التنقيط

امتحان شهادة البكالوريا دورة : 2011  
المادة : التاريخ والجغرافيا الشعبة: لغات أجنبية

العلامة		عناصر الإجابة	محاور الموضوع								
المجموع	مجزأة										
		الموضوع الأول <u>أولا: التاريخ</u>									
		<b>الجزء الأول: 06 نقاط</b>									
	0.75	الثورة: رد فعل وطني شامل بأساليب وأشكال مختلفة يلجا إليها الشعب لتغيير واقع استعماري مفروض.	<b>1- تحديد مفهوم المصطلحات</b>								
	0.75	- جبهة التحرير الوطني:-- تنظيم سياسي ثوري وطني ظهر في أول نوفمبر 1954 ، وهي الممثل الشرعي والوحيد للشعب الجزائري، تهدف إلى تحرير الجزائر من الاستعمار									
	0.5	- الحكومة المؤقتة: تنظيم سياسي نشأ في 19 سبتمبر 1958 برئاسة عباس فرحات لتمثيل الثورة على الصعيدين الداخلي والخارجي، والتحضير لمرحلة المفاوضات.									
06	0.75	- رابح بيطاط: سياسي جزائري ناضل في حزب الشعب وحركة الانتصار والمنظمة الخاصة، عضو اللجنة الثورية للوحدة والعمل ومجموعة 22، أحد مفجري الثورة قائد المنطقة الرابعة.	<b>2- التعريف بالشخصيات</b>								
	0.75	- محمد بوضياف: سياسي جزائري ناضل في حزب الشعب وحركة الانتصار والمنظمة الخاصة، عضو اللجنة الثورية للوحدة والعمل ومجموعة 22، منسق مجموعة الستة أحد مفجري الثورة تعرض للمسجون بسبب الفرصنة الجوية.									
	0.5	-شارل ديغول: سياسي وعسكري فرنسي، قاد المقاومة الفرنسية ضد النازية، أسس حكومة فرنسا الحرة في لندن، عاد إلى الحكم في فرنسا في 01 جوان 1958 ، أرغمته الثورة على التفاوض والاعتراف بالاستقلال.									
	0.75		<b>3- تكملة الجدول</b>								
	0.75										
	0.5										
		<table border="1"> <thead> <tr> <th>التاريخ</th> <th>الحدث</th> </tr> </thead> <tbody> <tr> <td>23مارس 1954</td> <td>تأسيس اللجنة الثورية للوحدة والعمل</td> </tr> <tr> <td>20أوت 1955</td> <td>هجمات الشمال القسنطيني</td> </tr> <tr> <td>22أكتوبر 1956</td> <td>الفرصنة الجوية (اختطاف زعماء الثورة)</td> </tr> </tbody> </table>	التاريخ	الحدث	23مارس 1954	تأسيس اللجنة الثورية للوحدة والعمل	20أوت 1955	هجمات الشمال القسنطيني	22أكتوبر 1956	الفرصنة الجوية (اختطاف زعماء الثورة)	
التاريخ	الحدث										
23مارس 1954	تأسيس اللجنة الثورية للوحدة والعمل										
20أوت 1955	هجمات الشمال القسنطيني										
22أكتوبر 1956	الفرصنة الجوية (اختطاف زعماء الثورة)										
		<b>87</b>									

العلامة		عناصر الإجابة	محاور الموضوع
المجموع	مجزأة		
04	0.5	<p><b>الجزء الثاني: 04 نقاط</b></p> <p>اختلال التوازن بين المعسكرين عجل بانهيار المعسكر الشيوعي وانفراد الو. م. ا بقيادة العالم</p>	المقدمة
	6×0.25	<p>1- أسباب تفكك الكتلة الشرقية</p> <p>-طبيعة النظام السياسي والاقتصادي السوفيتي.</p> <p>-بروز حركات إصلاحية ليبرالية في أوروبا الشرقية الشيوعية حولت أنظمتها إلى أنظمة ليبرالية.</p> <p>ليوننة الرئيس السوفيتي الجديد وسياسته الانفتاحية.</p> <p>-تخلي الاتحاد السوفيتي عن زعامة المعسكر الشرقي.</p> <p>-سياسة التطويق التي فرضتها الو. م. ا.</p> <p>-تركيز اس على معالجة مشاكله الداخلية.</p>	العرض
	6×0.25	<p>2- مظاهر تفككها</p> <p>- تحطيم جدار برلين 09 نوفمبر 1989</p> <p>- توحيد الألمانيتين 03 أكتوبر 1990.</p> <p>- حل منظمة الكوميكون 28 جوان 1991</p> <p>- تصفية حلف وارسو 01 جويلية 1991.</p> <p>- مؤتمر ألمانيا 21 ديسمبر 1991.</p> <p>- زوال اس 25 ديسمبر 1991</p>	
	0.5	<p>بتصدع اس انهار المعسكر الشرقي وبرز النظام الدولي الجديد.</p>	الخاتمة

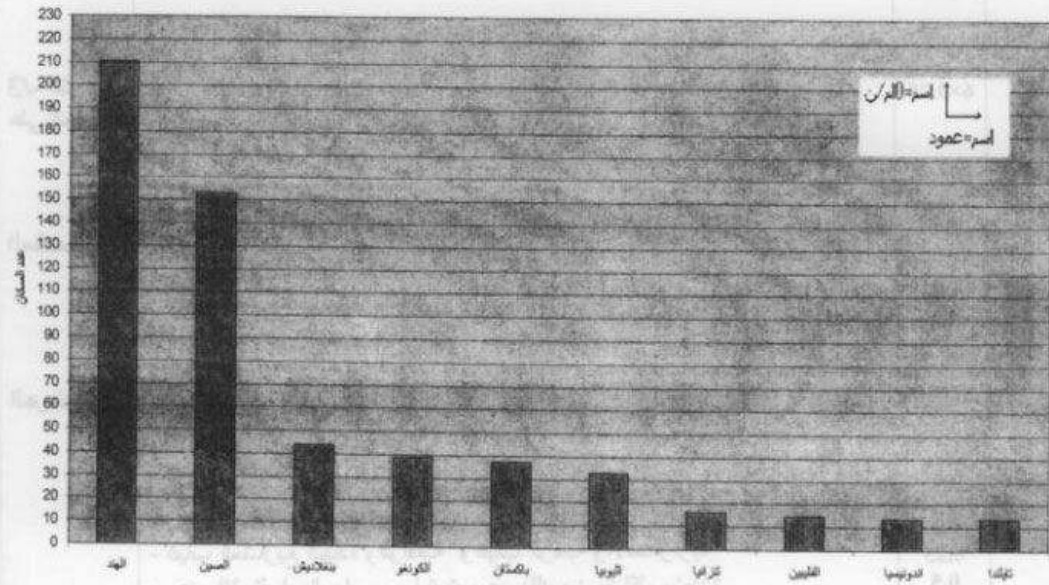
تابع الإجابة النموذجية المادة : التاريخ والجغرافيا الشعبية: لغات أجنبية

العلامة		عناصر الإجابة	محاور الموضوع	
المجموع	مجزأة			
06		<b>ثانيا: الجغرافيا</b>		
		<b>الجزء الأول: 06 نقاط</b>		
		0.75	- منظمة التجارة العالمية : تأسست عام 1995 على أنقاض اتفاقية " ألمات " سابقا تعمل على تحرير التجارة العالمية برفع الحواجز الجمركية و حل النزاعات التجارية بين الدول الأعضاء .	1- تحديد مفهوم المصطلحات
		0.75	- العالم الثالث : ظهر هذا المصطلح عام 1952 م من طرف الاقتصادي الفرنسي " ألفريد سوفي " للتمييز بينه وبين العالم الرأسمالي و العالم الاشتراكي و يضم الدول المستقلة حديثا من إفريقيا و آسيا و أمريكا اللاتينية.	
		0.5	- العولمة : و تعني الشمولية بفرض النمط الأمريكي: الاقتصادي والسياسي والثقافي في العالم.	
		01.5	ا- الرسم البياني:	2- الرسم البياني والتعليق
		0.5	- الاتجاز	
		0.5	- العنوان	
		0.5	- المقياس	
		0.5	ب- التعليق:	
0.5	- تنتمي إلى دول العالم المتخلف (إفريقيا و آسيا)			
0.5	- ارتفاع عدد السكان المهددين بالمجاعة في الهند والصين وباكستان مقارنة ببقية الدول.			
0.5	- تعود المجاعة إلى أسباب (تاريخية-طبيعية - اقتصادية - سياسية).			
04		<b>الجزء الثاني: 04 نقاط</b>		
		0.5	مكانة الو.م. أ الاقتصادية في العالم.	المقدمة
		6×0.25	1 - مظاهر القوة الاقتصادية للو.م. أ.:	العرض
			- ضخامة الإنتاج الزراعي.	
			- الو م أ ثاني بلد زراعي بعد الصين.	
			- المساهمة في الدخل العالمي.	
			- ضخامة الإنتاج العالمي و تنوعه (أول قوة صناعية في العالم)	
			- هيمنتها على التجارة العالمية	
			- قوة عملتها وهيمنتها على المؤسسات العالمية	
			2 - أثر قوتها على العلاقات الاقتصادية العالمية:	
0.5	- احتكار التجارة الدولية بفضل أسطولها البحري.	الخاتمة		
0.25	- الهيمنة على المؤسسات الاقتصادية و المالية.			
0.25	- الضغط على الدول المتخلفة باستخدام الغذاء (السلح الأخضر)			
0.50	- التأثير السلبي على اقتصاد العالم بسبب ارتباطه بعملتها و بورصتها			
0.5	وظفت الو م أ مختلف إمكانياتها ليمط و فرض هيمنتها على العالم			

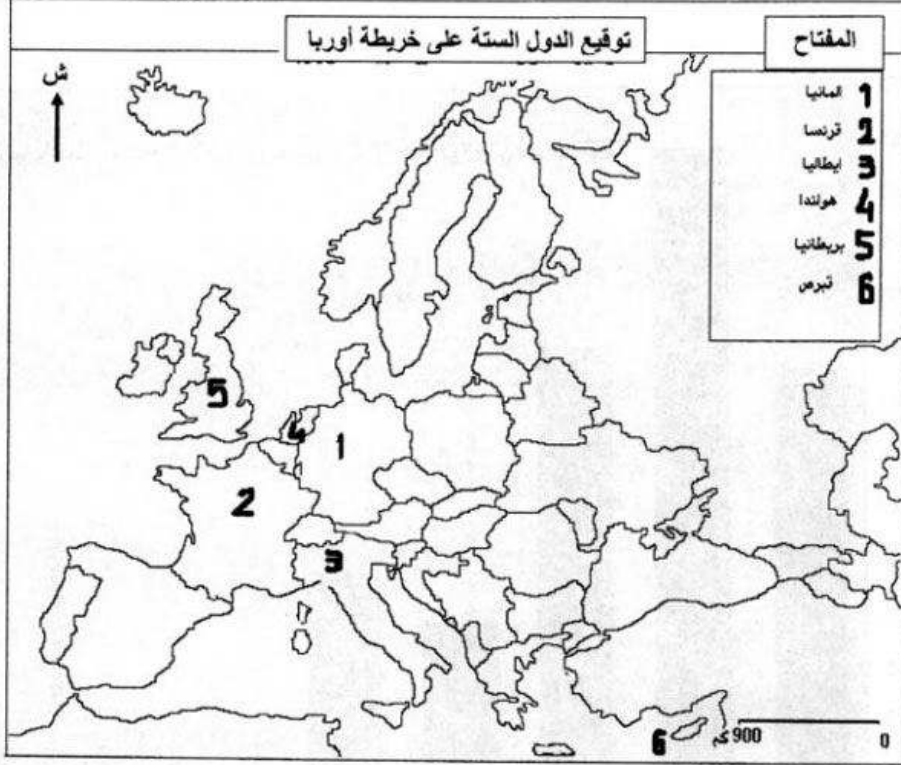


العلامة		عناصر الإجابة	محاور الموضوع
المجموع	مجزأة		
		<b>ثانيا: الجغرافيا</b>	
		<b>الجزء الأول: 06 نقاط</b>	
	0.75	التنمية : مختلف الاستراتيجيات و الوسائل التي تنتهجها دول ما في جميع الجوانب الاقتصادية الاجتماعية ، الثقافية بهدف تحقيق نمو شامل و متوازن .	1-/- تحديد مفهوم المصطلحات
	0.75	البنك العالمي : مؤسسة مالية دولية نشأت في 1946/06/25 مقرها واشنطن هدفها تقديم القروض للدول النامية لتمويل مختلف المشاريع الإنمائية.	
	0.5	الليبرالية : مذهب اقتصادي و اجتماعي يركز على مبدأ الحرية الفردية و يستبعد تدخل الدولة في الشؤون الاقتصادية.	
06	01.5 0.5 0.5	- الاتجاز - العنوان - المقياس	2-الرسم البياني
	6×0.25	توقيع 06 دول من الاتحاد الأوربي (ألمانيا- فرنسا- إيطاليا- هولندا- بريطانيا- قبرص)	3-/- التوقيع على الخريطة
		<b>الجزء الثاني: 04 نقاط</b>	
	0.5	عالم الجنوب بين واقعه وتباين استراتيجياته التنموية	المقدمة
		<b>1-خصائص دول عالم الجنوب المتخلف:</b>	
		- عجزه على تحقيق أمنه الغذائي	
		- عدم التحكم في التكنولوجيا	
		- فشل مشاريع التنمية التي تبناها	
		- عدم الاستقرار السياسي (حروب أهلية...مشكل الحدود...)	
		- ارتفاع حجم الديون الخارجية	
		- التبعية ومصادرة السيادة الفعلية	
		<b>2-أسباب فشل التنمية :</b>	
		- غياب المشاريع الجادة والواقعية وغياب الرقابة والاستمرارية	
		- عدم الاستقرار السياسي وما ترتب عن ذلك من مشاكل متعددة	
		- ارتفاع الديون والتي تقتطع 70% من مداخيل هذه الدول على حساب التنمية..	
		- الفساد المالي والإداري.	
04	6×0.25 0.5 0.25 0.5 0.25		العرض
	0.5	خروج دول عالم الجنوب من واقعه المتدني مرهون ببنني سياسة تنموية واقعية تخدم مصالح شعوبها	الخاتمة

العلامة	مجزأة	عناصر الإجابة	نقطة	معايير
				الموضوع
20	10	أهمية قناة السويس في تاريخ مصر والعالم.	20.0	30
20	10	أهمية قناة السويس في تاريخ مصر والعالم.	20.0	
20	10	أهمية قناة السويس في تاريخ مصر والعالم.	20.0	
20	10	أهمية قناة السويس في تاريخ مصر والعالم.	20.0	
20	10	أهمية قناة السويس في تاريخ مصر والعالم.	20.0	
20	10	أهمية قناة السويس في تاريخ مصر والعالم.	20.0	
20	10	أهمية قناة السويس في تاريخ مصر والعالم.	20.0	
20	10	أهمية قناة السويس في تاريخ مصر والعالم.	20.0	
20	10	أهمية قناة السويس في تاريخ مصر والعالم.	20.0	
20	10	أهمية قناة السويس في تاريخ مصر والعالم.	20.0	



العلامة	عناصر الإجابة	محاور الموضوع
المجموع		



العلامة	مجزأة	الجموع	محاور	الموضوع
---------	-------	--------	-------	---------

