



الجمهورية الجزائرية الديمقراطية الشعبية
وزارة التربية الوطنية



الديوان الوطني للامتحانات والمسابقات
امتحان بكالوريا التعليم الثانوي
الشعبة: آداب وفلسفة

دورة: 2020

المدة: 04 سا و 30 د

اختبار في مادة: التاريخ والجغرافيا

على المترشح أن يختار أحد الموضوعين الآتيين:

الموضوع الأول

يحتوي الموضوع الأول على (03) صفحات (من الصفحة 1 من 6 إلى الصفحة 3 من 6)

التاريخ

الجزء الأول: (06 نقاط)

1) "... عرض " ديغول " على المجاهدين الاستسلام تحت شعار ما يسمّى " سلم الشجعان " وفي عرض آخر كخداع للتّورة قصد إجهاضها وإدخال الشّكوك في أوساطها، تكلم عن تقرير المصير كمراوغة، لأنّ شروط تحقيقه - كما وضعها - كانت تعجيزية وهي عدم الاعتراف بجبهة التحرير الوطني كمفاوض وحيد ووقف العمل العسكري...".
المرجع: الملخص في تاريخ الجزائر، صالح فركوس، ص 275-276.

المطلوب: اشرح ما تحته خطّ في النّص.

2) عرّف بالشخصيات التّالية:

- جون كيندي - زيغود يوسف - نكيثا خروتشوف.

3) أكمل الجدول التّالي:

التاريخ	الحدث
	إعلان مبدأ ترومان
23 مارس 1954	
	انعقاد قمة مالطا

الجزء الثاني: (04 نقاط)

كان العالم التّالث ميدانا لصراع الحرب الباردة بين المعسكرين، إلّا أنّ ذلك لم يمنعه من المساهمة في التّخفيف من حدّة الصّراع بينهما.

المطلوب: انطلاقا من العبارة واعتمادا على ما درست، اكتب مقالا تاريخيا تبين فيه:

1) مظاهر الصّراع بين المعسكرين في العالم التّالث.

2) دور العالم التّالث في التّخفيف من حدّة الصّراع بين المعسكرين.



الجغرافيا

الجزء الأول: (06 نقاط)

(1) "...عرفت فترة الثمانينيات وبداية التسعينيات جهودا كبيرة في مجال التنمية سنّتها الدول الكبرى انطلاقا من فكرة تدعيم الأسواق التي تجعل مُجمل البلدان الفقيرة على عتبة النمو الاقتصادي... واعتبرت النظام العالمي الجديد -العولمة- كمحرك جديد للتقدم والرفاه الاقتصادي على المستوى العالمي، وكان الاعتقاد السائد أنه بإمكان البلدان الفقيرة أن تشرع في النمو الاقتصادي إذا ما اعتمدت أساليب التحكم في التسيير القائم على تحرير الأسواق واتباع الخصوصية..."

المرجع: الكتاب المدرسي، السنة الثالثة الثانوي مادة الجغرافيا، ص 154.

المطلوب: اشرح ما تحته خط في النص.

(2) إليك جدولا يمثل قيمة صادرات السلع ونسبة المساهمة العالمية لبعض القوى الاقتصادية في العالم عام 2017. الوحدة: مليار دولار.

البلد	الصين	الو.م.أ	ألمانيا	اليابان	فرنسا	إيطاليا
قيمة الصادرات	2263	1547	1448	698	535	506
النسبة العالمية	% 12.8	% 8.7	% 8.2	% 3.9	% 3	% 2.9

المصدر: احصائيات المنظمة العالمية للتجارة 2018.

المطلوب: علّق على المعطيات الإحصائية الواردة في الجدول.

(3) على خريطة العالم المرفقة وقّع ثلاث دول واردة في الجدول.

الجزء الثاني: (04 نقاط)

البتروول مورد استراتيجي للاقتصاد العالمي، لكن تذبذب أسعاره انعكس سلبا على اقتصاد البلدان المصدرة له في منظّمة الأوبك أو خارجها.

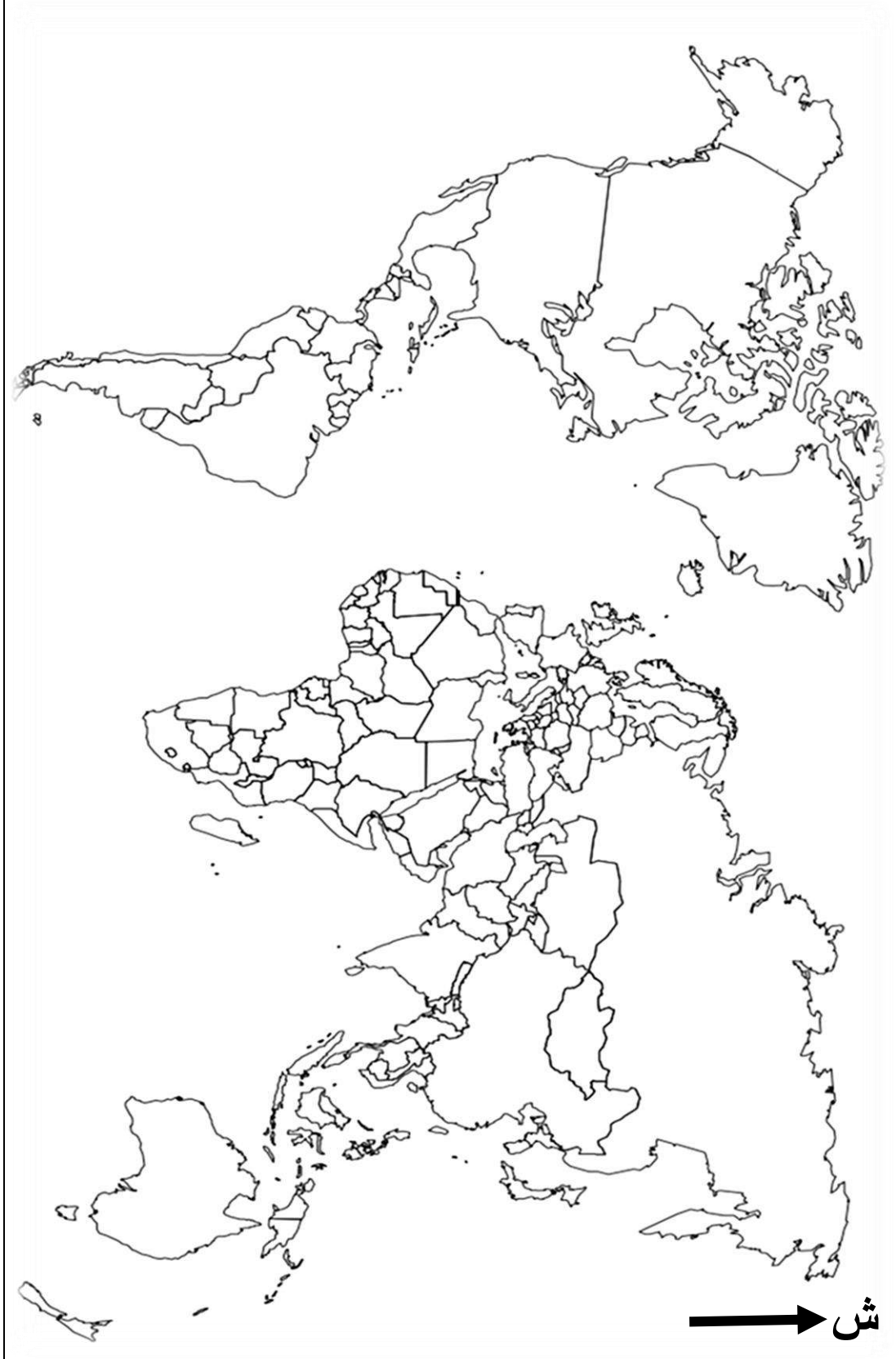
المطلوب: انطلاقا من العبارة واعتمادا على ما درست، اكتب مقالا جغرافيا تبين فيه:

(1) أهمية البتروول بالنسبة للدول المصدرة له.

(2) الآثار السلبية لتذبذب أسعاره على اقتصاد تلك الدول.



خريطة العالم



ينجز العمل المطلوب على الخريطة وتعاد مع أوراق الإجابة

انتهى الموضوع الأول



الموضوع الثاني

يحتوي الموضوع الثاني على (03) صفحات (من الصفحة 4 من 6 إلى الصفحة 6 من 6)

التاريخ

الجزء الأول: (06 نقاط)

(1) "...كان للتناقض الإيديولوجي بين القطبين أثره البالغ في تعميق هوة الخلاف بينهما، فقد أدى ذلك الخلاف الإيديولوجي إلى انقسام دول العالم المتقدم إلى كتلتين رئيسيتين، الكتلة الغربية الرأسمالية تتزعمها الولايات المتحدة الأمريكية...الكتلة الشرقية الشيوعية يتزعمها الاتحاد السوفياتي وتمثلت خطورة هذه التكتلات بالأخص في إنشاء الأحلاف العسكرية على غرار حلف شمال الأطلسي وحلف وارسو...".

المرجع: د. إيناس سعدي عبد الله، الحرب الباردة - دراسة تاريخية للعلاقات الأمريكية-السوفياتية

(1945 - 1963) بغداد، ط 1 2015 ص 13 - 14.

المطلوب: اشرح ما تحته خط في النص.

(2) عرّف بالشخصيات التالية:

- ليونيد بريجنيف - دوايت ايزنهاور - مصطفى بن بولعيد.

(3) على خريطة أوربا المرفقة، وقّع أسماء ثلاث دول عضوة في الحلف الأطلسي وثلاث دول عضوة في حلف وارسو.

الجزء الثاني: (04 نقاط)

كانت مجازر 08 ماي 1945 منعرجا حاسما في تاريخ الحركة الوطنية الجزائرية وشكّلت القاعدة الأساسية والصلبة لاندلاع الثورة التحريرية عام 1954.

المطلوب: انطلاقا من العبارة واعتمادا على ما درست، اكتب مقالا تاريخيا تبين فيه:

(1) أثر مجازر 08 ماي 1945 على الحركة الوطنية الجزائرية.

(2) المحطات الرئيسية لتحضير اندلاع الثورة التحريرية.



الجغرافيا

الجزء الأول: (06 نقاط)

1) "... كانت الشركات متعددة الجنسيات تحتكر المحروقات إنتاجا وتسويقا وأسعارا... وكان كارتل الأخوات السبع الذي تأسس في عام 1928 يعمل على نهب بترول الشرق الأوسط ... وتخفيض الأسعار في خدمة اقتصاديات الدول الرأسمالية الكبرى ... وكانت فنزويلا قد دعت إلى ضرورة إنشاء منظمة الأوبك لمحاربة الاحتكارات..."

المرجع: الكتاب المدرسي (جغرافية الوطن العربي والعالم) للسنة الثالثة ثانوي طبعة 2003 ص 313.

المطلوب: اشرح ما تحته خط في النص.

2) إليك جدولاً يمثل كمية الإنتاج لبعض المحاصيل الزراعية والرتبة العالمية للولايات المتحدة الأمريكية عام 2016. الوحدة: مليون طن.

المنتوج	القمح	الذرة	القطن	الصوجا	الحوامض
الإنتاج	62.8	384.7	3.6	117.2	10
الرتبة العالمية	5	1	3	1	3

المرجع: منظمة الأغذية والزراعة FAO 2017.

المطلوب: مثل كمية الإنتاج الزراعي بواسطة أعمدة بيانية بمقياس: 1 سم لكل 50 مليون طن.
1 سم لكل عمود (منتوج).

3) علق على المعطيات الإحصائية الواردة في الجدول.

الجزء الثاني: (04 نقاط)

يعتبر الاتحاد الأوروبي أحد أقطاب الثالوث العالمي الذي يؤثر في الاقتصاد الدولي، بفضل وفرة وتنوع إمكانياته، رغم التحديات والمشاكل التي تواجهه.

المطلوب: انطلاقاً من العبارة واعتماداً على ما درست، اكتب مقالا جغرافيا تبين فيه:

1) عوامل القوة الاقتصادية للاتحاد الأوروبي.

2) الضعيفات التي تواجه الاتحاد الأوروبي.



ينجز العمل المطلوب على الخريطة وتعاد مع أوراق الإجابة

انتهى الموضوع الثاني

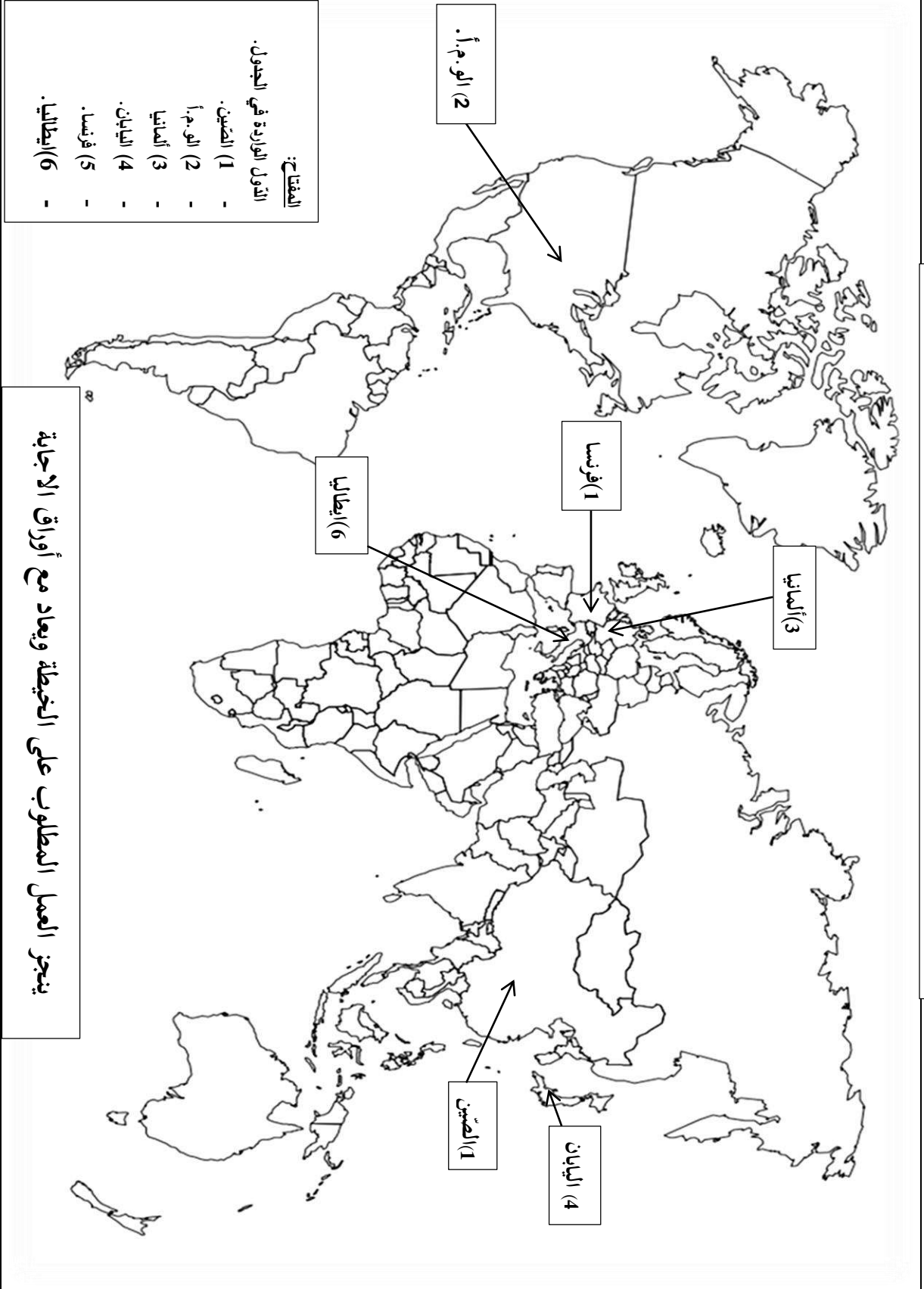
العلامة		عناصر الإجابة (الموضوع الأول)								
مجموعة	مجزأة									
		<p>التاريخ</p> <p>الجزء الأول:</p> <p>(1) شرح ما تحته خط في النص:</p> <p>❖ سلم الشجعان: مناورة سياسية أطلقها ديغول 1958/10/23 تقضي باستسلام الثوار وتسليم أسلحتهم مقابل ضمان سلامتهم والتفاوض معهم ويهدف إلى اختراق الثورة وتشتيت صفوفها...</p> <p>❖ تقرير المصير: مشروع سياسي تقدم به شارل ديغول في 16/09/1959 يعترف فيه بحق الشعب الجزائري في تقرير مصيره وفق شروط فرنسية رفضتها الثورة ...</p> <p>❖ جبهة التحرير الوطني: تنظيم سياسي ثوري جزائري تأسس خلال اجتماع 1954/10/23 قاد الثورة التحريرية إلى غاية الاستقلال (1954 - 1962) وهو الممثل الوحيد والشرعي للشعب الجزائري.</p> <p>(2) التعريف بالشخصيات:</p> <p>❖ جون كنيدي: رئيس الو.م.أ (1961 - 1963) شهدت فترة حكمه أزمة كوبا 1962، وسباق غزو الفضاء، دافع عن حقوق السود في الو.م.أ، اغتيل في دلاس عام 1963...</p> <p>❖ زيغود يوسف: (1921 - 1956) شهيد جزائري كان مناضلا في حزب الشعب الجزائري ثم المنظمة الخاصة ، عضو في مجموعة 22 ، من مفجري الثورة ، قائد المنطقة الثانية بعد استشهاد ديدوش مراد، قاد هجومات الشمال القسنطيني 1955/08/20 و حضر مؤتمر الصومام في اوت 1956 ، استشهد في 23 سبتمبر 1956.</p> <p>❖ نيكيتا خروتشوف: رئيس الاتحاد السوفياتي (1953 - 1964) بعد وفاة ستالين ضمن القيادة الثلاثية، صاحب مبادرة التعايش السلمي، عرفت فترة حكمه عدة أزمات منها: قناة السويس، برلين الثانية، كوبا....</p> <p>(3) إكمال جدول الاحداث والتواريخ التالية:</p> <table border="1"> <thead> <tr> <th>التاريخ</th> <th>الحدث</th> </tr> </thead> <tbody> <tr> <td>1947/03/12</td> <td>إعلان مبدأ ترومان</td> </tr> <tr> <td>1954/03/23</td> <td>تأسيس اللجنة الثورية للوحدة والعمل</td> </tr> <tr> <td>1989/12/04/03</td> <td>انعقاد قمة مالطا</td> </tr> </tbody> </table>	التاريخ	الحدث	1947/03/12	إعلان مبدأ ترومان	1954/03/23	تأسيس اللجنة الثورية للوحدة والعمل	1989/12/04/03	انعقاد قمة مالطا
التاريخ	الحدث									
1947/03/12	إعلان مبدأ ترومان									
1954/03/23	تأسيس اللجنة الثورية للوحدة والعمل									
1989/12/04/03	انعقاد قمة مالطا									
0.75	0.75									
0.50	0.50									
0.75	0.75									
06	0.50									
	01,00									
	0.50									

(تقبل كل الإجابات الصحيحة الأخرى)

العلامة		عناصر الإجابة (الموضوع الأول)	
مجموعة	مجزأة		
04	0.50	<p>الجزء الثاني: مقدمة: العالم الثالث بين كونه ميدانا لصراع المعسكرين ودوره في التخفيف من خطورته. (تقبل كل مقدمة وظيفية تخدم الموضوع)</p> <p>(1) مظاهر الصراع بين المعسكرين في العالم الثالث: ❖ إنشاء الأحلاف العسكرية في العالم الثالث منها: حلف جنوب شرق آسيا 1954 وحلف بغداد 1955. ❖ إقامة القواعد العسكرية في بعض دول العالم الثالث (كوريا ، كوبا ، تركيا...) ❖ الإعلان عن مشروع إيزنهاور 1957 وتطبيق سياسة ملء الفراغ. ❖ الازمات التي عرفتها دول العالم الثالث (كوبا، الهند الصينية، والسويس...). ❖ التدخلات العسكرية (الوم.أ في الفيتنام 1965 والاتحاد السوفياتي في أفغانستان 1979...).</p>	
	×0.25 6	<p>❖ تدبير الانقلابات والاعتقالات (إيران، الكونغو، الشيلي...).</p> <p>(2) دور العالم الثالث في التخفيف من حدة الصراع بين المعسكرين: ❖ تبني سياسة الحياد الإيجابي (باندونغ 1955). ❖ تأسيس حركة عدم الانحياز (بلغراد) 1961. ❖ دعم سياسة التعايش السلمي والانفراج الدولي. ❖ دعم جهود الأمم المتحدة من أجل تحقيق السلم والامن الدوليين. ❖ رفض سياسة القواعد والأحلاف العسكرية والمشاريع الاقتصادية (مشروع إيزنهاور). ❖ رفض سياسة السباق نحو التسلح النووي.</p>	
	0.50	<p>خاتمة: ساهمت دول العالم الثالث في التخفيف من حدة الصراع وتدعيم أسس التعايش السلمي. (تقبل كل خاتمة وظيفية تخدم الموضوع)</p>	
			<p>الجغرافيا الجزء الأول: (1) شرح ما تحته خط في النص:</p>
	0.75		<p>❖ التنمية: مختلف التدابير والإجراءات التي تقوم بها الدول في جميع المجالات، وذلك بحسن استغلال الموارد الاقتصادية والبشرية المتاحة لتحقيق التطور الاقتصادي والاجتماعي.</p>
	0.75		<p>❖ العولمة: تعني الشمولية أي انتشار نفس النمط الاقتصادي والسياسي والثقافي على المستوى العالمي (مثلا: النمط الأمريكي) أوهي توجه عالمي نحو إزالة كل الحواجز أمام تنقل السلع والخدمات والثقافات وسهولة الاتصال.</p>
0.50		<p>❖ الخصوصية: الانتقال الجزئي أو الكلي للمنشآت العامة من القطاع العام إلى القطاع الخاص إما عن طريق التنازل أو البيع أو الشراء ... (تقبل كل الإجابات الصحيحة الأخرى)</p>	

العلامة		عناصر الإجابة (الموضوع الأول)
مجموعة	مجزأة	
06	0.50 4	<p>(2) <u>التعليق على المعطيات الواردة في الجدول الذي يمثل قيمة صادرات السلع نسبة المساهمة العالمية لبعض القوى الاقتصادية في العالم عام 2017:</u></p> <ul style="list-style-type: none"> ❖ معظم الدول المصدرة الواردة في الجدول تنتمي إلى العالم المتقدم. ❖ تباين نسب مساهمة الدول في الصادرات العالمية. ❖ تساهم دول الاتحاد الأوربي الثلاث (14.1%) من حجم الصادرات العالمية. ❖ بروز الصين كقوة تجارية واحتلالها المرتبة الأولى من نسبة الصادرات العالمية.
02	0.50	<p>(3) <u>التوقيع على خريطة العالم المرفقة ثلاث دول واردة في الجدول:</u></p> <p>- الإنجاز: 01.50 ن - المفتاح: 0.25 ن - العنوان: 0.25 ن</p> <p><u>الجزء الثاني:</u></p> <p><u>مقدمة:</u> رغم أهمية البترول إلا أنّ تذبذب اسعاره انعكس سلبا على الدول التي تعتمد عليه في الدّخل القومي.</p> <p>(تقبل كل مقدمة وظيفية تخدم الموضوع)</p>
04	0.25 6 0.50	<p>(1) <u>أهمية البترول بالنسبة للدول المصدرة له:</u></p> <ul style="list-style-type: none"> ❖ مصدر رئيسي للطاقة ومحرك أساسي لاقتصاد الدول المصدرة له. ❖ مصدر مهم للدخل وتمويل مختلف المشاريع التّتموية من خلال استقطاب الاستثمارات. ❖ مادة أولية للكثير من الصناعات (تكرير البترول....) ❖ تستخرج منه عدة مشتقات بترولية. ❖ يوفر فرص العمل وامتصاص البطالة. ❖ استغلت كوسيلة ضغط من طرف الدول المصدرة ويمكن ان تكون كذلك حاليا ومستقبلا. <p>(2) <u>الآثار السلبية لتذبذب أسعاره على اقتصاد تلك الدول:</u></p> <ul style="list-style-type: none"> ❖ تراجع وانخفاض إيراداتها المالية. ❖ الوقوع في أزمات اقتصادية واجتماعية وسياسية. ❖ اللجوء إلى سياسة التقشف والاستدانة الخارجية (تفاقم مشكل المديونية). ❖ التّبعية إلى الخارج في عدة مجالات. ❖ بطء النمو الاقتصادي و توقف الاستثمار و تجميد المشاريع الكبرى. ❖ تراجع فرص العمل وتفاقم مشكلة البطالة. <p><u>خاتمة:</u> ضرورة تنويع الصادرات ومصادر الدّخل لتجنب خطر تذبذب أسعار البترول.</p> <p>(تقبل كل خاتمة وظيفية تخدم الموضوع)</p> <p>(تقبل كل الإجابات الصحيحة الأخرى)</p>

خريطة العالم تمثل 03 دول واردة في الجدول




ينجز العمل المطلوب على الخريطة ويعاد مع أوراق الاجابة

العلامة		عناصر الإجابة (الموضوع الثاني)
مجموعة	مجزأة	
06	0.75	<p>التاريخ الجزء الأول:</p> <p>(1) شرح ما تحته خط في النص:</p> <p>❖ القطين: الدولتان الكبيرتان المؤثرتان على العلاقات الدولية هما الولايات المتحدة الأمريكية التي تتزعم المعسكر الغربي الرأسمالي والاتحاد السوفياتي الذي يتزعم المعسكر الشرقي الشيوعي...</p> <p>❖ الخلاف الأيديولوجي: هو التباين والتناقض الفكري والمذهبي بين النظامين الرأسمالي القائم على الملكية الخاصة والحرية الاقتصادية والنظام الشيوعي القائم على الملكية الجماعية وتحكم الدولة في الاقتصاد (الاقتصاد الموجه) وهو السبب الرئيسي لصراع الحرب الباردة بين المعسكرين...</p> <p>❖ حلف شمال الأطلسي: تكتل عسكري يضم الدول الغربية الرأسمالية بزعامة الولايات المتحدة الأمريكية، تأسس في 1949/04/04 هدفه مواجهة الشيوعية والدفاع عن مصالح العالم الرأسمالي والدول الأعضاء، مقره بروكسل بلجيكا.</p>
		<p>(2) التعريف بالشخصيات التالية:</p> <p>❖ ليونيد بريجنيف: رئيس الاتحاد السوفياتي (1964 - 1982) له مبدأ باسمه، أبرم معاهدتي سالت 1 عام 1972 وسالت 2 عام 1979 تدخل عسكريا في عدة مناطق منها تشيكوسلوفاكيا وأفغانستان....</p> <p>❖ دوايت ايزنهاور: رئيس الولايات المتحدة الأمريكية (1953 - 1961) كان قائدا لأركان قوات الحلفاء خلال الحرب العالمية 2، صاحب مشروع عرف باسمه عام 1957 طبق سياسة ملء الفراغ، عرفت فترة حكمه عدة أزمات أبرزها السويس (...)</p> <p>❖ مصطفى بن بولعيد: (1917-1956) شهيد جزائري ، ناضل في حزب الشعب الجزائري ثم المنظمة الخاصة ثم اللجنة الثورية للوحدة والعمل عضو في مجموعة 22 ومجموعة الستة من مفجري الثورة قائد المنطقة الأولى الأوراس، استشهد في 22 مارس 1956.</p>
		<p>(3) توقيع 03 دول عضوة في الحلف الأطلسي و03 عضوة في حلف وارسو على خريطة أوروبا.</p> <p>- الإنجاز 01.50 - المفتاح 0.25 - العنوان 0.25</p>
		02
		01,00
		0.50
		0.50
		0.50
		0.50
		0.50
0.50		

(تقبل كل الاجابات الصحيحة الأخرى)

العلامة		عناصر الإجابة (الموضوع الثاني)
مجموعة	مجزأة	
04	0.50	<p>الجزء الثاني:</p> <p>مقدمة: التعريف بأحداث 08 ماي 1945 ودورها في التعجيل باندلاع الثورة.</p> <p>(تقبل كل مقدمة وظيفية تخدم الموضوع)</p> <p>1) أثر مجازر 08 ماي 1945 على الحركة الوطنية الجزائرية:</p> <ul style="list-style-type: none"> ❖ اصدار الاستعمار لمرسوم العفو العام في 16/03/1946 وبالتالي إطلاق سراح المعتقلين السياسيين الجزائريين. ❖ اعادة بناء الحركة الوطنية الجزائرية (حركة انتصار الحريات الديمقراطية، الاتحاد الديمقراطي للبيان الجزائري، جمعية العلماء المسلمين...). ❖ التأكد من حقيقة التوايا الاستعمارية المتمثلة في التمسك بالبقاء في الجزائر. ❖ تنامي التيار الاستقلالي الداعي إلى الكفاح المسلح (تأسيس المنظمة الخاصة 1947). ❖ التأكد من عمق النضال السياسي وحتمية العمل المسلح. ❖ لجوء الاستعمار الفرنسي إلى التهدئة لضرب الحركة الوطنية ومحاولة احتوائها بإصدار قانون 1947/09/20. <p>2) المحطات الرئيسية لاندلاع الثورة التحريرية:</p> <ul style="list-style-type: none"> ❖ تأسيس المنظمة الخاصة في 15/02/1947 ودورها في التحضير للثورة. ❖ تأسيس اللجنة الثورية للوحدة والعمل في 23/03/1954 لتوحيد صفوف حركة انتصار الحريات الديمقراطية والتّحضير لتفجير الثورة. ❖ عقد اجتماع مجموعة 22 في 25/06/1954. ❖ اجتماع لجنة 06 في 23/10/1954 وتشكيل جبهة التحرير وجيش التحرير الوطني. ❖ إصدار بيان 01 نوفمبر 1954 (اول وثيقة للثورة التحريرية) ❖ تقسيم الجزائر إلى 05 مناطق عسكرية ثورية، وإعلان الثورة في 01 نوفمبر 1954.
	6x0.25	<p>❖ خاتمة: مجازر 08 ماي 1945 منعرج حاسم في تغيير مسار النضال نحو الثورة المسلحة.</p> <p>(تقبل كل خاتمة وظيفية تخدم الموضوع)</p>
	6x0.25	<p>جغرافيا:</p> <p>1) شرح ما تحته خط في النص:</p> <ul style="list-style-type: none"> ❖ المحروقات: يقصد بها البترول والغاز الطبيعي، وهي مواد أولية طاقوية استراتيجية تعتبر محركا أساسيا للاقتصاد العالمي. ❖ الدول الرّسمالية: يقصد بها القوى الاقتصادية الكبرى التي تتبنى النظام الرأسمالي الليبرالي الحر والتي تتحكم في الاقتصاد العالمي من خلال نفوذ شركاتها الاحتكارية وتحكمها في المؤسسات الاقتصادية والمالية العالمية.
	0.50	<p>(تقبل كل الاجابات الصحيحة الأخرى)</p>

العلامة		عناصر الإجابة (الموضوع الثاني)
مجموعة	مجزأة	
06	0.50	❖ <u>منظمة الأوبك</u> : منظمة الدول المصدرة للبترول تأسست في 10/09/1960 في مؤتمر بغداد (العراق) من طرف خمس دول هي: (العراق، فنزويلا، م.ع.السعودية، إيران والكويت) وتوسعت عضويتها لدول أخرى كالجنازير ونيجيريا...هدفها مجابهة كارتل الشقيقات السبع، الدفاع عن مصالح الدول الأعضاء ومقرها فيينا بالنمسا.
	02	(2) <u>أعمدة بيانية تمثل كمية انتاج بعض المحاصيل الزراعية في الو.م.أ عام 2016:</u> - الإنجاز: 1.25 - المفتاح: 0.25 - المقياس: 0.25 - العنوان: 0.25
	0.50x4	(3) <u>التعليق على المعطيات الاحصائية التي تمثل كمية انتاج بعض المحاصيل الزراعية والزربية العالمية في الولايات المتحدة الأمريكية عام 2016:</u> ❖ تباين كمية الانتاج الزراعي في الو م أ. ❖ ضخامة الإنتاج الزراعي واحتلالها للمراتب الأولى عالميا. ❖ تنوع المحاصيل الزراعية للو. م. أ بين غذائية وتجارية. ❖ هيمنة الو. م. أ على الإنتاج العالمي للمحاصيل الغذائية الاستراتيجية كالذرة والقمح.
	0.50	<u>الحزب الثاني:</u> <u>مقدمة:</u> الاتحاد الأوربي بين قوة وثراء امكانياته والمعيقات التي تواجهه. (تقبل كل مقدمة وظيفية تخدم الموضوع)
04	6x0.25	(1) <u>عوامل القوة الاقتصادية للاتحاد الأوربي:</u> ❖ وفرة رؤوس الأموال وقوتها الاستثمارية. ❖ العامل التاريخي (الثورة الصناعية ، الاستعمار ، مشروع مارشال...) ❖ التحكم في التكنولوجيا والبحث العلمي. ❖ سوق تجارية مثالية للتكامل والاندماج. ❖ توفر اليد العاملة المؤهلة واستقطاب الأدمغة المهاجرة. ❖ توفر شبكة مواصلات (برية، بحرية، نهريه، جوية).
	6x0.25	(2) <u>المعيقات التي تواجه الاتحاد الأوربي:</u> ❖ التباين الاقليمي والتفاوت في النمو الاقتصادي بين بلدان الاتحاد الأوربي. ❖ الافتقار إلى المواد الأولية (الطاقة والمعادن). ❖ اشتداد المنافسة الداخلية (عدم احترام مبدأ الأفضلية) والخارجية مع بلدان آسيا والو.م.أ. ❖ تراجع كبير في النمو الديمغرافي(الشيخوخة). ❖ التعرض للازمات المالية والاقتصادية... ❖ الهجرة نحو دول الاتحاد الاوربي من طرف شعوب أوربا الشرقية والعالم الثالث...
	0.50	<u>خاتمة:</u> يبقى الاتحاد الأوربي يشكل قوة اقتصادية عالمية رغم بعض المعيقات والتحديات. (تقبل كل خاتمة وظيفية تخدم الموضوع) (تقبل كل الاجابات الصحيحة الأخرى)
العلامة		

مجموعة	مجزأة	عناصر الإجابة (الموضوع الثاني)								
		<p>توقيع 03 دول من الحلف الأطلسي و 03 دول من حلف وارسو على خريطة أوروبا</p>  <p>المفتاح :</p> <table border="1"><thead><tr><th>دول الحلف الأطلسي :</th><th>دول حلف وارسو:</th></tr></thead><tbody><tr><td>1- بريطانيا</td><td>ا- ألمانيا الشرقية</td></tr><tr><td>2- فرنسا</td><td>ب- بولونيا</td></tr><tr><td>3- اسبانيا</td><td>ج - رومانيا</td></tr></tbody></table> <p>ملاحظة: (تقبل كل الاجابات الصحيحة الأخرى)</p>	دول الحلف الأطلسي :	دول حلف وارسو:	1- بريطانيا	ا- ألمانيا الشرقية	2- فرنسا	ب- بولونيا	3- اسبانيا	ج - رومانيا
دول الحلف الأطلسي :	دول حلف وارسو:									
1- بريطانيا	ا- ألمانيا الشرقية									
2- فرنسا	ب- بولونيا									
3- اسبانيا	ج - رومانيا									

