

على المترشح أن يختار أحد الموضوعين التاليين:

الموضوع الأول

التاريخ:

الجزء الأول: ( 06 نقاط)

"ما إن وضعت الحرب العالمية الثانية أوزارها حتى بدأت الحرب الباردة بين القوى الكبرى ؛ حيث برزت الولايات المتحدة الأمريكية كقوة اقتصادية ونووية هائلة، واتبعت سياسة الاحتواء ... وعلى الجانب الآخر سعى الاتحاد السوفياتي إلى تدعيم نفوذه في أوروبا الشرقية بعدد من المعاهدات الثنائية والجماعية، فضلا عن تطوير قدراته النووية. ووسط هذا الجو الملبد بالتوترات وعمليات الاستقطاب للدول حديثة الاستقلال ظهرت حركة عدم الانحياز كإحدى أهم الظواهر السياسية في عالم ما بعد الحرب ..."

حركة عدم الانحياز- موسوعة المعرفة - الصفحة الالكترونية رقم 1

1- اشرح المصطلحات التي تحتها خط في النص.

2- عرّف بالشخصيات الآتية:

جون كينيدي - زيغود يوسف - نيكيتا خروتشوف - فرحات عباس.

3- أكمل جدول الأحداث الآتية :

التاريخ	الحدث
25 جانفي 1949	.....
.....	تحطيم جدار برلين
23 مارس 1954	.....
.....	تأميم قناة السويس

4- على خريطة العالم المرفقة، وقّع الدول التي تقع فيها مقرات كل من:

هيئة الأمم المتحدة - جامعة الدول العربية - حلف الأطلسي(حلف الناتو).

## الجزء الثاني: ( 04 نقاط )

إن إصدار فرنسا سنة 1947 للقانون الخاص ( دستور الجزائر ) كان محاولة استعمارية للتهديئة و دعم السياسة الاستيطانية في الجزائر .

**المطلوب:** انطلاقاً من الفقرة واعتماداً على ما درست، اكتب مقالاً تاريخياً تبين فيه:

- 1- ظروف صدور القانون الخاص.
- 2- أهم ما تضمنه و موقف الجزائريين منه.

## الجغرافيا:

### الجزء الأول: ( 06 نقاط )

"مع تسارع وتيرة العولمة ، اتسعت الهوة بين الأغنياء والفقراء ... إن موجودات ثلاثة من أغنى أصحاب البلايين في العالم تتجاوز من حيث القيمة مجموع الناتج الوطني الإجمالي لمجموع أقل البلدان نمواً بعدد سكانها البالغين 600 مليون نسمة ... وضمن منظومة الأمم المتحدة بُذلت مجهودات كبيرة لدعم تنفيذ نتائج مؤتمر القمة العالمي للتنمية الاجتماعية. كما أن البنك العالمي وصندوق النقد الدولي اللذين عادة ما وجهت إليهما الانتقادات لتركيزهما على قضايا الاقتصاد الكلي على حساب التنمية البشرية ، صارا الآن يتخذان خطوات رئيسية للتركيز على القضايا الاجتماعية..."

تقرير مؤتمر القمة العالمي للتنمية الاجتماعية سنة 2000 .

- 1- اشرح المصطلحات التي تحتها خط في النص.
- 2- إليك جدولاً يمثل الناتج الداخلي الخام في بعض الدول لسنة 2011:

الدول	و. م. أ	اليابان	الصين	ألمانيا	فرنسا
الناتج الداخلي الخام (مليار دولار)	14991	7204	5870	3604	2776
نسبة المساهمة العالمية	%21.35	%10.26	%08.36	%05.13	%03.95

المصدر: kushnirs.org

أ- مثل النسب المئوية بواسطة أعمدة بيانية بمقياس: 1 سم ← 2 %

1 سم ← عمود

ب- علق على الرسم.

- 3- على خريطة العالم المرفقة ، وقّع الدول الواردة في الجدول .

## الجزء الثاني: ( 04 نقاط )

تشكل منطقة شرق و جنوب شرق آسيا فضاء اقتصادياً كبيراً متعدد الأقطاب ينتج أكثر من ربع الثروة العالمية.

**المطلوب:** انطلاقاً من الفقرة واعتماداً على ما درست، اكتب مقالاً جغرافياً تبين فيه:

- 1- عوامل تحوّل منطقة شرق و جنوب شرق آسيا إلى فضاء اقتصادي عالمي كبير.
- 2- المشاكل التي تعترض التنمية في هذه المنطقة.

## الموضوع الثاني

التاريخ:

الجزء الأول: (06 نقاط )

"...أما فيما يتعلق بتقرير المصير حسب رأي ديغول ... يعني الرجوع إلى فكرة الطاولة المستديرة وعدم الاعتراف بمبدأ جبهة التحرير الوطني كمثل وحيد للمقاومة الجزائرية. إن بين المفهوم الديغولي لتقرير المصير و مفهوم الحكومة المؤقتة للجمهورية الجزائرية لبونا شاسعا، بالنسبة لهذه الأخيرة فإنه لا بد من توفير شروط سياسية و عسكرية قبل الوصول إلى تقرير المصير، يجب أن يتم وقف إطلاق النار. ولا يمكن تحقيق وقف إطلاق النار إلا بالاتفاق المسبق حول هذه الشروط. "

بن يوسف بن خدة - كتاب اتفاقيات إيفيان - ص 18 .

1- اشرح ما تحته خط في النص.

2- عرّف بالشخصيات الآتية:

بن يوسف بن خدة - مصطفى بن بولعيد - مانديس فرانس - جمال عبد الناصر.

3- أكمل جدول الأحداث الآتية :

التاريخ	الحدث
24 أكتوبر 1945	.....
.....	تأسيس حلف شمال الأطلسي (ناتو)
17 أكتوبر 1961	.....
.....	مؤتمر الصومام

4- على خريطة الجزائر المرفقة، وقّع أسماء ثلاث مناطق عسكرية من اختيارك، حددتها الثورة سنة 1954.

الجزء الثاني: ( 04 نقاط )

لقد كشف مشروع مارشال سنة 1947 عن درجة التوتر الكبيرة في العلاقات بين الشرق والغرب.

**المطلوب:** انطلاقا من الفقرة واعتمادا على ما درست، اكتب مقالا تاريخياً تبين فيه:

1- أسباب التوتر في العلاقات بين الشرق والغرب.

2- أهداف مشروع مارشال المعلنة والخفية.

"إنّ تنقل الأموال غير المشروعة و المشروعة يتم في أسواق مالية محددة مستفيدة من تطور **التكنولوجيا** والإعلام... هناك أموال ضخمة جدا 1000 إلى 2000 مليار دولار يتم تبادلها يوميا أي ما يعادل 100 مرة حاجيات السوق التجارية والخدمات... وتشكل **الاستثمارات** المباشرة في الخارج رأسمال ناتج عن المضاربة. و ترتبط أساسا ببعض المراكز المالية على المستوى العالمي ... تستقبل **البورصات** الكبيرة أموال المستثمرين المؤسسين كالبنوك و الشركات المتعددة الجنسيات..."

كتاب الجغرافيا-السنة الثالثة ثانوي-ص 33.

1- اشرح المصطلحات التي تحتها خط في النص.

2- إليك جدولا يمثل تطور أسعار البترول من 2002 إلى 2012:

السنة	2002	2003	2005	2006	2007	2008	2009	2010	2012
السعر بالدولار	24.95	28.89	54.41	65.14	72.45	96.99	61.48	79.44	111.66

المصدر: «opec : statistiques mondiales»

أ- مثل معطيات الجدول بمنحنى بياني بمقياس: 1 سم ← 10 دولار

1 سم ← سنة

ب- علق على الرسم.

3- على خريطة أوروبا المرفقة، وقّع الدول الأوربية العضوة في مجموعة الثمانية.

**الجزء الثاني: ( 04 نقاط )**

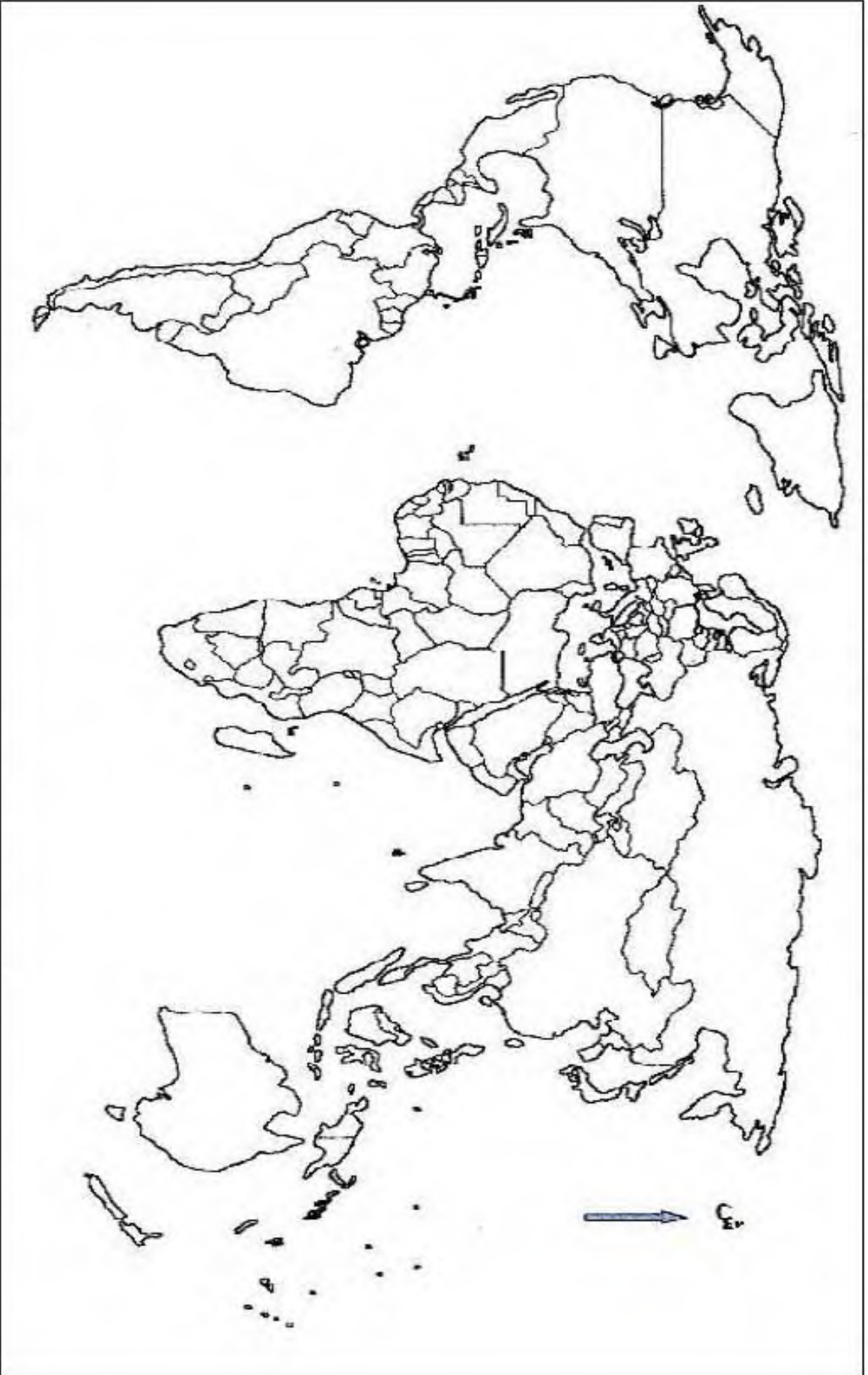
تواجه الدول النامية مشاكل عديدة و مختلفة ترهن نجاح محاولاتها التنموية في ظل نظام اقتصادي عالمي تهيمن عليه الدول المتقدمة الكبرى .

**المطلوب:** انطلاقا من الفقرة واعتمادا على ما درست، اكتب مقالا جغرافيا تبين فيه:

1- إمكانات التنمية في عالم الجنوب.

2- المشاكل التي تواجه التنمية فيه.

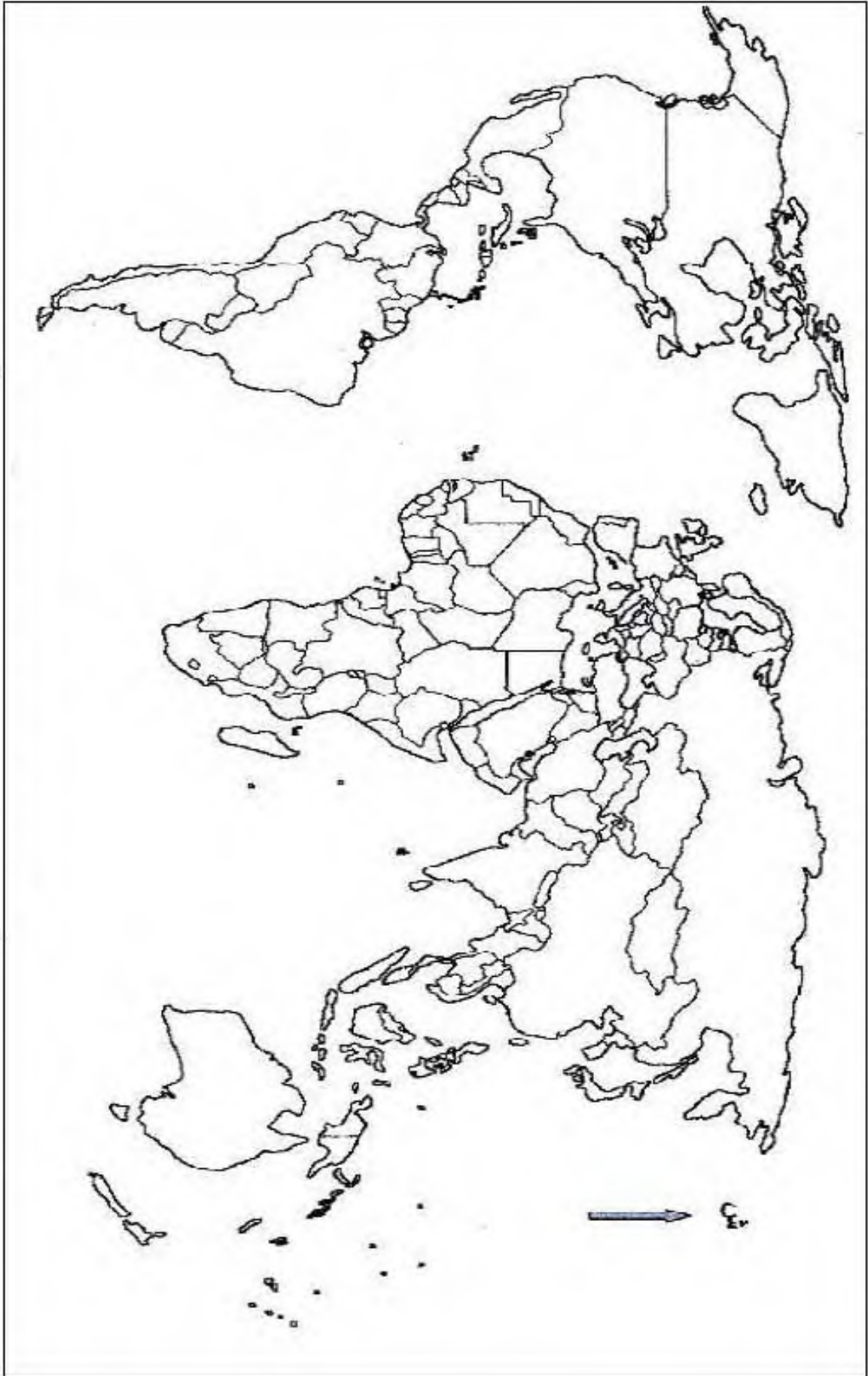
خريطة العالم



ينجز العمل على الخريطة وتعاد مع أوراق الإجابة

صفحة 5 من 8

خريطة العالم



ينجز العمل على الخريطة وتعال مع أوراق الإجابة

صفحة 6 من 8

## خريطة الجزائر



ينجز العمل على الخريطة وتعاد مع أوراق الإجابة

## خريطة أوروبا



ينجز العمل على الخريطة وتعاد مع أوراق الإجابة

العلامة		عناصر الإجابة
كاملة	مجزأة	
06		<b>الموضوع الأول</b>
		<b>التاريخ:</b> <b>الجزء الأول</b>
		<b>1 - تحديد مفهوم المصطلحات التي تحتها خط في النص:</b>
	0.5	الحرب الباردة : صراع إيديولوجي و مذهبي بين المعسكرين الشرقي الشيوعي بزعامة الإتحاد السوفياتي و الغربي الرأسمالي بقيادة و . م . أ استخدمت فيه مختلف الوسائل ماعدا السلاح بين العملاقين .
	0.5	سياسة الاحتواء: سياسة أمريكية تقوم على إنشاء سلسلة من الأحلاف والقواعد العسكرية بهدف تطويق الإتحاد السوفياتي ومنع انتشار نفوذه وإيديولوجيته إلى الدول المجاورة و سائر مناطق العالم.
	0.5	الإستقطاب: سياسة تجاذب استعملها المعسكران المتصارعان لكسب مناطق النفوذ أثناء الحرب الباردة .
	0.5	حركة عدم الانحياز : تنظيم سياسي أسسته الدول المستقلة حديثا سنة 1961 يهدف إلى عدم الميل إلى أي معسكر من المعسكرين المتصارعين في إطار الحرب الباردة.
		<b>2 - التعريف بالشخصيات :</b>
	0.5	جون كينيدي : رئيس و . م . أ بين 1961 و 1963 عرفت فترة حكمه إحدى أخطر أزمات الحرب الباردة ( أزمة كوبا ) اغتيل سنة 1963.
	0.5	زيغود يوسف: أحد زعماء الثورة الجزائرية، قاد الولاية الثانية، خطط لهجوم الشمال القسنطيني شارك في مؤتمر الصومام استشهد في 23/09/1956.
	0.5	نيكيتا خروتشوف : زعيم سوفياتي أحد أعضاء القيادة الجماعية التي خلفت ستالين عرف بمبادرة التعايش السلمي .
	0.5	فرحات عباس : سياسي جزائري زعيم الاتجاه الإدماجي، مؤسس الإتحاد الديمقراطي للبيان الجزائري سنة 1946 و أول رئيس للحكومة المؤقتة للجمهورية الجزائرية سنة 1958.
		<b>3 - إتمام الجدول :</b>
	0.25	تأسيس منظمة الكوميكون : 25 جانفي 1949
×	تحطيم جدار برلين : 09 نوفمبر 1989	
4	اللجنة الثورية للوحدة والعمل : 23 مارس 1954	
	تأميم قناة السويس : 26 جويلية 1956	
	<b>4 . التوقيع على خريطة العالم الدول التي تقع فيها مقرات المنظمات و الأحلاف:</b>	
0.75	- الإنجاز :	
0.25	- العنوان :	

		<p><b>الجزء الثاني:</b></p> <p><b>المقدمة:</b> فرنسا بين سياسة القوة والتهدة . أو مقدمة وظيفية أخرى تخدم الموضوع</p> <p><b>العرض:</b></p> <p><b>1. ظروف صدور القانون الخاص ( دستور الجزائر 1947 ) :</b></p> <p>. انعكاسات حوادث 8 ماي 1945.</p> <p>. محاولة فرنسا التهدة و امتصاص غضب الجزائريين.</p> <p>. محاولة جر الأحزاب الجزائرية إلى الصراعات الهامشية (التنافس على المقاعد داخل المجلس الجزائري)</p> <p>. تلميع الصورة الخارجية لفرنسا بعد مجازر 8 ماي 1945 .</p> <p><b>2. أهم ما تضمنه هذا القانون :</b></p> <p>. الجزائر أرض فرنسية ، يتساوى سكانها في الحقوق و الواجبات .</p> <p>. تشكيل مجلس جزائري منتخب من 120 عضو ( 60 من الجزائريين 60 من الفرنسيين )</p> <p>. فتح الوظائف العسكرية و المدنية أمام الجزائريين .</p> <p>. اللغة العربية لغة رسمية ثانية مع فصل الدين الإسلامي عن الدولة .</p> <p>. إنشاء مجلس حكومة من 6 أعضاء يساعد الحاكم العام ( 3 أعضاء جزائريين )</p> <p>. إلغاء النظام العسكري في الجنوب و نظام البلديات المختلطة .</p> <p><b>3. موقف الجزائريين منه :</b></p> <p>رفضه الجزائريون لأنه مشروع استعماري (ربط الجزائر بفرنسا ) منافي لمبادئ الديمقراطية (يساوي الأقلية بالأغلبية) لم يأخذ بعين الاعتبار مطلب الجزائريين في الاستقلال .</p> <p><b>الخاتمة:</b> دستور الجزائر الذي طرحته فرنسا سنة 1947 لم يكن إلا مناورة فرنسية بعد الغضب الشعبي الجزائري الذي ازداد بعد مجازر 08 ماي 1945 و بذلك إيجاد مخرج لسياستها الاستعمارية المتعثرة .</p> <p>ملاحظة: تقبل الإجابات الصحيحة الأخرى.</p>
0.5		
0.25	×	
4		
04	0.25	
	×	
	6	
	0.5	
	0.5	

الجغرافيا :

الجزء الأول:

1 . شرح المصطلحات التي تحتها خط :

0.5

العولمة : الانتشار العالمي لنفس النموذج و إزالة الحواجز أمام الانتقال الحر للسلع

0.5

و الخدمات و رؤوس الأموال و المعلومات بين دول العالم .

0.5

الناتج الوطني الإجمالي: مجموع الثروة المنتجة داخل و خارج البلد خلال سنة معينة.

البنك العالمي : مؤسسة مالية عالمية أنشئت بمقتضى معاهدة برتون وودز بهدف تقديم

مساعدات التقنية و القروض للدول ، خاصة الدول النامية قصد تمويل المشاريع التنموية

0.5

التنمية البشرية : مجموع الإجراءات التي تهدف إلى دعم قدرات الفرد و تحسين

06

01

أوضاعه الاجتماعية و الاقتصادية .

0.25

2/أ . التمثيل البياني :

0.25

الإنجاز

المقياس

0.25

العنوان

x

ب . التعليق على الرسم البياني :

3

. ارتفاع حجم الناتج الداخلي الخام في الدول المذكورة .

. تصدر و م . أ للدول الواردة في الجدول مما يفسر قوة الاقتصاد الأمريكي.

1.25

. الجدول يعكس مدى تقدم اقتصاديات هذه الدول .

0.25

3 . التوقيع على خريطة العالم الدول الواردة في الجدول :

0.25

الإنجاز

العنوان

المفتاح

0.5

الجزء الثاني:

المقدمة : الأقطاب الاقتصادية لمنطقة شرق و جنوب شرق آسيا استطاعت التحول إلى

قوى اقتصادية عالمية بفضل حسن استغلال مواردها الطبيعية و البشرية .

العرض :

0.5

1 - عوامل تحوّل منطقة شرق و جنوب شرق آسيا إلى فضاء اقتصادي عالمي :

x

- بشريا : وفرة الموارد البشرية المؤهلة+ الاستثمار الجيد للعنصر البشري + روح

3

التحدي للسكان و اتساع السوق الاستهلاكية .

اقتصاديا : ضخامة رؤوس الأموال و قوة الاستثمار + التطور التكنولوجي + التكتل و

التعاون الإقليمي ( الآسيان ) مع تقليد النموذج الياباني + توفر البنية التحتية

سياسيا : الاستقرار السياسي ...

04

		<b>2. المشاكل التي تعترض التنمية في المنطقة:</b>
0.25	×	- المنافسة الخارجية خاصة من طرف و . م . أ و الإتحاد الأوربي .
6		- التبعية للخارج في مجال المواد الأولية خاصة اليابان .
		- التفاوت في درجة التطور بين الأقاليم خاصة بالصين .
		- الاختلال في توزيع السكان بين جهة و أخرى .
		- الكوارث الطبيعية مثل الفيضانات ، الأعاصير ...
		- التلوث البيئي .
0.5		<b>الخاتمة :</b> التطور الاقتصادي لأقطاب منطقة شرق و جنوب شرق آسيا ظاهرة تؤكد نجاح النهج والسياسات الاقتصادية لهذه الدول .
		ملاحظة: تقبل الإجابات الصحيحة الأخرى.
		<b>الموضوع الثاني:</b>
		<b>التاريخ:</b>
		<b>الجزء الأول</b>
		<b>1 - تعريف المصطلحات التي تحتها خط :</b>
0.5		جبهة التحرير الوطني : تنظيم سياسي ثوري جزائري ظهر سنة 1954، الممثل الوحيد
0.5		للشعب الجزائري، قاد الثورة التحريرية إلى غاية الاستقلال.
0.5		الحكومة المؤقتة للجمهورية الجزائرية : أسست بالقاهرة في 19 سبتمبر 1958 برئاسة
0.5		فرحات عباس كممثل للشعب الجزائري و ثورته بالمشاركة في المؤتمرات
		و المحافل الدولية ثم عملية المفاوضات مع فرنسا .
		تقرير المصير : أحد مبادئ هيئة الأمم المتحدة يدعو إلى حق الشعوب في اختيار
0.5		مصيرها و تسيير شؤونها بنفسها.
		وقف اطلاق النار: هو توقيف كل العمليات الحربية ونهاية المواجهة العسكرية بين
		الجزائر وفرنسا بموجب اتفاقيات إيفيان، شرع في تطبيقه في 19 مارس 1962.
0.5		<b>2 . التعريف بالشخصيات :</b>
06		- بن يوسف بن خدة : عضو قيادي في حركة انتصار الحريات الديمقراطية ، أمين
		عام اللجنة المركزية لجبهة التحرير الوطني ثم رئيس الحكومة المؤقتة للجمهورية
0.5		الجزائرية بين 1960 و 1962 .
		- مصطفى بن بولعيد :مناضل في حركة الإنتصار الحريات الديمقراطية ، من مفجري
		الثورة التحريرية و أحد قادتها بمنطقة الأوراس، ألقى عليه القبض و استشهد سنة 1956
0.5		.
		- مانديس فرانس سياسي فرنسي تولى رئاسة حكومة بلاده سنة 1954 فشل في
		مواجهة الثورة التحريرية لذلك سقطت حكومته سنة 1955
0.5		- جمال عبد الناصر: أحد أعضاء حركة الضباط الأحرار في مصر التي قادت الثورة
		المصرية في 23 جويلية 1952، رئيس جمهورية مصر العربية من 1954 إلى 1970 ،
		مؤمم قناة السويس و أحد أقطاب حركة عدم الإنحياز .

		<b>3 - إتمام الجدول :</b>
0.25		- تأسيس منظمة الأمم المتحدة : 24 أكتوبر 1945
×		- تأسيس حلف الشمال الأطلسي: 04 أبريل 1949
4		- مظاهرات المهاجرين الجزائريين بباريس دعماً للثورة : 17 أكتوبر 1961
		- انعقاد مؤتمر الصومام: 20 أوت 1956
		<b>4 - التوقيع على خريطة الجزائر ثلاثة مناطق عسكرية من اختيارك حددتها الثورة الجزائرية سنة 1954 .</b>
0.75		الإجاز
0.25		العنوان
		<b>الجزء الثاني</b>
		<b>المقدمة :</b> كشف مشروع مارشال الأمريكي سنة 1947 عن درجة التوتر الكبيرة للعلاقات بين المعسكرين الشرقي الشيوعي و الغربي الرأسمالي . أو مقدمة وظيفية أخرى تخدم الموضوع .
0.5		<b>العرض :</b>
04		<b>1 - أسباب توتر العلاقات بين المعسكرين الشرقي و الغربي:</b>
		- الخلاف و التنافر الإيديولوجي بين المعسكرين.
0.25		- تراجع مكانة أوروبا و انتقال الزعامة الدولية إلى الإتحاد السوفياتي و و.م.أ .
×		- خروج و.م.أ من عزلتها و تصميمها على تطويق الشيوعية .
6		- رغبة الإتحاد السوفياتي في نشر الشيوعية و توسيع مجال نفوذه .
		- تأسيس الأحلاف العسكرية و المشاريع الاقتصادية .
		- تصادم مصالح المعسكرين.
		<b>2 - أهداف مشروع مارشال :</b>
		<b>أ - المعنوية :</b>
		- إعادة بناء أوروبا بعد الدمار الذي أصابها أثناء الحرب العالمية الثانية .
0.25		- إقرار التعاون مع الدول المشتركة في المشروع .
×		- النهوض بالاقتصاد الأوربي
6		<b>ب - الخفية :</b>
		- مواجهة المد الشيوعي بأوروبا و حماية النظام الرأسمالي .
		- فرض الهيمنة و الوصاية الأمريكية على أوروبا .
		- ربط عجلة الاقتصاد الأوربي بالأمريكي .
		<b>الخاتمة :</b> الإعلان عن مشروع مارشال الأمريكي سنة 1947 من أهم العوامل التي ساهمت في توتر العلاقات بين الشرق و الغرب.
0.5		ملاحظة: تقبل الإجابات الصحيحة الأخرى.

الجغرافيا:

الجزء الأول:

0.5

1. شرح المصطلحات التي تحتها خط :

0.5

الأموال غير المشروعة : هي أموال مكتسبة بطرق غير شرعية مثل تجارة المخدرات و الأسلحة يقوم أصحابها بتبييضها عبر عمليات بنكية و تجارية. التكنولوجيا : علم التقنيات المطبقة في مختلف المجالات و هي معيار أساسي لقياس درجة التطور .

0.5

0.5

الاستثمارات : توظيف الأموال في مشاريع معينة بهدف تحقيق منفعة مادية .  
البورصات : سوق للتعامل مع الأوراق المالية عن طريق الاكتتاب و إصدار الأسهم و السندات .

01

2. التمثيل البياني :

0.25

الإنجاز

0.25

المقياس

العنوان

0.25

3. التعليق على الرسم البياني :

0.5

. عدم استقرار أسعار البترول في الأسواق الدولية .

0.25

. انخفاض الأسعار سنة 2009 ثم ارتفاعها بشكل محسوس سنة 2012 .

- تضاعف الأسعار بخمس مرات بين 2002 و 2012 لزيادة الطلب و الاستهلاك العالمي .

06

4. التوقيع على خريطة أوروبا الدول الأوربية العضوة في مجموعة الثمانية .

1

0.25

الإنجاز

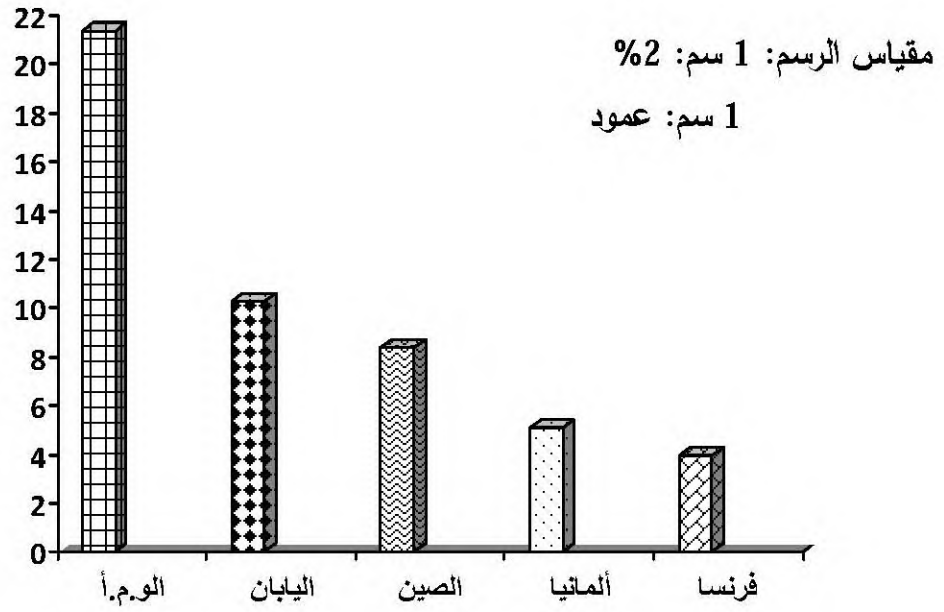
0.25

العنوان

المفتاح

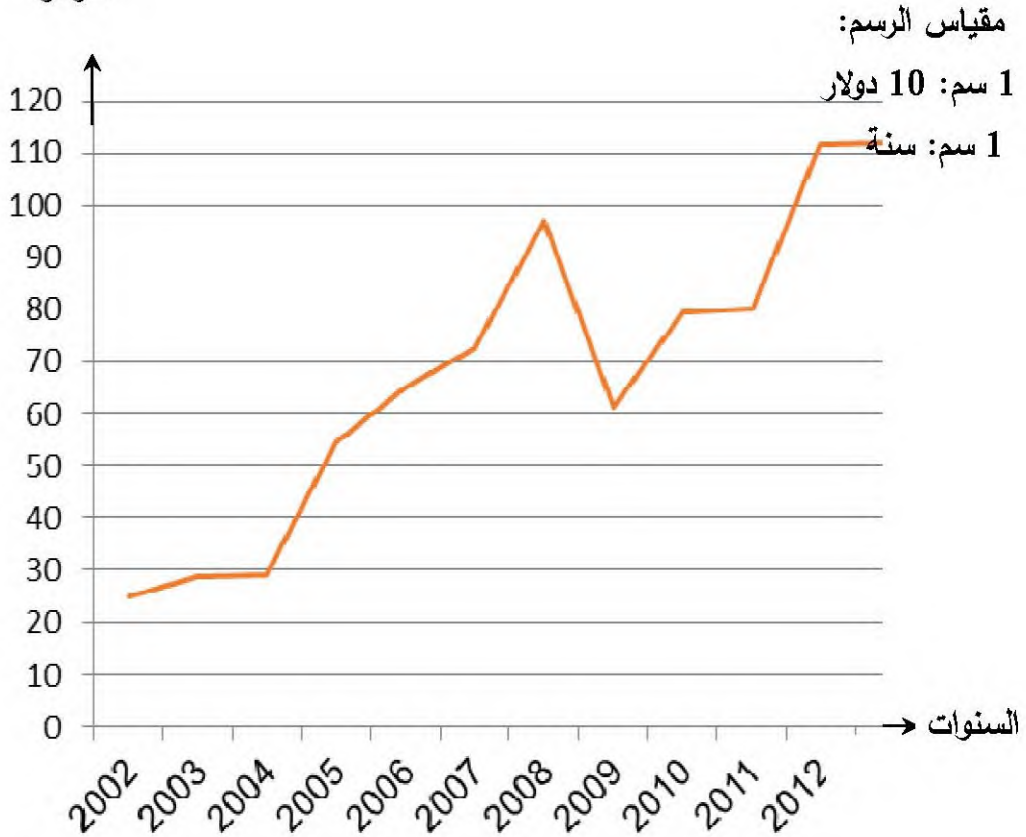
04	0.5 × 3  0.25 × 6  0.5	<p><b>الجزء الثاني:</b></p> <p><b>المقدمة :</b> الدول النامية بين وفرة إمكانياتها و مواردها و تنوع مشاكلها و أزماتها أو ( مقدمة وظيفية أخرى تخدم الموضوع ) <b>العرض :</b></p> <p><b>1 . إمكانات التنمية في دول الجنوب :</b></p> <p><b>أ . الطبيعية :</b> الموقع الإستراتيجي + وفرة الموارد الطبيعية + وفرة الأراضي الزراعية و خصوبتها + تنوع المناخ ومظاهر السطح ...</p> <p><b>ب . الاقتصادية :</b> وفرة المواد الأولية + رؤوس الأموال و المدخرات المالية لعدد من الدول + اتساع السوق الاستهلاكية ..</p> <p><b>ج . البشرية :</b> اليد العاملة + الكفاءات العلمية ...</p> <p><b>2 . المشاكل التي تواجه التنمية في الدول النامية :</b></p> <p>. التبعية الاقتصادية و المالية لدول الشمال المتقدم .</p> <p>. سوء استغلال الموارد الطبيعية و البشرية .</p> <p>. عدم التحكم في التكنولوجيا .</p> <p>. النمو الديموغرافي السريع و انعكاساته السلبية .</p> <p>. قلة إلى انعدام الاستقرار السياسي و الأمني .</p> <p>. الكوارث الطبيعية كالجفاف ، الفيضانات ، الأعاصير ..</p> <p><b>الخاتمة :</b> بالنظر إلى الإمكانيات الكبيرة التي تمتلكها الدول النامية فإنها قادرة على معالجة و تجاوز مشاكلها .</p> <p>ملاحظة: تقبل الإجابات الصحيحة الأخرى.</p>
----	--	---

### النسب المئوية



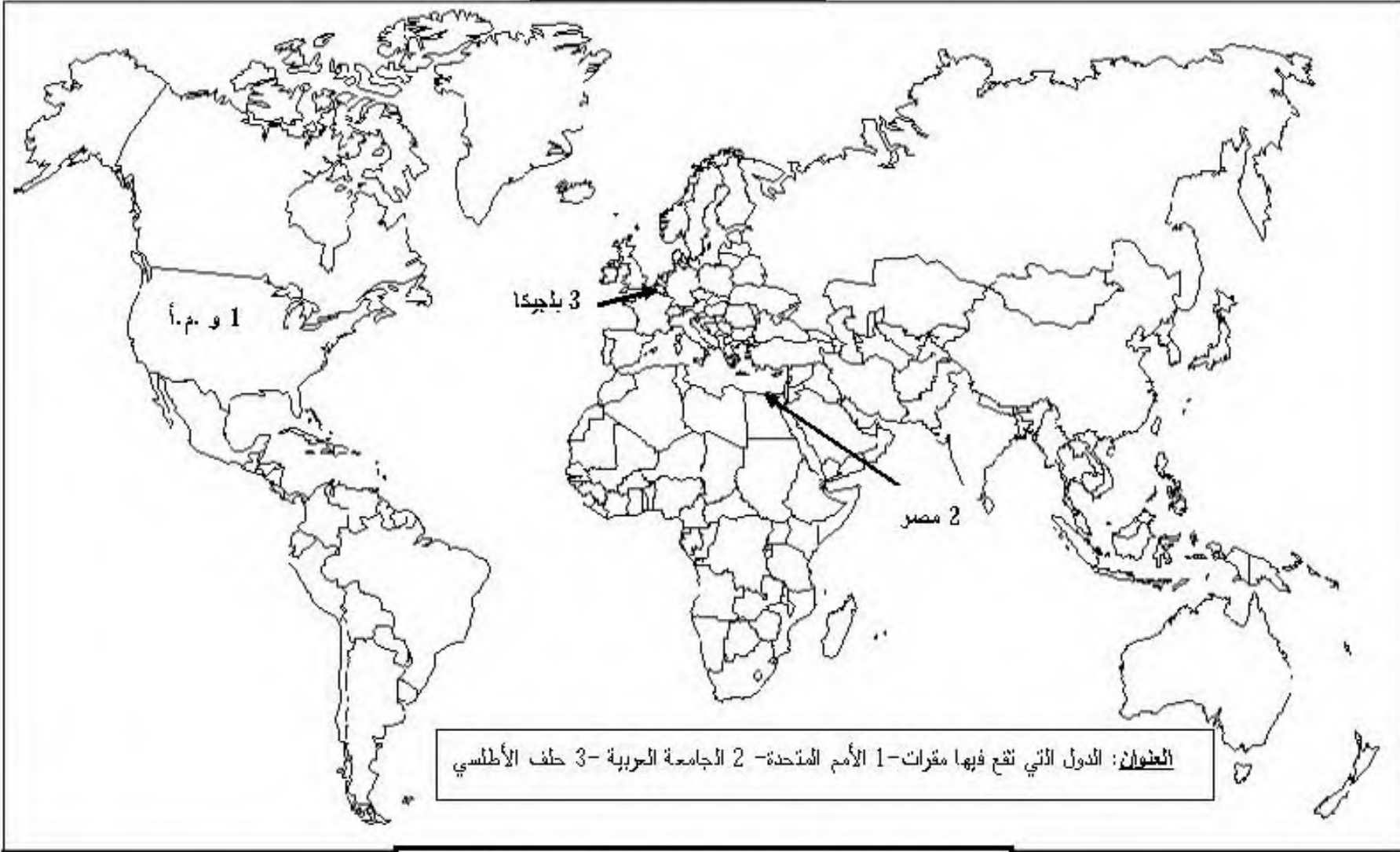
### أعمدة بيانية تمثل الناتج الوطني الخام لبعض الدول

### الدولار



منحنى بياني يمثل تطور أسعار البترول من 2002 إلى 2012

## خريطة العالم



ينجز العمل على الخريطة وتعاد مع أوراق الإجابة

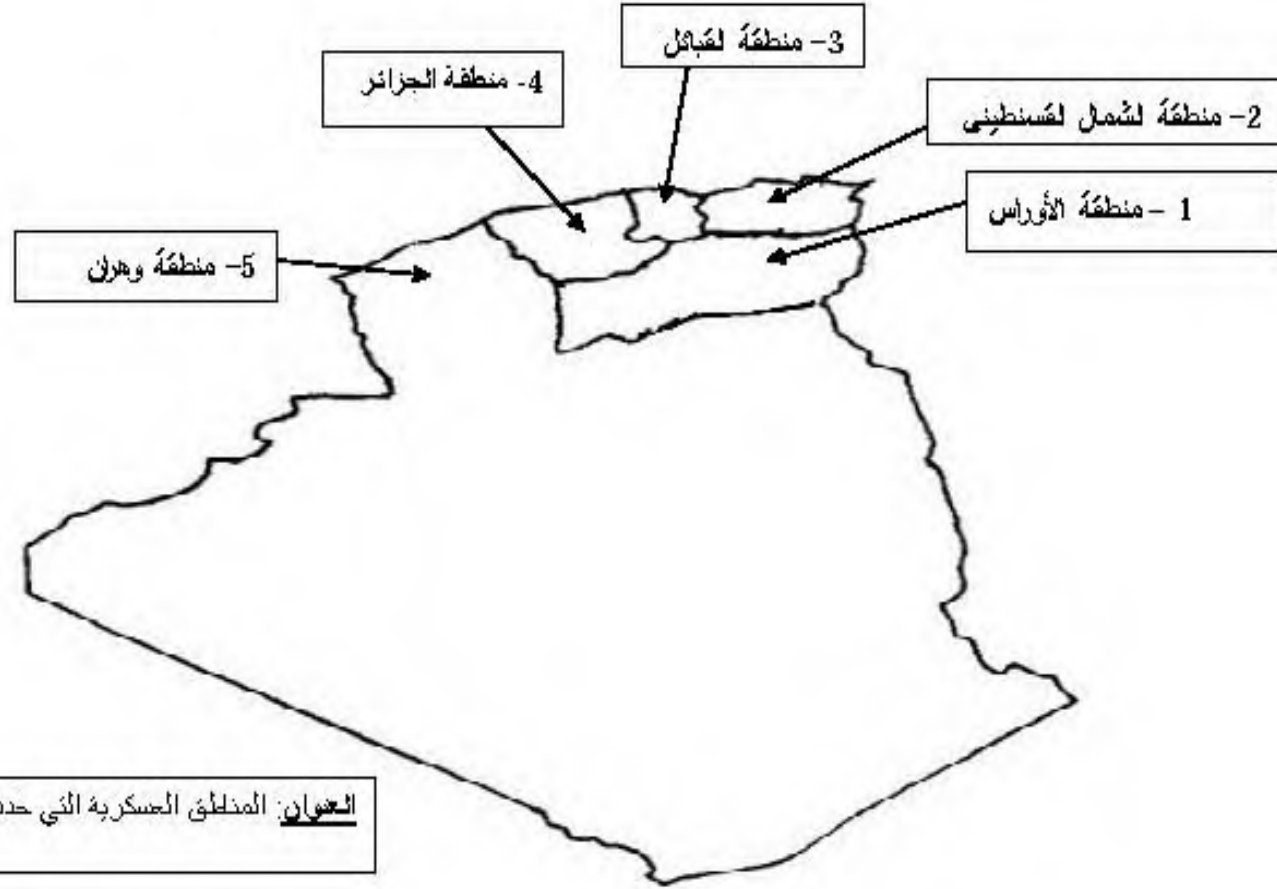
## خريطة العالم



العنوان: الدول الواردة في الجدول

ينجز العمل على الخريطة وتعد مع ورقة الإجابة

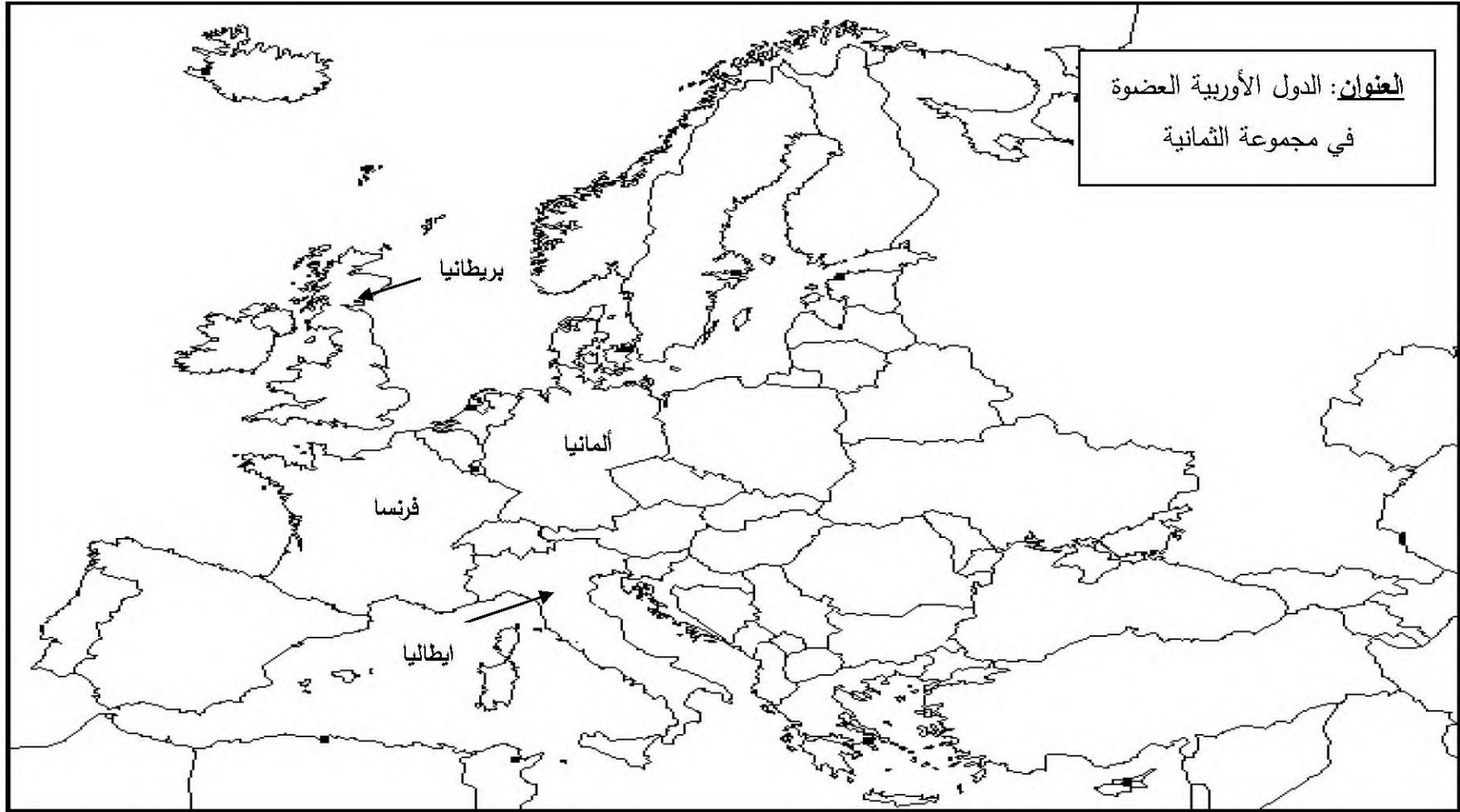
خريطة الجزائر



العنوان: المنطلق العسكرية التي حدثتها الثورة سنة 1954

ينجز العمل على الخريطة وتعاد مع أوراق الإجابة

## خريطة أوروبا



ينجز العمل على الخريطة وتعاد مع أوراق الإجابة