

الجمهورية الجزائرية الديمقراطية الشعبية

وزارة التربية الوطنية

الديوان الوطني للامتحانات والمسابقات

امتحان بكالوريا التعليم الثانوي

دورة: جوان 2014

الشعبة: تسيير واقتصاد

اختبار في مادة: التاريخ والجغرافيا

المدة: 3 سا و 30 د

على المترشح أن يختار أحد الموضوعين التاليين:

الموضوع الأول

التاريخ:

الجزء الأول: (06 نقاط)

"...ساهمت الظروف في تعميق سياسة الانفراج وحمل القوتين المتصارعتين على تجاوز الاعتراضات والنزاعات القائمة آنذاك. ففي آسيا تورطت الولايات المتحدة في حرب خاسرة في فيتنام 1965 ... وقيام القوات العسكرية لحلف وارسو بتحطيم تجربة المطالبة بالحرية في تشيكوسلوفاكيا... مما زاد من حدة الحرب الباردة بين الشرق والغرب إلا أن منطق التعايش كان أقوى..." الكتاب المدرسي ص 38

1- اشرح المصطلحات التي تحتها خط في النص.

2- عرّف بالشخصيات التالية:

- ميخائيل غورباتشوف - فرحات عباس - جون كيندي

3- أكمل الجدول بذكر الحدث أو تاريخه:

التاريخ	الحدث
04 أبريل 1949
.....	بناء جدار برلين
.....	تأسيس الحكومة المؤقتة للجمهورية الجزائرية

الجزء الثاني: (04 نقاط)

تميزت العلاقات الدولية بين الشرق والغرب بعد الحرب العالمية الثانية، بالتوتر تارة وبالانفراج تارة أخرى.

المطلوب: انطلاقا من الفقرة واعتمادا على ما درست، اكتب مقالا تاريخيا تبين فيه:

1- أسباب التوتر والصراع بين الشرق والغرب.

2- موقف دول العالم الثالث من هذا الصراع.

الجزء الأول: (06 نقاط)

"... سواء تمّ جمع المال على مستوى البنوك أو البورصات ... فإن رؤوس الأموال تعرف استثماراً متزايداً ومستمرّاً من خلال نشاطات موجودة ومستحدثة دون أن يكون هناك أي حاجز بالنسبة لتنقلها، بل هناك ما يشجع ذلك من سياسة التبادل الحر التي تدعمها المجتمعات الرأسمالية مثل المنظمة العالمية للتجارة و**صندوق النقد الدولي**..."

الكتاب المدرسي ص 28

1- اشرح المصطلحات التي تحتها خط في النص.

2- إليك جدولاً يمثل نسب الإنتاج لأهم الدول المصدرة للقمح سنة 2008 .

البلد	الولايات المتحدة الأمريكية	الاتحاد الأوروبي	كندا	أستراليا	الأرجنتين	بقية العالم
الإنتاج	%35.51	%19.67	%20.35	%09.60	%05.09	%09.78

صور اقتصادية للعالم 2009

المطلوب: أ- مثل نسب الجدول بدائرة نسبية. نق ← 4 سم.

ب- على خريطة العالم المرفقة وقّع الدول التالية: الولايات المتحدة الأمريكية، كندا، أستراليا، الأرجنتين.

الجزء الثاني: (04 نقاط)

تشكل آسيا الشرقية والجنوبية الشرقية منطقة ديمغرافية تتجاوز المليار ونصف المليار نسمة. تستحوذ المنطقة على $\frac{1}{4}$ الثروة العالمية تقريباً، وتعتبر مركز جذب الاستثمارات الأجنبية وهي ذات اقتصاد متفتح على العالم.

المطلوب: انطلاقاً من الفقرة واعتماداً على ما درست، اكتب مقالاً جغرافياً تبيّن فيه:

1- دور الوزن الديمغرافي في التطور الاقتصادي للمنطقة.

2- مدى تأثير التطور الاقتصادي للمنطقة على السوق العالمية.

الموضوع الثاني

التاريخ:

الجزء الأول: (06 نقاط)

صرّح "كريم بلقاسم" إثر التوقيع على اتفاقية إيفيان بالتالي:

"... بمقتضى تفويض المجلس الوطني للثورة الجزائرية، وباسم الحكومة المؤقتة للجمهورية الجزائرية، وقعنا في الساعة الخامسة والنصف من عشية اليوم على اتفاق عام مع الممثلين المفوضين للحكومة الفرنسية. وبمقتضى هذا الاتفاق العام المبرم - اتفاق وقف إطلاق النار - يدخل وقف إطلاق النار حيز التنفيذ بكامل التراب الوطني يوم الاثنين 19 مارس في منتصف النهار بالتدقيق..."

جريدة المجاهد التاريخية لسان حال جبهة التحرير الوطني

1- اشرح المصطلحات التي تحتها خط في النص.

2- عرّف بالشخصيات الآتية:

- زيغود يوسف - جوزيف بروز تيتو - جوزيف ستالين

3- أكمل الجدول بذكر الحدث أو تاريخه.

التاريخ	الحدث
.....	إنشاء منظمة الكوميكون
01-06 سبتمبر 1961
.....	نداء سلم الشجعان

الجزء الثاني: (04 نقاط)

رغم الإستراتيجية التي طبقها ديغول من أجل القضاء على الثورة إلا أنه وجد نفسه مضطراً للدخول في مفاوضات مع جبهة التحرير الوطني.

المطلوب: انطلاقاً من الفقرة واعتماداً على ما درست، اكتب مقالاً تاريخياً تبين فيه:

1- أسباب رضوخ فرنسا للتفاوض.

2- ظروف قيام الجمهورية الجزائرية.

"... وتشكل الاستثمارات المباشرة في الخارج رأسمال ناتج عن المضاربة. وترتبط أساساً ببعض المراكز المالية على المستوى العالمي... تستقبل البورصات الكبيرة أموال المستثمرين المؤسسين كالبنوك وصناديق الضمان الاجتماعي والشركات المتعددة الجنسيات وكذا صناديق منح المتقاعدين... كما يتجه الرأسمال إلى المناطق الخالية من الضرائب حيث يتم تبييض أموال المبادلات..."

الكتاب المدرسي ص 33

1- اشرح المصطلحات التي تحتها خط في النص.

2- إليك جدولاً يمثل الناتج الداخلي الخام لبعض القوى الاقتصادية في العالم سنة 2005 بمليار دولار.

الدول	الولايات المتحدة الأمريكية	اليابان	ألمانيا	بريطانيا	فرنسا	الصين
القيمة مليار دولار	12427,1	4559	2793	2202	2105,5	1694

Images économiques du monde 2005

- المطلوب: أ- مثل أرقام الجدول بأعمدة بيانية بمقياس: 1سم ← 2000 مليار دولار.
1سم ← دولة.
ب- على خريطة العالم المرفقة، وقّع الدول الواردة في الجدول.

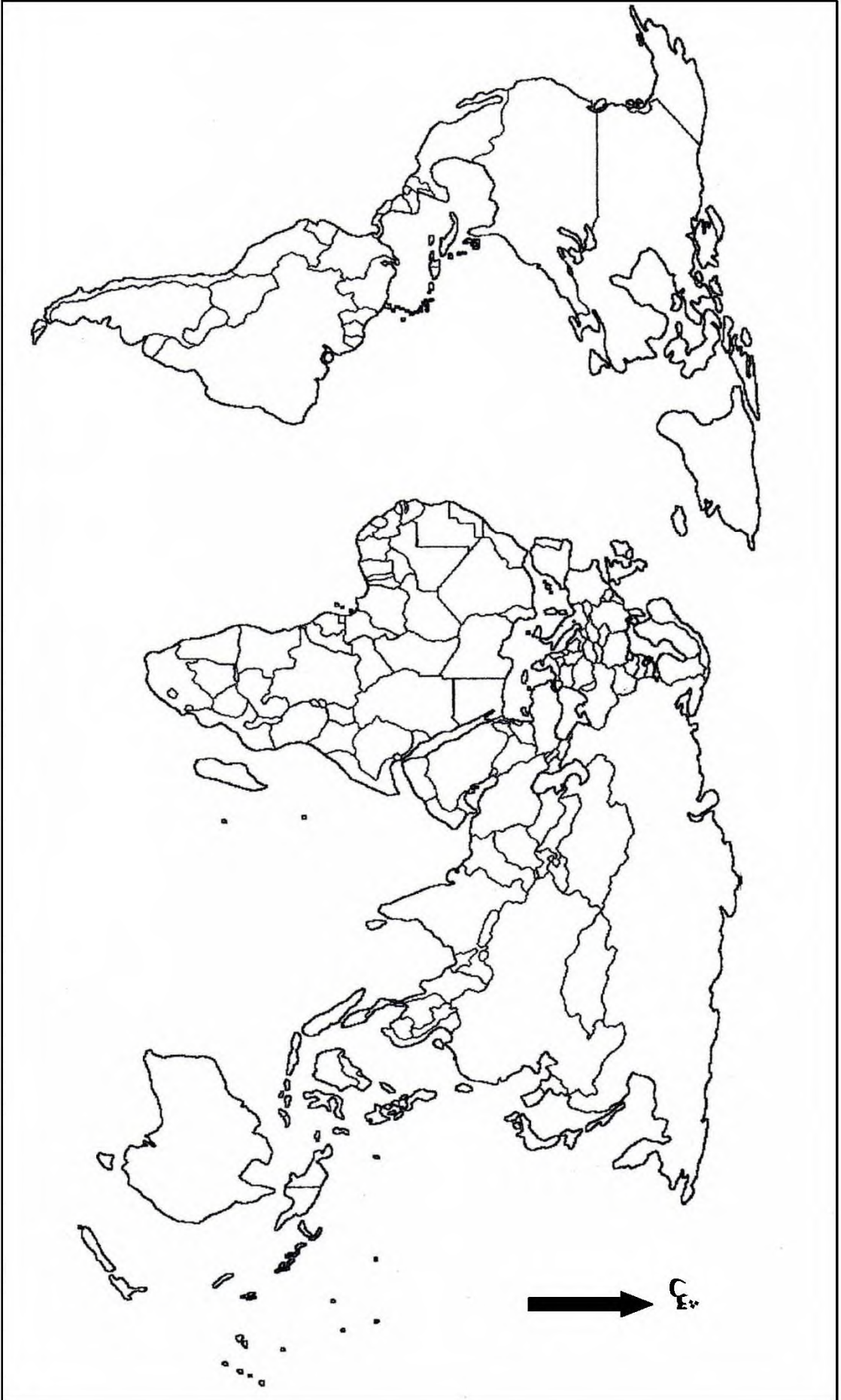
الجزء الثاني: (04 نقاط)

تعدُّ الولايات المتحدة الأمريكية قوة اقتصادية كبرى تؤثر في العلاقات الاقتصادية العالمية.

المطلوب: انطلاقاً من الفقرة واعتماداً على ما درست، اكتب مقالاً جغرافياً تبيّن فيه:

- 1- مظاهر القوة الاقتصادية للولايات المتحدة الأمريكية.
- 2- أثر هذه القوة على العلاقات الاقتصادية العالمية.

خريطة العالم



ينجز العمل المطلوب على الخريطة وتعاد مع أوراق الإجابة

العلامة		عناصر الإجابة							
مجموع	مجزأة								
06		الموضوع الأول							
		التاريخ: الجزء الأول: (06ن)							
	0.75	1- شرح المصطلحات: • سياسة الانفراج: هي سياسة تبنها المعسكران بعد أزمة الصواريخ بكوبا لإزالة الشدة والضيق التي ميزت العلاقات الدولية.							
	0.75	• حلف وارسو: هو الحلف الوحيد للمعسكر الشيوعي تأسس في 14 ماي 1955 لمواجهة الأحلاف العسكرية الغربية، والتصدي لسياسة الاحتواء.							
	0.75	• الشرق: يقصد به المعسكر الشيوعي بزعامة الاتحاد السوفيتي.							
	0.75	2- التعريف بالشخصيات: • ميخائيل غورباتشوف: آخر رؤساء الاتحاد السوفيتي صاحب إصلاحات البريسترويكيا والglasnost، في عهده تم إنهاء الحرب الباردة.							
	0.75	• فرحات عباس: زعيم الاتجاه الإدماجي، التحق بالثورة 1956، أول رئيس للحكومة المؤقتة الجزائرية.							
	0.75	• جون كنيدي: رئيس أمريكي، شهدت فترة حكمه أزمة الصواريخ بكوبا 1962، اغتيل في 1963.							
		3- إكمال الجدول:							
	0.50	<table border="1"> <thead> <tr> <th>التاريخ</th> <th>الحدث</th> </tr> </thead> <tbody> <tr> <td>04 أبريل 1949</td> <td>إنشاء الحلف الأطلسي</td> </tr> <tr> <td>13 أوت 1961</td> <td>بناء جدار برلين</td> </tr> <tr> <td>19 سبتمبر 1958</td> <td>تأسيس الحكومة المؤقتة الجزائرية</td> </tr> </tbody> </table>	التاريخ	الحدث	04 أبريل 1949	إنشاء الحلف الأطلسي	13 أوت 1961	بناء جدار برلين	19 سبتمبر 1958
التاريخ	الحدث								
04 أبريل 1949	إنشاء الحلف الأطلسي								
13 أوت 1961	بناء جدار برلين								
19 سبتمبر 1958	تأسيس الحكومة المؤقتة الجزائرية								
0.50	0.50	0.50							
		الجزء الثاني: (04ن)							
0.50		المقدمة: تجدد الصراع الإيديولوجي بين حلفاء الأمم بعد الحرب العالمية الثانية.							
0.50		1- أسباب الصراع والتوتر:							
0.50		• الخلاف الإيديولوجي بين الشيوعية والرأسمالية.							
0.50		• السباق نحو التسلح خاصة بعد امتلاك الاتحاد السوفيتي السلاح النووي في 1949.							
0.25		• انتصار الشيوعية في أوروبا الشرقية وجنوب شرق آسيا.							
0.25		• خروج الولايات المتحدة الأمريكية من عزلتها نهائيا.							
0.50		2- موقف دول العالم الثالث من هذا الصراع:							
0.50		• رفض سياسة الصراع واللجوء إلى التكتل في إطار التقارب الأفروآسيوي، وتأسيس حركة عدم الانحياز.							
0.50		• السعي إلى وضع حد للسباق نحو التسلح "إزالة القواعد العسكرية".							
0.50		• مناصرة سياسة التعايش السلمي بين المعسكرين.							
0.50		الخاتمة: تحسن العلاقات بين المعسكرين والتوجه نحو الانفراج الدولي.							

الجغرافيا:

الجزء الأول: (06)

1- شرح المصطلحات:

0.75 • **البنوك:** هي مؤسسات مصرفية، تقوم بالعمليات المالية، وتعمل تحت إشراف ومراقبة البنك المركزي وتخضع البنوك إلى مجموعة من القواعد المنظمة لعملها (النظام المصرفي).

0.75 • **البورصات:** هي سوق مالية يتم فيها تداول الأسهم والسندات والعملات، وتحديد أسعار المواد الأولية والسلع الإستراتيجية.

06 0.75 • **صندوق النقد الدولي:** مؤسسة مالية دولية تأسست في 1945 تعمل على تسيير نظام النقد الدولي بعد الحرب العالمية الثانية، وضمان احترام الدول لقواعد مؤتمر بروتون وودز 1944.

2- أ- التمثيل البياني:

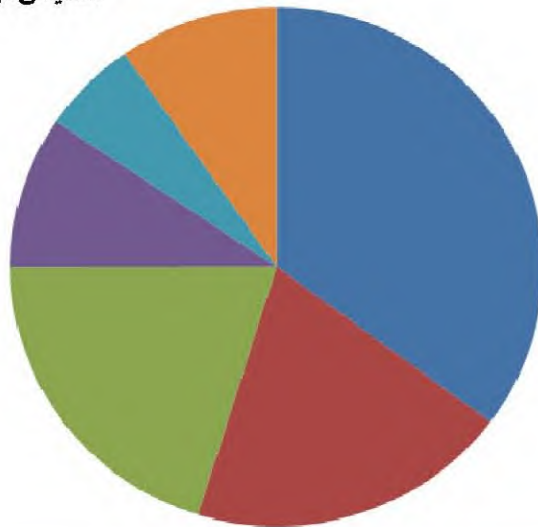
- الانجاز.

- المفتاح.

- العنوان.

نسب مساهمة أهم الدول المصدرة للقمح سنة 2008

المقياس نق = 4 سم



المفتاح:

■ الو.م. أ.

■ الاتحاد الأوروبي

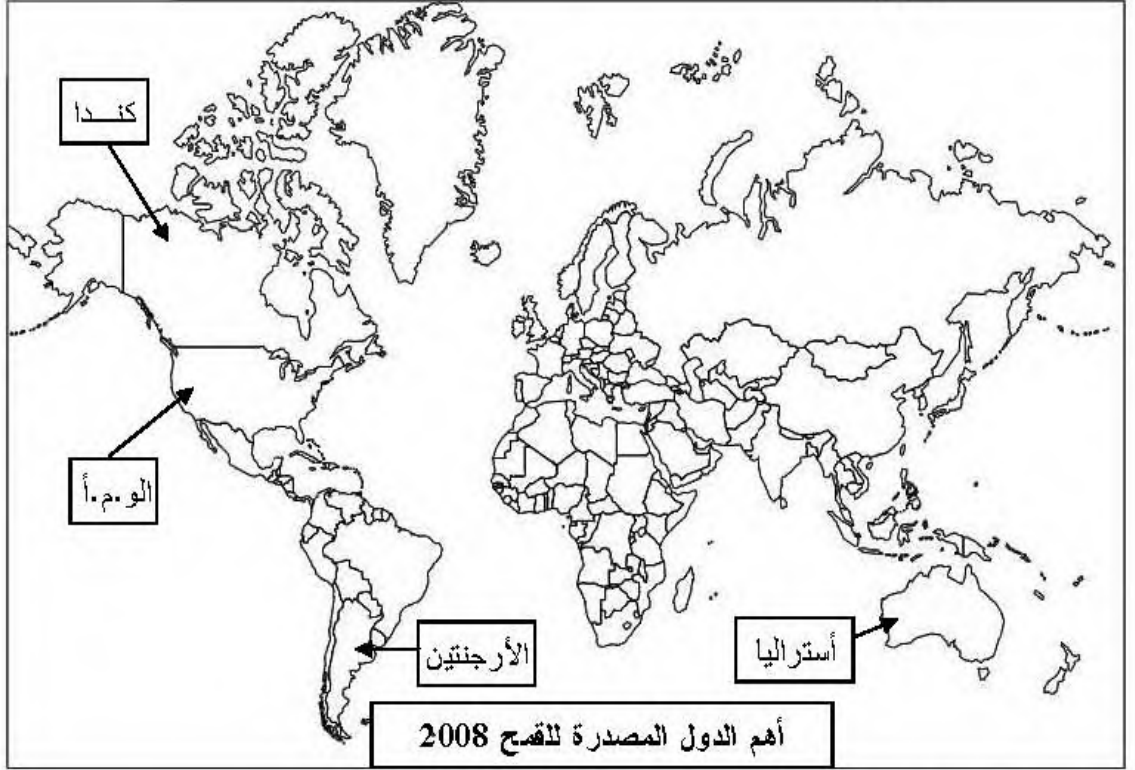
■ كندا

■ استراليا

■ الأرجنتين

■ بقية العالم

ب- التوقيع على الخريطة:
- الإنجاز.
- العنوان.



الجزء الثاني: (04ن)

0.50 المقدمة: يعتبر العنصر البشري في شرق وجنوب شرق آسيا المحرك الرئيسي لدفع عجلة التنمية.

1- دور الوزن الديمغرافي في التطور الاقتصادي:

- 0.50 - أول قوة بشرية في العالم 3/1 سكان العالم (يد عاملة تمتاز بالقدرة والكفاءة والتحمدي)
0.50 - الاستغلال الأمثل للموارد البشرية .
0.50 - توسيع البحث العلمي وربطه بالتنمية الاقتصادية والبشرية.

2- تأثير التطور الاقتصادي على السوق العالمية:

- 0.50 - بروز دول المنطقة كقطب اقتصادي بعد و.م.أ والاتحاد الأوروبي.
0.50 - غزو منتوجاتها للأسواق العالمية.
0.50 - سيطرتها على بعض المنتوجات الصناعية (الإلكترونية والميكانيكية) .
0.50 - ضخامة استهلاك المواد الأولية (معادن وطاقة) .
0.50 - منافسة القطبين في مجال التجارة والمال (احتكار أسطولها التجاري لـ 30 % من الأسطول التجاري العالمي)

0.50 الخاتمة: أهمية الاستثمار في الموارد البشرية لتحقيق التطور الاقتصادي.

ملاحظة: تقبل الإجابات الصحيحة الأخرى.

الموضوع الثاني

التاريخ:

الجزء الأول: (06ن)

1- شرح المصطلحات:

0.75 • المجلس الوطني للثورة: مؤسسة تشريعية انبثقت عن مؤتمر الصومام وهو أعلى جهاز للثورة المخول له وقف إطلاق النار.

0.75 • الحكومة المؤقتة للجمهورية الجزائرية: هيئة سياسية جزائرية، تأسست في 19 سبتمبر 1958 بالقاهرة برئاسة فرحات عباس، عوضت لجنة التنسيق والتنفيذ.

0.75 • وقف إطلاق النار: هو وقف كل العمليات الحربية ونهاية المواجهة العسكرية بموجب اتفاقيات إيفيان بين الحكومة الجزائرية المؤقتة والحكومة الفرنسية طبقت في 19 مارس 1962.

2- التعريف بالشخصيات:

0.75 • زيغود يوسف: أحد مفجري الثورة، قائد المنطقة الثانية، قاد هجومات 20 أوت 1955.

0.75 • جوزيف بروز تيتو: رئيس يوغسلافيا سابقا، أحد مؤسسي حركة عدم الانحياز.

0.75 • جوزيف ستالين: رئيس الاتحاد السوفييتي، تميز عهده بالتشدد والتصلب تجاه الغرب.

3- إكمال الجدول:

التاريخ	الحدث
25 جانفي 1949	إنشاء منظمة الكوميكون
06-01 سبتمبر 1961	المؤتمر التأسيسي لحركة عدم الانحياز
23 أكتوبر 1958	نداء سلم الشجعان

الجزء الثاني: (04ن)

المقدمة: قوة الثورة ورضوخ ديغول إلى الأمر الواقع.

1- أسباب رضوخ فرنسا للتفاوض.

0.50 • التقاف الشعب حول ثورته ومساندته لها و تمسكه بالاستقلال.

0.50 • فشل جميع المحاولات الاستعمارية في قمع الثورة سياسيا وعسكريا (سياسة ديغول).

4×0.25 • تدهور الاقتصاد الفرنسي بسبب نفقات الحرب.

• اكتساب الثورة تأييدا دوليا واسعا.

• ضغط الرأي العام الفرنسي والعالمي.

2- ظروف قيام الجمهورية الجزائرية:

0.50 • التوقيع على اتفاقية إيفيان في 18 مارس 1962.

0.50 • إنشاء هيئة تنفيذية مؤقتة لتسيير الفترة الانتقالية.

0.50 • تزايد نشاط منظمة الجيش السري (L'O.A.S).

6×0.25 • انعقاد مؤتمر طرابلس في جوان 1962 لوضع برنامج الجزائر المستقلة.

• الاستفتاء الشعبي في 01 جويلية 1962.

• إعلان نتائج الاستفتاء في 03 جويلية 1962 (97.5%) واعتراف فرنسا رسميا

0.50 • باستقلال الجزائر في 05 جويلية 1962.

الخاتمة: قيام الجمهورية الجزائرية وشروعها في البناء والتشييد.

الجغرافيا:

الجزء الأول: (06)

1- شرح المصطلحات:

0.50 • الاستثمارات: هي توظيف رؤوس أموال في مشاريع اقتصادية اجتماعية.

0.50 • المضاربة: هي المخاطرة بالبيع والشراء بناء على توقع تقلبات أسعار السوق.

0.75 • تبييض الأموال: استثمار أموال مكتسبة بطرق غير قانونية في مشاريع اقتصادية واجتماعية ذات طابع قانوني.

2- أ- الرسم البياني:

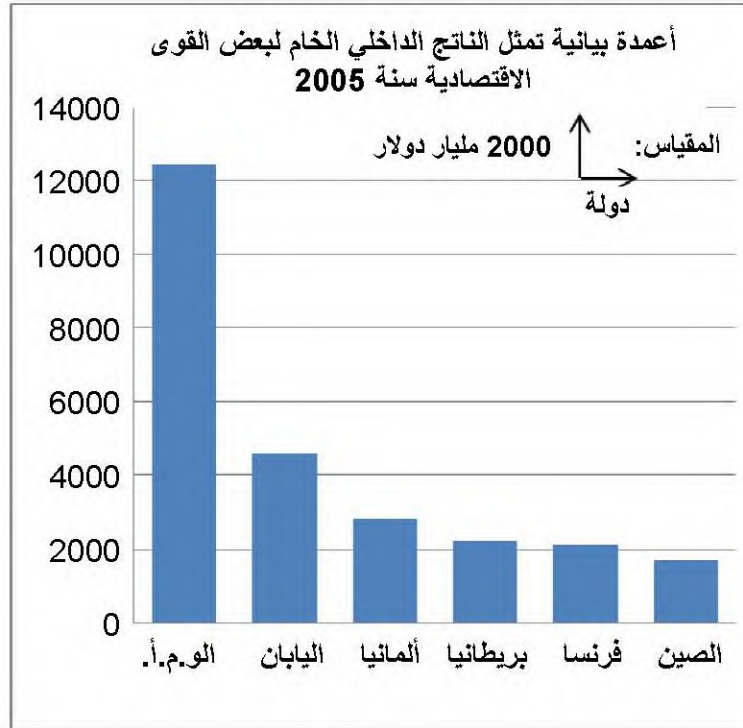
- الإنجاز.

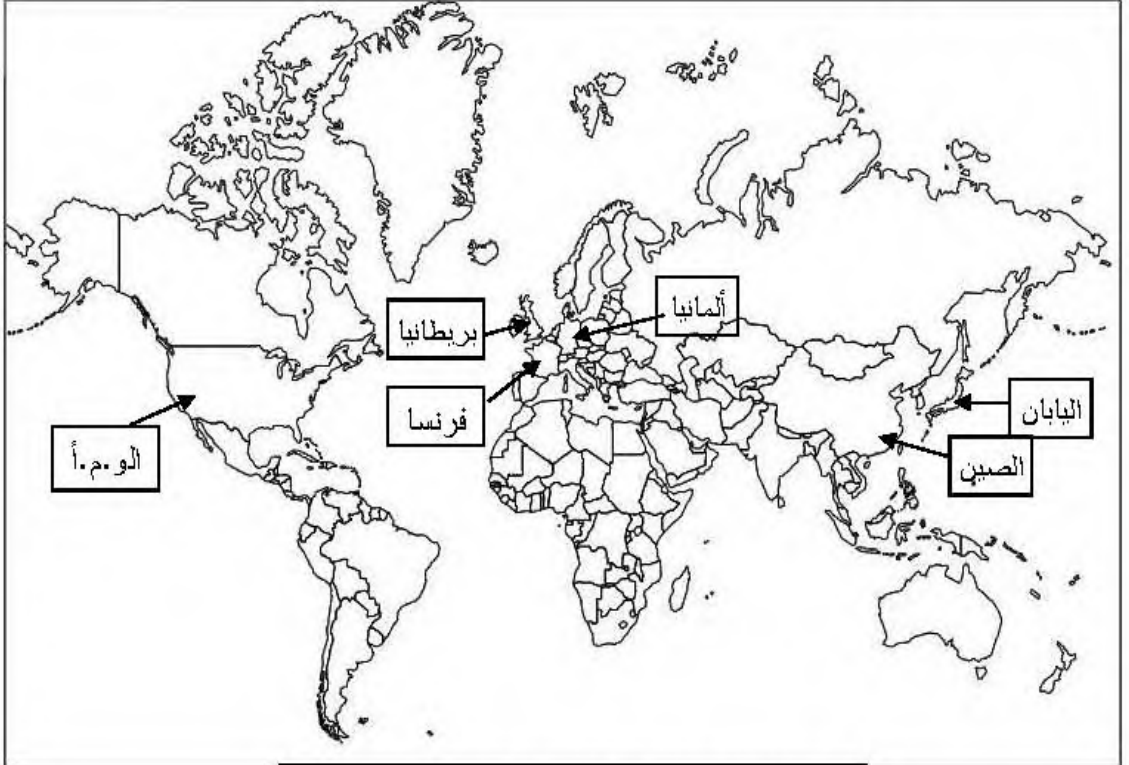
- العنوان.

- المقياس.

01.25
0.50
0.50

06



	6×0.25 0.50	<p>ب- التوقيع على الخريطة: - الإنجاز. - العنوان.</p>  <p>خريطة لأهم القوى الاقتصادية في العالم. 2005</p>
04	0.50 6×0.25 0.50 4×0.25 0.50	<p>الجزء الثاني: (04ن) المقدمة: القوة الاقتصادية الأمريكية بين تنوع إمكاناتها وهيمنتها العالمية.</p> <p>1- مظاهر القوة الاقتصادية للولايات المتحدة الأمريكية.</p> <ul style="list-style-type: none">• وفرة وتنوع وضخامة الإنتاج الزراعي والصناعي "المراتب الأولى عالميا"• المساهمة في التجارة العالمية (13%).• قوة الاستثمارات الأمريكية في العالم.• امتلاكها لأكبر البورصات العالمية وقوة عملتها.• حجم استهلاكها للطاقة والمواد الأولية (20%).• وفرة وتنوع وتطور شبكة المواصلات. <p>2- أثر هذه القوة على العلاقات الاقتصادية العالمية.</p> <ul style="list-style-type: none">• استخدام الغذاء كسلاح أخضر.• هيمنتها و نفوذها على المؤسسات المالية الدولية.• تأثير أزماتها الاقتصادية المحلية على الاقتصاد العالمي "أزمة 2008".• السيطرة على الأسواق التجارية العالمية.• نفوذ وسيطرة شركاتها المتعددة الجنسيات على القطاعات الاقتصادية. <p>الخاتمة: القوة الاقتصادية الأمريكية في خدمة مكانتها العالمية. ملاحظة: تقبل الإجابات الصحيحة الأخرى.</p>