

الجمهورية الجزائرية الديمقراطية الشعبية  
وزارة التربية الوطنية  
الديوان الوطني للامتحانات والمسابقات

امتحان بكالوريا التعليم الثانوي

دورة: 2024

الشعبة: علوم تجريبية، رياضيات، تقني رياضي، فنون

المدة: 03 سا و 30 د

اختبار في مادة: التاريخ والجغرافيا

على المترشح أن يختار أحد الموضوعين الآتيين:

الموضوع الأول

يحتوي الموضوع على صفتين (02) (من الصفحة 1 من 5 إلى الصفحة 2 من 5)

التاريخ:

الجزء الأول: (06 نقاط)

1) '... نظرا للسلطات التي حولها المجلس الوطني للثورة الجزائرية إلى لجنة التنسيق والتنفيذ، فإن لجنة التنسيق والتنفيذ قد قررت تكوين حكومة مؤقتة للجمهورية الجزائرية. وجاء في البيان الأول للحكومة المؤقتة بعد أن تعهدت بأن تبقى وفيّة للمبادئ السامية للثورة التحريرية، التي سطرها بيان أول نوفمبر، نددت بالسياسة الفرنسية الزامية إلى إدماج الشعب الجزائري بفرنسا...'.  
المرجع: محمد لحسن زغدي. مؤتمر الصومام وتطور ثورة التحرير الوطني الجزائرية (1962/1956). دار هومة للطباعة والنشر والتوزيع الجزائر. عام 2009. صفحة 191.

المطلوب: اشرح ما تحته خط في النص.

2) أكمل الجدول التالي:

التاريخ	الحدث
08 سبتمبر 1954	.....
.....	إضراب الطلبة المسلمين الجزائريين
13 أوت 1961	.....

الجزء الثاني: (04 نقاط)

لم يكن لينتهي صراع القطبين بعد الحرب العالمية الثانية، والذي استمر حتى عام 1989 دون أن تكون له انعكاسات مختلفة على مسار العلاقات الدولية.

المطلوب: انطلاقا من العبارة واعتمادا على ما درست، اكتب مقالا تاريخيا تبيّن فيه:

1) طبيعة الصراع بين القطبين.

2) انعكاساته على مسار العلاقات الدولية.

الجغرافيا:

الجزء الأول: (06 نقاط)

1) ... في ظلّ تمتّع الولايات المتحدة الأمريكية بتعداد سكاني كبير وارتفاع في النخل الفردي، فهي تُشكّل أكبر سوق استهلاكية في العالم... وهو ما يُميّز هذا الاقتصاد الذي يعتمد على الاستهلاك قبل الادّخار والاستثمار، كآلية لنفع مسيرة النمو الاقتصادي، ولذلك تتباينت مختلف الدّول على التصدير للولايات المتحدة الأمريكية... .

المرجع: المواقع الزاهنة للقوى في النظام الاقتصادي العالمي. قراءة في التقارير الدولية. مجلة المنياسة الدولية. العدد: 173. المجلد: 43. جويلية 2008. صفحة 57.

المطلوب: اشرح ما تحته خط في النص.

2) إليك جنولا يمتد قيمة تجارة البضائع للاتحاد الأوروبي مع بعض الشركاء التجاريين عامي 2021 و2022.

الوحدة: مليار دولار.

المنتجات	الوج. الأمريكية	الصين	روسيا	سويسرا	اليابان
2021	633.07	697.29	252.84	280.75	124.60
2022	867.99	856.91	258.52	333.47	141.55

المصدر: La Suisse et L'UE en chiffres. Statistiques relatives au commerce, à la population et au transport. Août 2023.P12.

المطلوب: مَسّ المعطيات الإحصائية الواردة في الجدول بأعمدة بيانية في مجال واحد بمقياس رسم:

1 سم لكل 80 مليار دولار.

1 سم لكل عمود.

الجزء الثاني: (04 نقاط)

يُتّيز التطور الاقتصادي الكبير الذي تعرفه منطقة شرق وجنوب شرق آسيا اهتمام الكثير، فرغم المعوقات التي تعترضها، إلا أنها حجزت لنفسها مكانة اقتصادية بين اقتصادات العالم. المطلوب: انطلاقاً من العبارة واعتماداً على ما درست، اكتب مقالا جغرافياً تبين فيه:

1) عوامل التطور الاقتصادي لمنطقة شرق وجنوب شرق آسيا.

2) المعوقات الداخلية التي تعترض اقتصادها.

انتهى الموضوع الأول

## الموضوع الثاني

يحتوي الموضوع على (03) صفحات (من الصفحة 3 من 5 إلى الصفحة 5 من 5)

التاريخ:

الجزء الأول: (06 نقاط)

(1) '... تعرض حلف شمال الأطلسي لمطّارِق نَقْدٍ عَنيفَةٍ انبجالت عليه من قِبَلِ الذول الاشتراكية ودول عدم الانحياز... فأما الذول الاشتراكية فنرى أن الحلف يناقِضُ في جوهره قضية السلام ومبادئ الأمم المتحدة... أما أنصار عدم الانحياز فإنهم يتعزّون على الحلف... أنه أكد انقسام العالم إلى كتلتين متناهضتين... ولأنه يدعو إلى السباق نحو التسلح... ولأنه استخيم في تدعيم الاستعمار وقمع الحركات التحررية...'

المرجع: د/ محمد عزيز شكري. الأحلاف والتكتلات في السياسة العالمية.

عالم المعرفة 07. صفحة 42.

المطلوب: اشرح ما تحته خط في النص.

(2) على خريطة العالم المرفقة، وقّع دولتين من دول حلف شمال الأطلسي ودولتين من دول حركة عدم

الانحياز.

الجزء الثاني: (04 نقاط)

اعتمدت الثورة الجزائرية عبر مراحل كفاحها على استراتيجية داخلية وخارجية، فداخليا اعتمدت على مخططات عسكرية أفضلت بها كل استراتيجيات المستعمر في القضاء عليها، وخارجيا على نشاط دبلوماسي عزفت به العالم بالقضية الجزائرية وأكسبها تأييدا دوليا.

المطلوب: انطلاقا من العبارة واعتمادا على ما درست، اكتب مقالا تاريخيا تبين فيه:

(1) المخططات العسكرية التي اعتمدت عليها الثورة داخليا.

(2) وسائل التعريف بالقضية الجزائرية خارجيا.

اختبار في مادة: التاريخ والجغرافيا // الشعبة: علوم تجريبية، رياضيات، تقني رياضي، فنون // بكالوريا 2024

الجغرافيا:

الجزء الأول: (06 نقاط)

(1) "... أصبح الاتحاد الأوروبي ساري المفعول ابتداء من سنة 1993 طبقا لمُقْتَضِيَّاتِ معاهدة ماستريخت... حيث عمل على تحرير عمليات الدفَع وحركة رؤوس الأموال بين الدول الأعضاء، وزيادة التعاون بين الهيئات العامة، ومزيدا من التَّطابق في السِّيَاسة الاقتصادية... داخل المجموعة الأوروبية وصولا إلى إنشاء البنك المركزي الذي يقوم برسم السِّيَاسة النقديّة وإصدار العملة الموحدة... ثم تابعت الدول الأوروبية عملية الاندماج والوحدة وضمّ دول جديدة من أوروبا الشَّرقيّة..."

المرجع: وليد إبراهيم حذيفة. القوى الاقتصادية الصاعدة في ظلّ العولمة. (2015/2014). صفحة 46.

المطلوب: اشرح ما تحته خطّ في النّص.

(2) إليك جدولا يمثّل نسبة مساهمة بعض الدّول في إنتاج الغاز الطبيعي في العالم عام 2022.

الدول	الو.م. الأمريكية	روسيا	إيران	الصين	كندا	قطر	م.ع.السعودية	الجزائر
النسبة %	24.2	15.3	6.4	5.5	4.6	4.4	3.0	2.4

المصدر: Source: The Energy Institute Statistical Review of World Energy 2023.

المطلوب: علّق على المعطيات الإحصائيّة الواردة في الجدول.

الجزء الثاني: (04 نقاط)

يتظاهر عالم الشّمال (المتقدّم) بمساعدة عالم الجنوب (المتخلف) للخروج من دائرة التخلف، إلّا أنّ الواقع يُشير أنّه يريد بقاءه على حاله لاستغلال ثرواته الهائلة خدمة لاقتصاده.

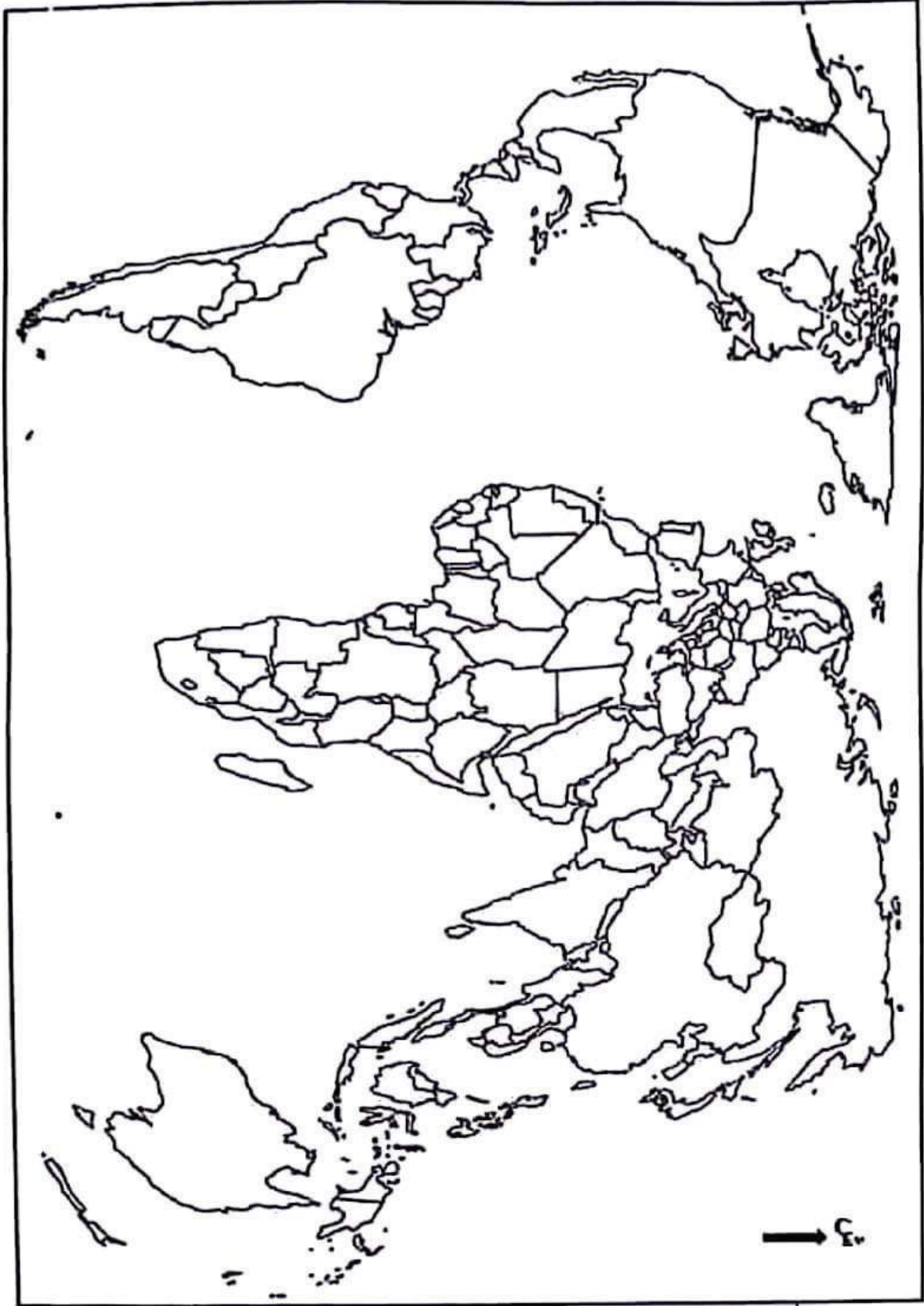
المطلوب: انطلاقا من العبارة واعتمادا على ما درست، اكتب مقالا جغرافيا تبين فيه:

(1) مظاهر التّخلف الاقتصاديّة لعالم الجنوب.

(2) أهميّة عالم الجنوب الاقتصاديّة بالنسبة لعالم الشّمال.

اختيار في مادة: التاريخ والجغرافيا // الشعبة: علوم تجريبية، رياضيات، تقني رياضي، فنون // بكالوريا 2024

الخريطة تابعة للموضوع الثاني (تاريخ). خريطة العالم



انتهى الموضوع الثاني

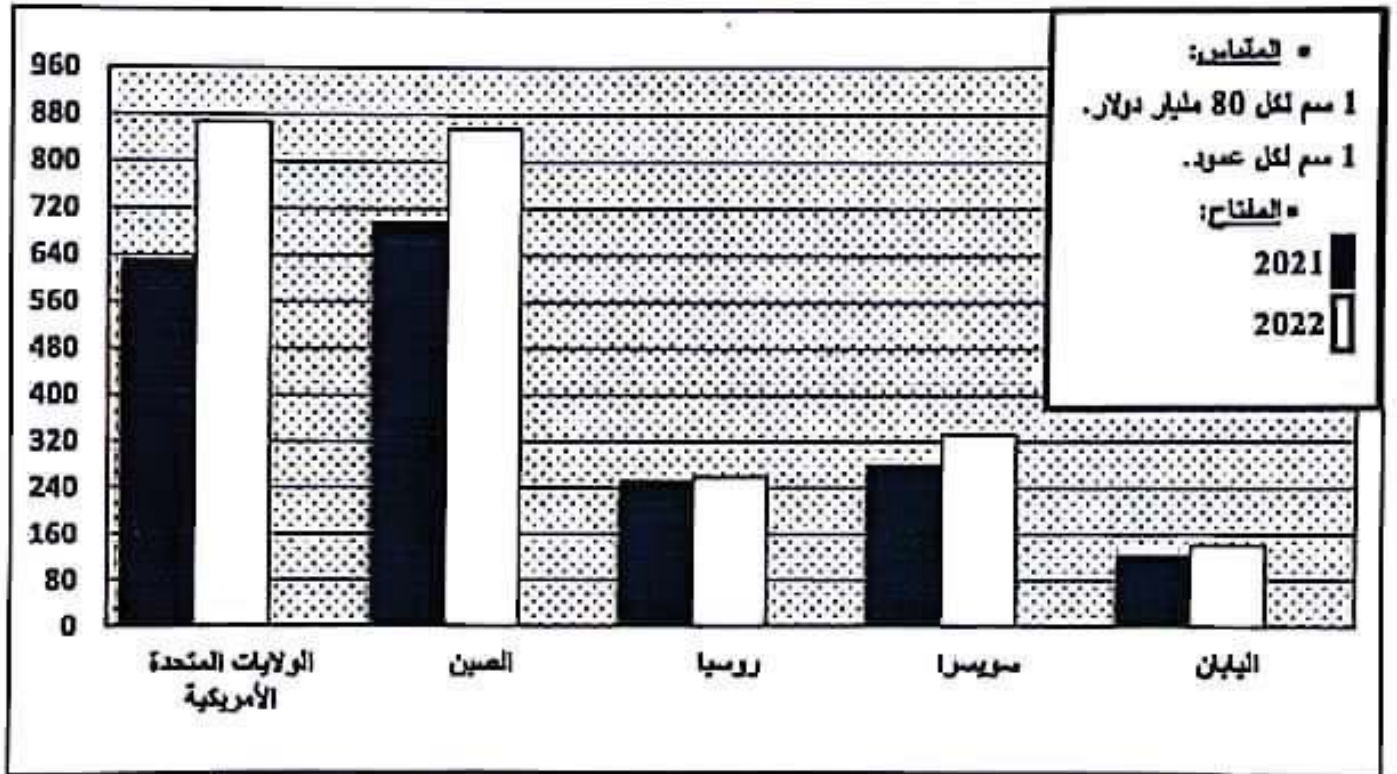
ينجز العمل المطلوب على الخريطة وتعاد مع أوراق الإجابة



		<u>الجزء الثاني:</u>
		<u>الجزء الأول:</u>
		(1) <u>شرح ما تمتع خط في النص:</u>
06	01	• <u>النظر الثوري:</u> نصيب الفرد من الثروة المتدفقة في بلد ما خلال سنة، يُعرب بتقسيم الناتج (الدخل) الوطني الخام على عدد سكان ذلك البلد، ويحسب بالدولار وهو مؤشر دال على مستوى المعيشة...
	01	• <u>سوق استهلاكية:</u> فضاء يلتقي فيه عارضو السلع والخدمات مع المشتريين وتتم فيه عملية البيع والشراء...
	01	• <u>النمو الاقتصادي:</u> التمسك والتطور الذي يحدث في اقتصاد دولة ما على مجموعة من المؤشرات وتشمل كل القطاعات (الزراعة، الصناعة، الخدمات) مثل الزيادة في الناتج الداخلي...
		(2) <u>تشمل التالي: (أربعة ملئمة).</u>
	03	*المزولن: 0.50 *المفتاح: 0.50 *المقياس: 0.50 *الإجتاز: 01.50 ملاحظة: - يقبل التمثيل البياني في حالة الفصل بين عمودي الصادرات والتوريدات.
		<u>الجزء الثاني:</u>
	0.50	<u>مقدمة:</u> منطقة شرق وجنوب شرق آسيا بين عوامل قوة اقتصادها والمعوقات التي تعترضه. (تقبل كل مقدمة وتقييمية)
		(1) <u>عوامل التطور الاقتصادي لمنطقة شرق وجنوب شرق آسيا:</u>
		• الوزن التيمغرافي للمنطقة (سوق استهلاكية واسعة، يد عاملة كبيرة تتميز بالانضباط والإتقان في العمل...).
		• التطور التكنولوجي الكبير وسرعة تكيف الفرد الآسيوي مع التكنولوجيات الحديثة...
		• تعلق رؤوس أموال العمال المهاجرين...
04	0.25 6*	• الانفتاح على الاقتصاد العالمي واستقطاب الاستثمارات الأجنبية... • تشابه التذائف مثل عملية الاندماج والتكامل (الآسيان)...
		• وفرة البنية التحتية مثل السواحل والأساطيل البحرية...
		(2) <u>المعوقات الداخلية التي تعترض اقتصادها:</u>
		• تدني مستوى التقدم بين دول المنطقة .
		• التسلسل الداخلي بين بلدان المنطقة.
		• افتقار المنطقة للموارد الطبيعية...
		• تعرض المنطقة لكوارث طبيعية (فيضانات، زلازل، أعاصير...).
		• انتشار ظاهرة التلوث البيئي...
		• الصدمات المالية مثل أزمة 2007-2008 باندونسيا.
	0.50	<u>خاتمة:</u> تزدهر منطقة شرق وجنوب شرق آسيا تقنيا رغم المعوقات التي تعترضها. (تقبل كل خاتمة وتقييمية) (تقبل كل الإجابات الصحيحة الأخرى)

أعد بياناً تمثل قيمة تجارة البضائع في الاتحاد الأوروبي مع بعض الشركاء التجاريين عامي 2021 و2022.

مليار دولار



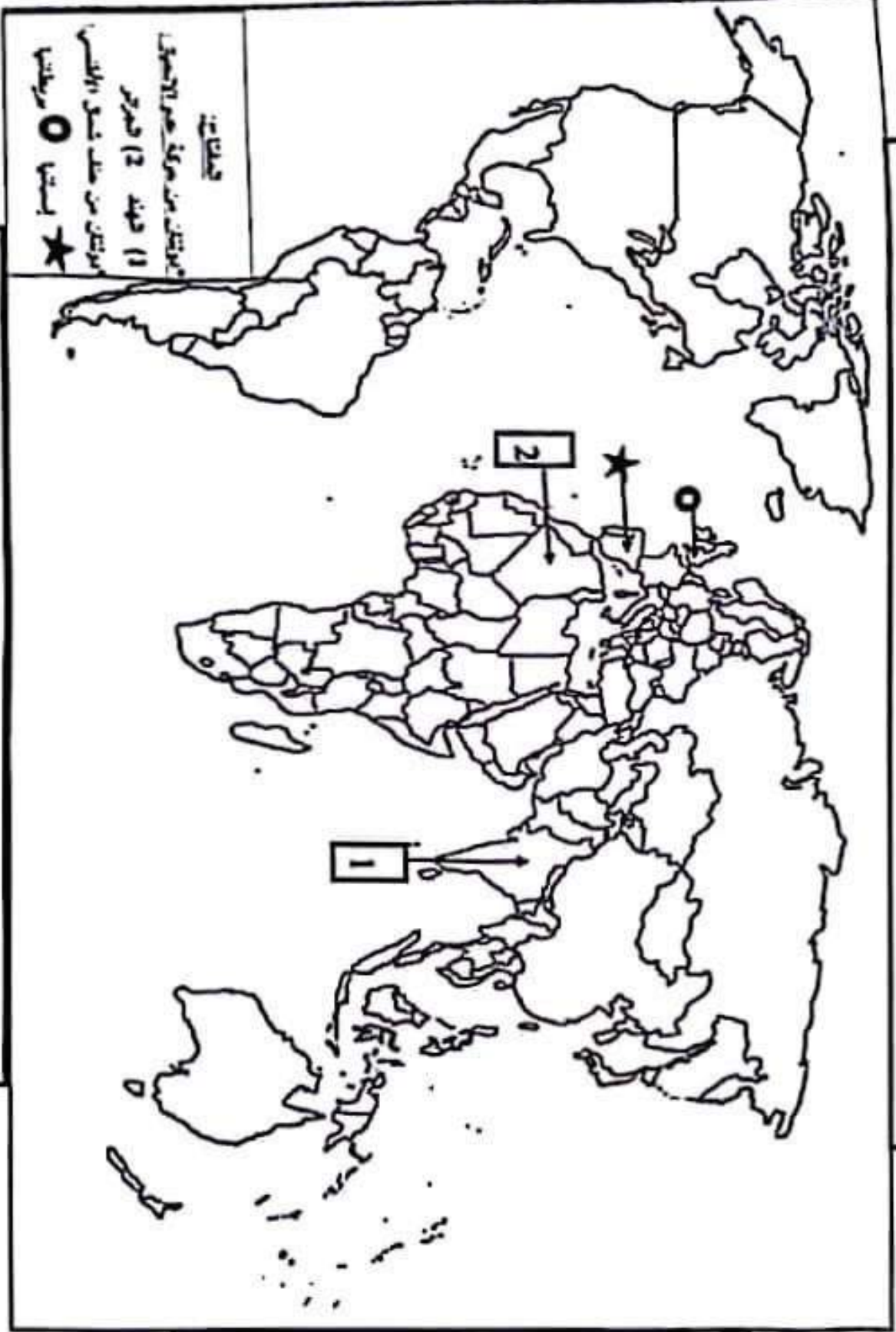
ملاحظة: يقبل التمثيل البياني في حالة الفصل بين عمودي الصادرات والواردات.

الملاحظة		عناصر الإجابة: (الموضوع الثاني)
مجموع	مجازة	
06	01	<p><b>التاريخ:</b> <b>الجزء الأول:</b> <b>(1) توج ما تحته خط في النص:</b>                      * <b>الأمر المتعدد:</b> هيئة دولية تأسست عام 24 أكتوبر 1945، مقرها نيويورك (و.م.أ) تتكون من عدة أجهزة أهمها الجمعية العامة، مجلس الأمن الدولي وسحكمة العدل الدولية، هدفها تحقيق السلم والأمن في العالم...                      * <b>عدم الاتصاف:</b> سياسة ظهرت أثناء الحرب الباردة، شنتها مجموعة من الدول الإفريقية والآسيوية حديثة الاستقلال وتضي عم الميل إلى أحد المسكرين المتصارعين الشرقي أو الغربي...                      * <b>التسابق نحو الفضاء:</b> استراتيجية عسكرية انتهجتها الولايات خلال الحرب الباردة، تقوم على إنتاج وتطوير أسلحة الفضاء تشمل (الأسلحة النووية والهيدروجينية...) بهدف انتشار أمنها على الأخر...</p>
	01	<p><b>(2) توضح على الخريطة:</b>                      * العنوان: 0.50 * الملتاح: 0.50 * الإحداثيات: 02 = 4 = 0.50  <b>[ملاحظة: تامل كل الدول الأخرى التي تتسم بخصائص مشابهة لتلك التي تتسم بحركة عدم الاتصاف.]</b></p>
	03	<p><b>الجزء الثاني:</b> <b>مقدمة:</b> الثورة الجزائرية بين تنفيذ مخططاتها العسكرية داخلها ووساط التعرف بها خارجها. (تامل كل مقدمة وقلمية) <b>(1) المخططات العسكرية التي اعتمدت عليها الثورة داخلها:</b>                      * تجنب الموازية المباشرة مع المستعمر لعدم تساوي القوتين. ( اعتماد حرب الكف والتف والكمائن )                      * اشراك الشعب في العمليات العسكرية ضد العدو (عمليات الشمال لتسطيني 1955/8/20) وتوسيع نطاق الثورة عبر كل أرجاء الوطن لتشتت لوقت العدو.                      * تصخير وحدت جيش التحرير الوطني لمواجهة المخططات العسكرية الفرنسية (مخطط شال 1959).                      * تنظيم جيش التحرير الوطني بتحديد المسؤوليات والتزمت والمهام بموجب قرارات مؤتمر الصومام 1956/8/20                      * نقل الثورة من الأرياف إلى المدن (معركة الجزائر 1957).                      * تقسيم الجزائر إلى مناطق ولايات عسكرية للتسيق ولتنظيم للثورة.</p>
04	0.50	<p><b>(2) وساط التعرف بالفضة الجزائرية خارجها:</b>                      * تشكيل الوفد الخارجي للتعرف بالثورة                      * فتح مكاتب دبلوماسية للثورة في الدول الصديقة والشقيقة.                      * تأسيس حكومة المؤقتة في 1958 في القاهرة (مصر).                      * المشاركة في المعاق الدولية (مؤتمر بانكوك عام 1955...)                      * اندراج القضية الجزائرية في الثورة المشتركة لبيئة الأمم المتحدة عام 1955/9/30.                      * تأسيس إذاعة صوت الجزائر في القاهرة وتأسيس وكالة الأنباء الجزائرية.                      * فتح قنوات للثورة تحقق بنسب كامل العمل الداخلي والخارجي. (تامل كل مقدمة وقلمية)</p>
	0.25	<p><b>(تامل كل الإجابات الصحيحة الأخرى)</b></p>
	6*	

		<u>الجواب الأول:</u>
		<u>(1) شرح ما تحته خط في النص:</u>
	01	• <u>معاهدة ماستريخت:</u> ضمت في مدينة ماستريخت بهولندا 07 فبراير 1992، أعلن فيها عن تحوّل النسبية من المجموعة الاقتصادية الأوروبية إلى الاتحاد الأوروبي، دخلت حيز التنفيذ في 1 نوفمبر 1993، تقرر فيها الاتفاق على توحيد العملة (الأورو).
	01	• <u>حركة بلوجيا الأموال:</u> حرية انتقال رؤوس الأموال عن طريق البنوك والاستثمارات والمبادلات التجارية المستوعبة بين الدول دون قيود حكومية أو عراقيل إدارية...
	01	• <u>الإلتحاق:</u> أعلى درجات التكامل فيه تصير الدول المتكيفة في سياسة التضامنية واحدة على (دول الاتحاد الأوروبي) وتقوم على التعاون والتكامل بهدف تحقيق وحدة سياسية والتضامنية والرفاهية للشعوب...
06		<u>(2) اشرح على المعطيات الإحصائية الواردة في الجدول:</u>
	0.50	• <u>التقسيم:</u> الوثيقة جغرافية للتضامنية عبارة عن جدول احصائي تمثل نسبة مساهمة بعض الدول في إنتاج الغاز الطبيعي في العالم عام 2022 مسودها The Energy Instutical Review of World Energy 2023.
	0.50	• <u>التعليق:</u> نلاحظ نسب مساهمة الدول الواردة في الجدول في إنتاج الغاز الطبيعي
	0.50	- تتصدر الولايات المتحدة الأمريكية قائمة الدول المنتجة بحوالي ربع الإنتاج العالمي لمساهمة الاحتياطيات وضخامة الاستثمارات وتقنياتها التكنولوجية.
	0.50	- تأتي روسيا في المرتبة 2 بأكثر من 15% لمساهمة الاحتياطيات وضخامة الاستثمارات وتقنياتها التكنولوجية.
	0.50	- تتوزع الدول المنتجة للغاز الطبيعي الأخرى الواردة في الجدول بين دول متقدمة ودول مساعدة ودول نامية تختلف في قدراتها الإنتاجية لاختلاف التطور التكنولوجي والاختلاف احتياطياتها...
	0.50	• <u>الاستنتاج:</u> تسيطر الدول الواردة في الجدول على 65.9% من الإنتاج العالمي للغاز الطبيعي...
		<u>الجزء الثاني:</u>
	0.50	• <u>مقدمة:</u> عالم الجنوب بين تفلئه الاقتصادي وبين خدمته للاقتصاد عالم الشمال. (تقبل كن مقدمة وطلبية)
		<u>(1) مظاهر التفاوت الاقتصادية لعالم الجنوب:</u>
		• تبعيته للعالم المتقدم في مختلف المجالات...
		• ضعف الدخل القومي والفردي وارتفاع حجم المديونية في معظم بلدانه...
		• اختلال التوازن بين النمو السكاني والإنتاج الزراعي والصناعي وغياب الاكتفاء الذاتي والأمن الغذائي.
		• ضعف الاستثمار المحلية في مختلف القطاعات.
		• اعتماد بلدانه على الصناعة الاستخراجية.
		• ضعف التكنولوجيا والبحث العلمي...
		<u>(2) أهمية علم الجنوب الاقتصادية بالنسبة لعالم الشمال:</u>
	0.25	• مصدر مهم للثروات الطبيعية المنتزعة (طالوية، معدنية...).
	6*	• مصدر مهم لجلب البذ العاملة منخفضة الأجر...
		• سوق استهلاكية واسعة.
		• سوق مهم لاستثمار رؤوس الأموال لوفرة البذ العاملة والمواد الأولية...
	0.50	• مصدر لاستقطاب الأمتنة (هجرة الأمتنة) ...
		• سوق هامة لتوظف شركاته متخذة الجسبات...
		• <u>خاتمة:</u> استغلال عالم الشمال لعالم الجنوب كمرس مظاهر التفاوت فيه. (تقبل كن خاتمة وطلبية)

رخصة تابعة لموضوع تلميذ (تاريخ)

خريطة العالم



التوقيع على خريطة العالم دولتين من دول حلف شمال الأطلسي ودولتين من دول حركة عدم الانحياز.

(ملاحظة: تظن عن الدول الأخرى التي تنتمي لحلف شمال الأطلسي والتي تنتمي لحركة عدم الانحياز.)

ينجز العمل المطلوب على الخريطة وتعاد مع أوراق الإجابة