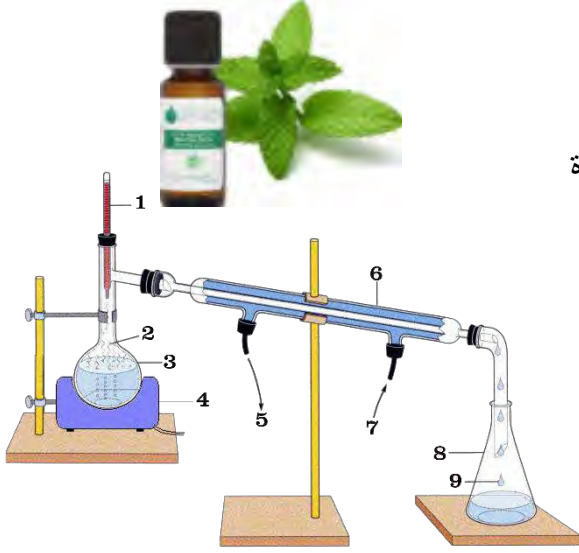


التمرين الأول

زيت النعناع الفلفلي يستعمل في صناعة الادوية ومعجون الاسنان وحتى العلكة؛ لإستخراج زيت النعناع، نضع أولا 10g من النعناع المقطع في 200ml من الماء مع اضافة حجر الخفان في التجهيز المقابل و نسخن لمدة 40 د فنحصل على قطارة متكونة من زيت النعناع المنحل في الماء.



1- ما اسم هذه العملية ؟

2- اعط بيانات الرسم .

3- لإستخلاص الزيت من الماء نستعمل مذيب و بالإعتماد على الجدول التالي:

	الكثافة	الامتزاج مع الماء	انحلالية زيت النعناع	درجة الغليان
الطولوين	0.87	لا	ضعيفة	110.6
الايثانول	0.79	نعم	جيدة	78.4
الايثر	0.71	لا	جيدة	35

- ما هو المذيب المناسب ؟ علل

4- لعملية الاستخلاص نستعمل أحد الجهازين؛ - ما هو الجهاز المناسب

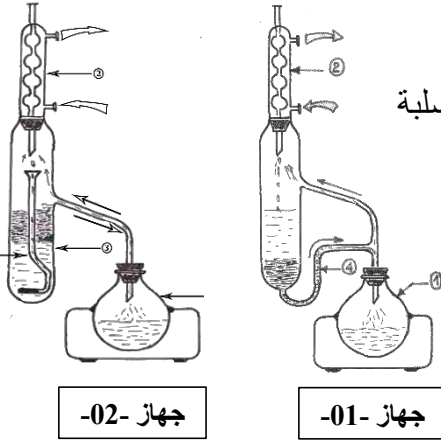
لهذه العملية ؟ برر اجابتك

5- للتخلص من بقايا الماء نضيف كمية من كبريتات المغنسيوم $MgSO_4$ اللامائية الصلبة التي تمتص الماء و لا تنحل في زيت النعناع.

- ما نوع المزيج المتحصل عليه ؟

- ماهي العملية المناسبة لفصلهما ؟

- ارسم هذه العملية مع ذكر البيانات.



جهاز -02-

جهاز -01-

التمرين الثاني

- لتحضير 1L من محلول قياسي S_1 من حمض النتريك HNO_3 نأخذ حجم قدره 20.64ml من القارورة التجارية التي

تحتوي على المعلومات التالية : ($d=1.41$. 65% . $63g/mol$)

1- احسب التركيز المولي للمحلول S_1 ثم إستنتج تركيز شوارده.

2- اذكر الأدوات اللازمة لتحضيره.

- الامونياك NH_3 يستعمل لتحضير الاسمدة الفلاحية و لتحديد تركيزه نعايره بواسطة محلول S_1 لحمض النتريك

3- ماهي الطبيعة الكيميائية للامونياك ؟ ما نوع هذه المعايرة ؟

4- اكتب معادلة انحلاله في الماء.

5- اكتب معادلة التفاعل

- عايرنا 20ml من الامونياك بواسطة المحلول S_1 فلزم منه حجم قدره 12ml بوجود الكاشف المناسب

5- ما هو الكاشف المستعمل ؟

6- احسب التركيز المولي للامونياك و استنتج نظاميته ثم تركيزه الكتلي.

7- احسب الارتياب النسبي على تركيز الامونياك مع الكتابة الصحيحة.

يعطى: $\Delta N_{HNO_3}=0.001$ $\Delta V_{burette}=0.05ml$ $\Delta V_{pipette}=0.02ml$

$N=14g/mol$ $H=1g/mol$ $O=16g/mol$

التمرين الثالث

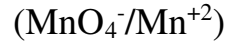


وصف الطبيب لشخص يعاني من الانيميا دواء Timoferol الغني بالحديد، المقدار على العبوة 50mg للكبسولة من الحديد الثنائي.

- نذيب كبسولة في حوالة عيارية 50ml و ليكن المحلول S.
نعاير 10ml من المحلول S بواسطة برمنغنات البوتاسيوم تركيز $2.5 \times 10^{-3} \text{ mol/L}$ مع إضافة قطرات من حمض الكبريت المركز فكان الحجم المقروؤ من السحاحة هو 14.4ml

- 1- اكتب المعادلتين النصفيتين للأكسدة و الإرجاع ثم المعادلة الاجمالية للتفاعل الحاصل؟
- 2- ارسم التجهيز المناسب لهذه المعايرة.
- 3- احسب التركيز المولي لشوارد الحديد الثنائي في المحلول S.
- 4- استنتج التركيز الكتلي للحديد الثنائي للمحلول S.
- 5- اوجد كتلة الحديد الموجودة في العينة التي عايرناها، قارنها مع القيمة المشار اليها في العبوة

$$M_{\text{Fe}} = 55.8 \text{ g/mol}$$



$$\text{تعى : } (\text{Fe}^{+3} / \text{Fe}^{+2})$$

بالتوفيق للجميع