

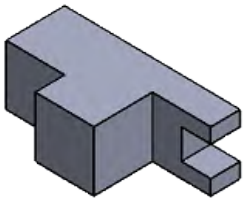
اجب بوضع علامة (x) في المكان المناسب :

- | خاطئ | صحيح | |
|--------------------------|--------------------------|---|
| <input type="checkbox"/> | <input type="checkbox"/> | ● مراحل المسعى التكنولوجي هي : فرضية و تجربة و ملاحظة ثم استنتاج |
| <input type="checkbox"/> | <input type="checkbox"/> | ● نقوم بتمثيل المسقط الجانبي الأيمن على يمين المسقط الأمامي حسب الطريقة الأوروبية |
| <input type="checkbox"/> | <input type="checkbox"/> | ● تصنف المؤسسات حسب الحجم الى مؤسسات كبيرة و صغيرة و ذات أسهم |
| <input type="checkbox"/> | <input type="checkbox"/> | ● تتم دراسة و انجاز و مراقبة المنتج في المصلحة التقنية |
| <input type="checkbox"/> | <input type="checkbox"/> | ● الرسم التقني وسيلة اتصال عالمية بين ميع العاملين في مجال الصناعة و الانتاج |

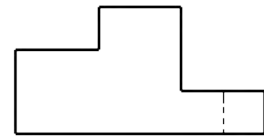
السؤال الثاني : أتمم الجدول التالي

المقياس	نوع المقياس	البعد الحقيقي	البعد المرسوم
5 : 1		10	
		50	50
1:2		100	

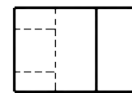
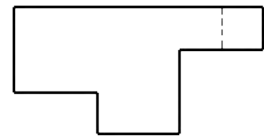
السؤال الثالث : ضع الحرف المناسب في المكان المناسب لتحصل على توزيع المساقط الصحيح



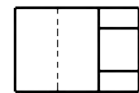
A



B



C



D