



## مديرية التربية لولاية سطيف



قسم 1 ج م ع ت

فرض الثلاثي الأخير

ثانوية الشهيد لولو علي

المدة : ساعتين

السنة 2025-2024

الأستاذ مريخي

العلامة:

الاسم:

اللقب:

1-صنف المؤسسات الاتية حسب نوع الإنتاج:

	ثانوية الشهيد لولو علي
	المستشفى
	المؤسسة الوطنية للسكك الحديدية
	شركة فولقسفاقن للسيارات
	شركة كوكاكولا للمشروبات
	صيدلية

2-أكمل الجدول التالي:

المقياس	البعد الحقيقي	البعد المرسوم
1:4	100	
	30	70
1:1		33

3-أجب بصحيح أو خطأ:

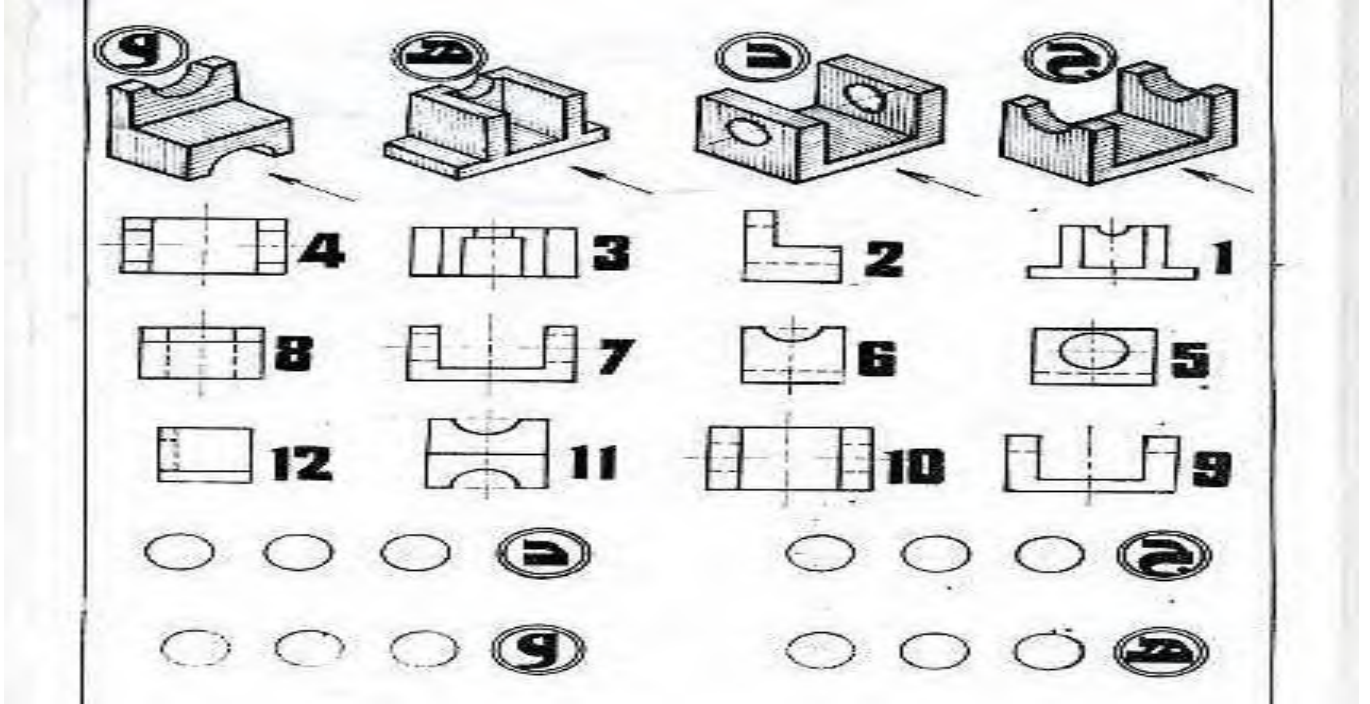
يمثل جدول التعيينات في الرسم التعريفي .....

المقاس A1 أكبر من المقاس A3 .....

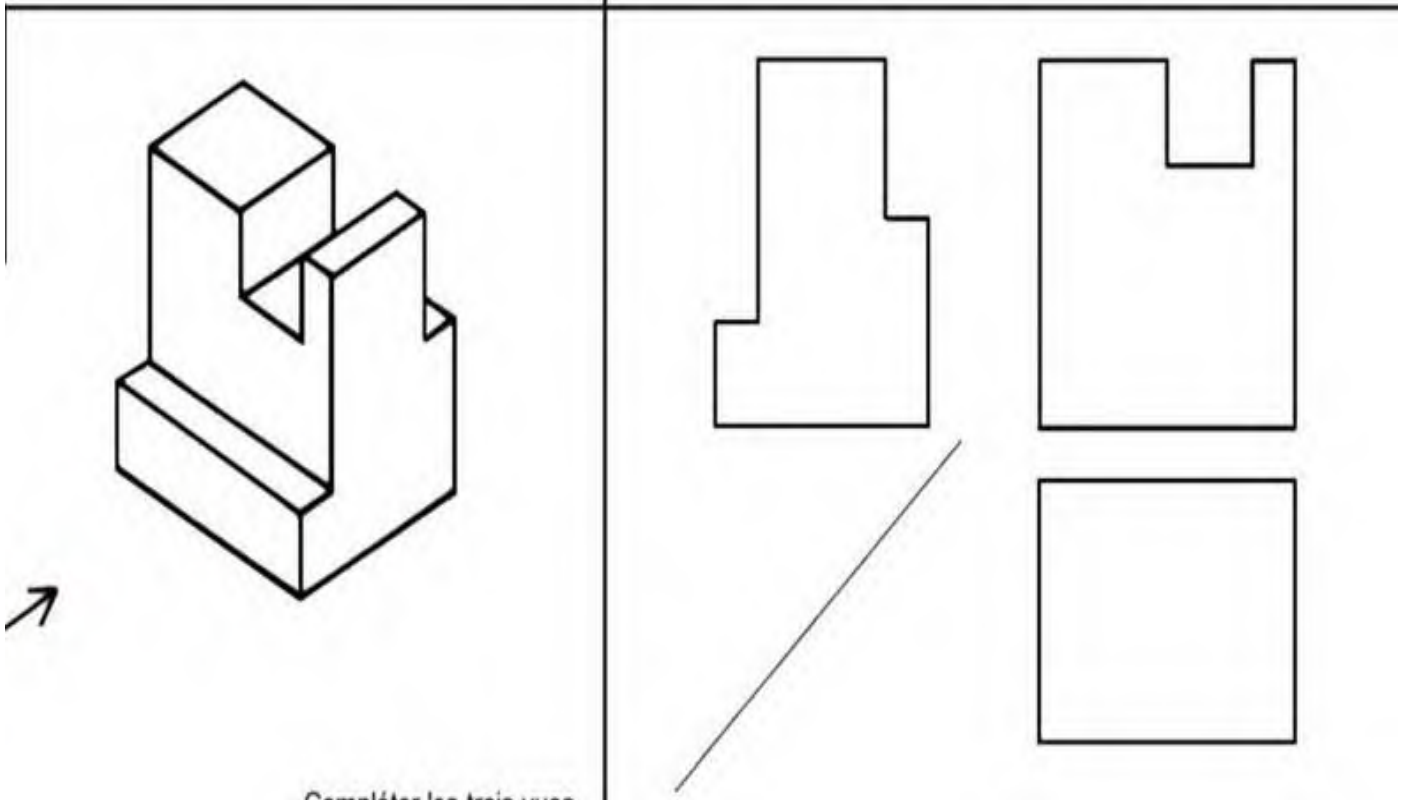
1:5 هو مقياس تكبير .....

يحتوي جدول التسجيل على اسم المصمم .....

اتجاه السهم يمثل المسقط الأمامي في الرسم المنظوري أوجد ورقم الثلاث مساقط لكل رسم



أكمل المساقط مستعينا بالرسم المنظوري المقابل



التصحيح النموذجي

ثانوية الشهيد لولو علي  
 فرض الثلاثي الأخير  
 قسم 1 ج م ع ت  
 الأستاذ مريخي  
 السنة 2024-2025  
 المدة :

اللقب: الاسم: العلامة:

1-صنف المؤسسات الاتية حسب نوع الإنتاج:

مؤسسة خدمتية	ثانوية الشهيد لولو علي
مؤسسة خدمتية	المستشفى
مؤسسة خدمتية	المؤسسة الوطنية للسكك الحديدية
مؤسسة انتاجية	شركة فولقسفاقن للسيارات
مؤسسة انتاجية	شركة كوكاكولا للمشروبات
مؤسسة تجارية	صيدلية

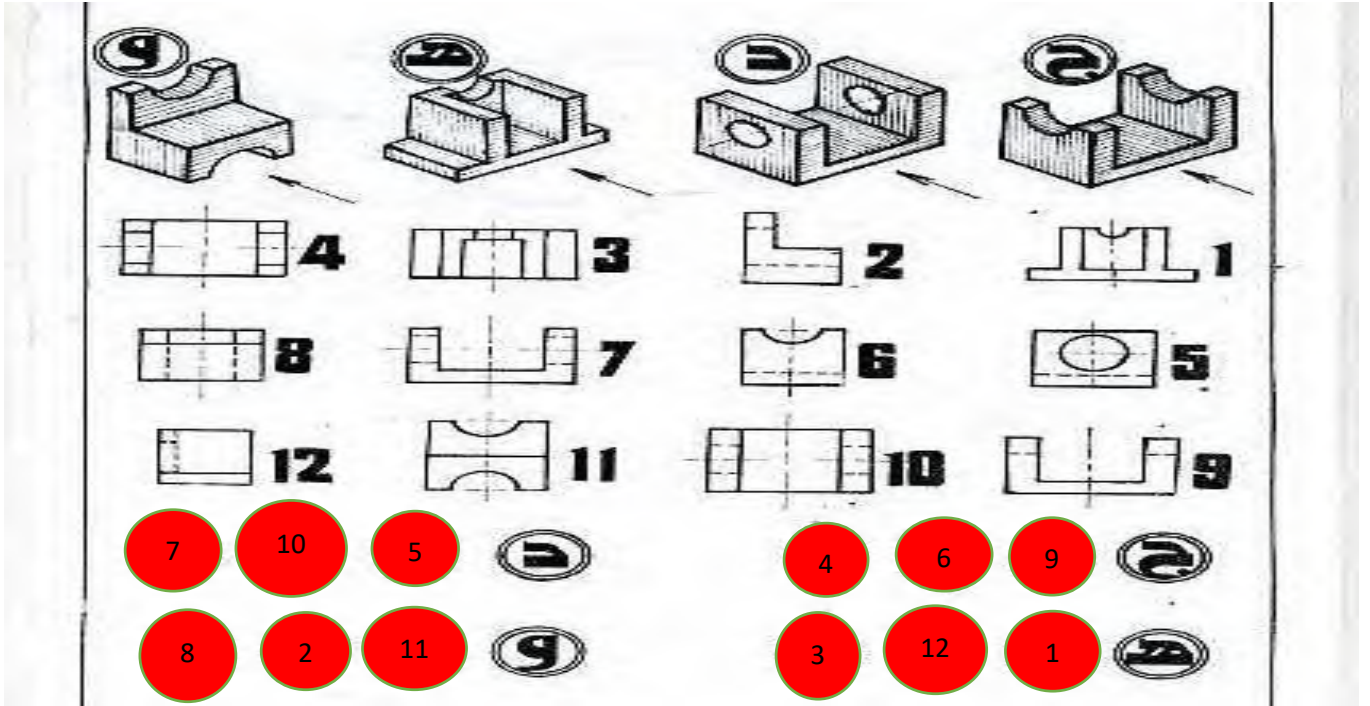
2-أكمل الجدول التالي:

المقياس	البعد الحقيقي	البعد المرسوم
1:4	100	25
7:3	30	70
1:1	33	33

3-أجب بصحيح أو خطأ:

- يمثل جدول التعيينات في الرسم التعريفي ..خ.....
- المقاس أكبر من المقاس ص.....
- 1:5 هو مقياس تكبيرى .خ.....
- يحتوي جدول التسجيل على اسم المصمم ص.....

اتجاه السهم يمثل المسقط الأمامي في الرسم المنظوري أوجد ورقم الثلاث مساقط لكل رسم



أكمل المساقط مستعينا بالرسم المنظوري المقابل

