

ثانوية الشيخ احمد ديدي
تمنيط

يوم: 2024/02/29

اختبار التكنولوجيا للفصل الثاني

مادة: هندسة ميكانيكية

السنة: الأولى علوم

الاسم و اللقب: قسم: الرقم:



مقدمة تستعمل الملزمة الشكل 1 في ورشات التلميم ونجارة
الألمنيوم من اجل تثبيت القطع بين الفكين 1 و 2 للقص أو التنقيب
وتقتنى من محلات خاصة أو عن طريق الطلب من الشركات
المصنعة لهذه المعدات
المطلوب (3ن)

1- صنف المؤسسات المذكورة حسب طبيعة النشاط ؟

المؤسسة	تصنيفها

2- الرسم التقني. (7ن)

A- اذكر انواع الرسومات التالية

• الرسم 1

• الرسم 2

• الرسم 3

B- ماذا يمثل كل من

الاسهم التالية

• السهم 1

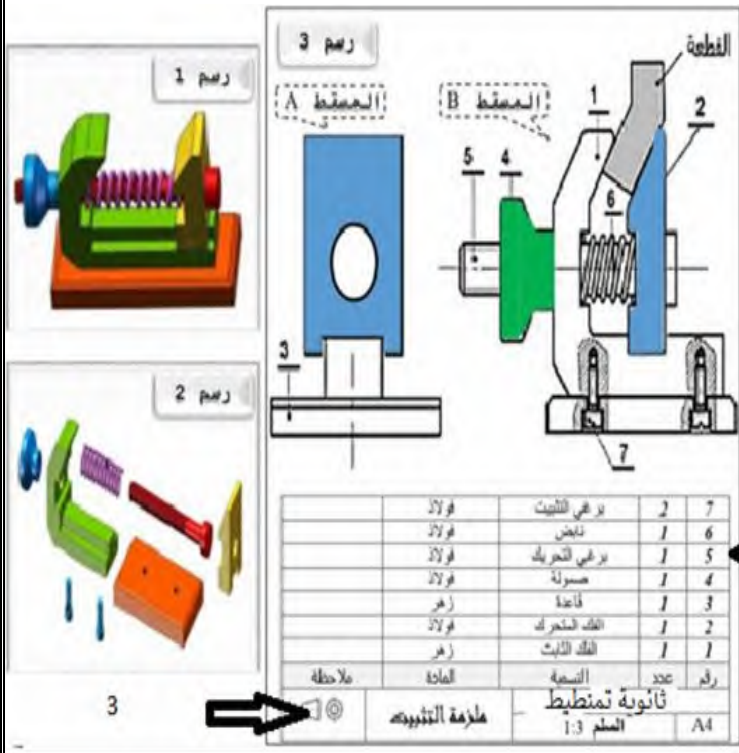
• السهم 2

• السهم 3

C- ماهو السلم المستعمل

في الرسم.

.....



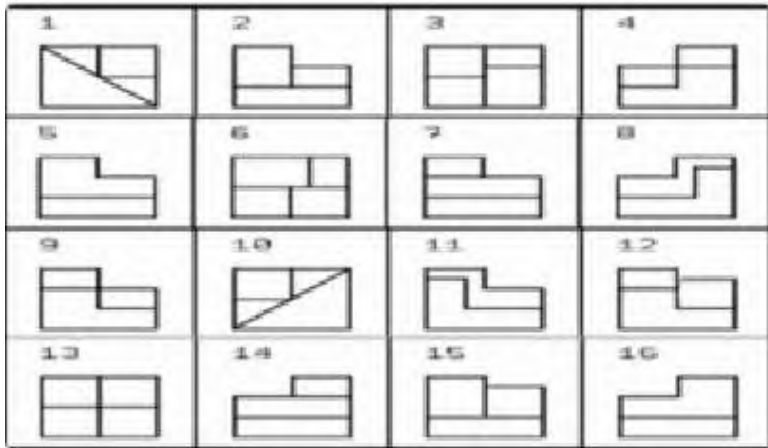
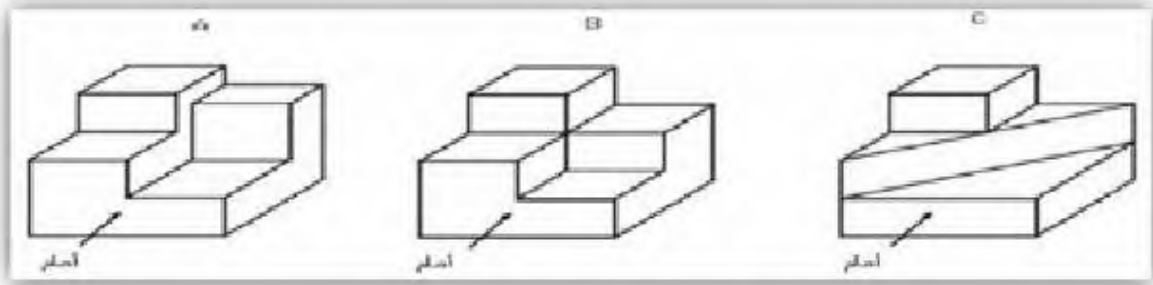
الإسقاطات العمودية الجانب التطبيقية (10ن)

التمرين الاول

تأمل القطع ثلاثية الابعاد A.B.C التالية.

1- لون على الرسم المنظوري بالاحمر الوجه الامامي والازرق الوجه العلوي.

2- اكتب على الجدول الارقام الممثلة للمسقط . الوجه الامامي و العلوي والايمن.



الجدول

القطعة	المسقط الامامي	المسقط العلوي	المسقط اليمينى
A
B
C

التمرين الثانى

1- اتمم مساقط القطعة مع تسمية كل مسقط.

2- ماهو شكل هذه

القطعة.

