

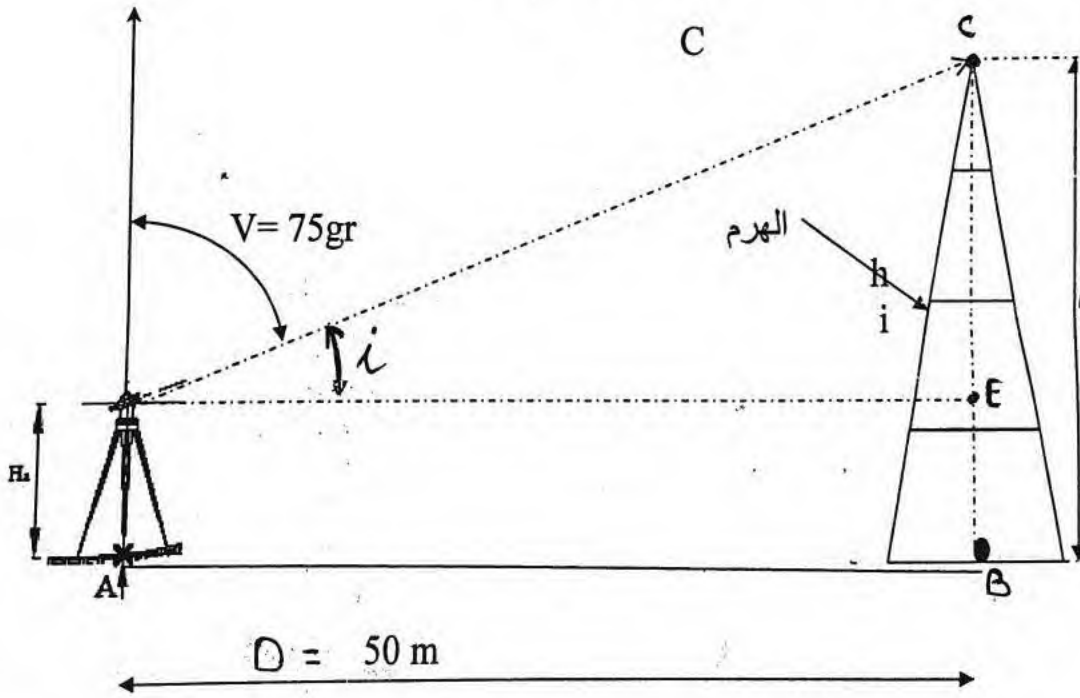
اختبار الجهل الثاني تكنولوجيا هندسة مدنية

السؤال الأول: (2ن) ماذا نقصد ب:

- 1- القياس غير المباشر للمسافات ؟
- 2- التسوية المباشرة وغير المباشرة ؟
- 3- ماهو مبدأ التحليل الجيبي ؟

التمرين الأول: (5ن)

-لاحظ الشكل التالي واحسب ارتفاع هذا الهرم h

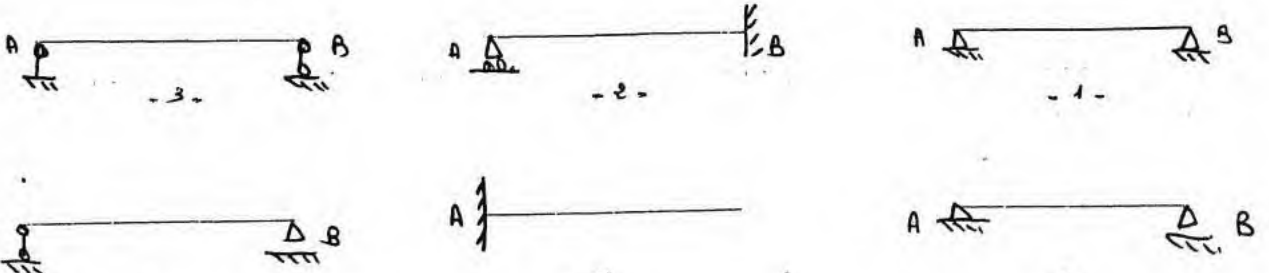


$$H_a = 1.50 \text{ m}$$

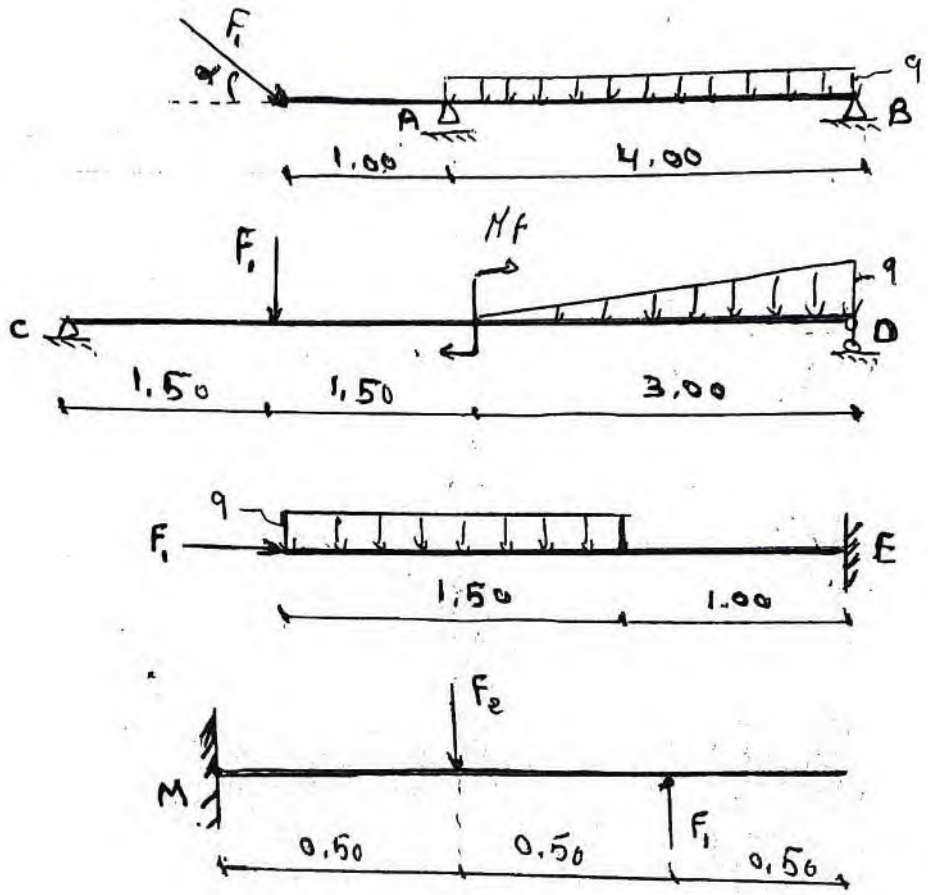
A و B لهما نفس المنسوب. الجهاز المستعمل: المزولة theodolite.

التمرين 2: (3ن)

الك مجموعة من الروافد مستندة على مجموعة من المساند المطلوب حدد الروافد المحددة سكونيا من غيرها مع تمثيل ذلك على الرسم؟



التمرين 3 (10 ن)
 اليك مجموعة من روافد مستندة على مساند مختلفة وتحت تأثير مجموعة من القوى الخارجية :



المطلوب : أحسب ردود الأفعال عند المساند: A, B, C, D, E

في كل الحالات:

$$q = 200 \text{ daN/m}$$

$$F_1 = 40 \text{ daN}$$

$$F_2 = 80 \text{ daN}$$

$$M_F = 60 \text{ daN.m}$$

$$\alpha = 30^\circ$$

بالتوفيق