



## مادة التاريخ

### الجزء الاول : (06 ن).

1- اشرح المصطلحات التالية:

- \* وثيقة إعلان الاستقلال \* آل بوربون \* عريضة ملتمس الحقوق .

2- ضع الإطار الزمني للأحداث التالية:

الإطار الزمني للحدث	الحدث
	معركة يورك تاون
	اقتحام سجن الباستيل
	وثيقة إعلان حقوق الإنسان والمواطن

### الجزء الثاني : (04 ن).

سند رقم 01 : "مصطلح يطلق على فترة الانتقال من العصور الوسطى إلى العصور الحديثة وهي القرون 14-16 م ، ويؤرخ لها بسقوط القسطنطينية 1453 ، حيث نزح العلماء إلى ايطاليا حاملين معظم تراث اليونان والرومان ، كما يدل مصطلح عصر النهضة على التيارات الثقافية والفكرية التي بدأت في البلاد الايطالية في القرن 14 م حيث بلغت أوج ازدهارها في القرنين 15-16 م ، ومن ايطاليا انتشرت النهضة إلى فرنسا واسبانيا وألمانيا وهولندا وانجلترا والى سائر أوربا... من أعظم شخصيات النهضة ليوناردو دافينشي وميكافيلي ، وكان لهذه الحقبة تأثير واسع في الفن والعمارة وتكوين العقل الحديث وعودة واعية للمثل العليا ، اتسمت هذه الفترة بظهور طائفة كبيرة من الرحالة والمكتشفين و الملاحين منهم كريستوف كولمبوس ، وفاسكو دي غاما ..."

المصدر : موسوعة ويكيبيديا .

### المطلوب:

- اعتمادا على السند ومعارفك المكتسبة :

- 1- عرف بمضمون الوثيقة .
  - 2- استخرج مظاهر النهضة من خلال الوثيقة
  - 3- برزت في أوربا الحركة القومية خاصة في ايطاليا وألمانيا .
- اذكر عوامل نجاح الحركة القومية .

# مادة الجغرافيا


## الجزء الاول: (06 ن).


1 اشرح المصطلحات التالية:

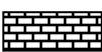
– الكثافة السكانية – المدينة – الاحتياطي العالمي .

## الجزء الثاني: (04 ن).

1- وزع على الخريطة الكثافة السكانية في العالم حسب المفتاح التالي :

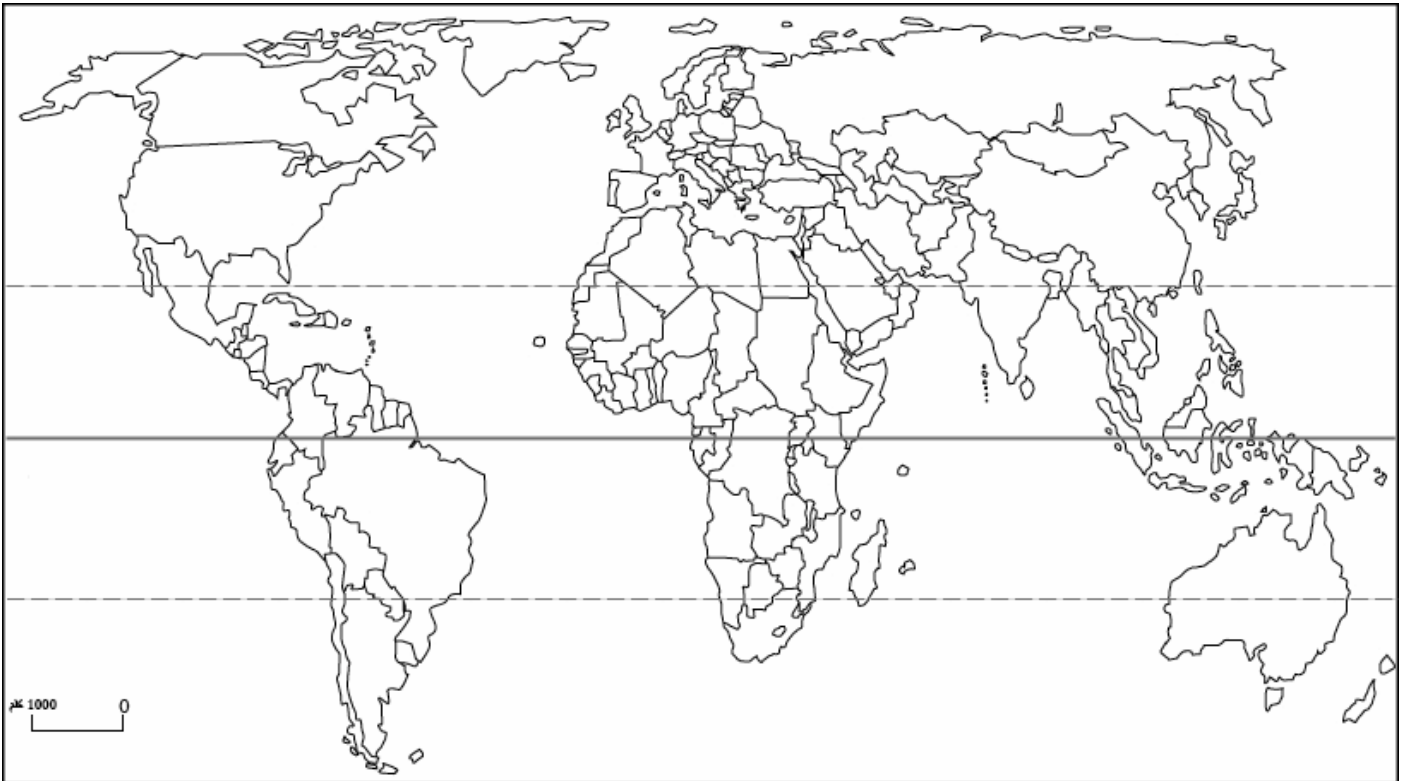
أكثر من 100 ن/كلم<sup>2</sup> 

اقل من 100 ن/كلم<sup>2</sup> 

اقل من 10 ن/كلم<sup>2</sup> 

2- ادرس توزيع السكان في العالم مع التعليل .

3- العوامل المتحكمة في توزيع السكان في العالم ، وحلل عامل من العوامل من اختيارك



.....: القسم :

الاسم واللقب

تمنياتنا لكم بالتوفيق  
والنجاح